

題目編碼	IF01001	題 型	單選	難易度	難
題 目	下列之記憶體中，何者存取資料之速度最快？				
答 案	1				
選項 1	快取記憶體				
選項 2	唯讀記憶體				
選項 3	隨機記憶體				
選項 4	虛擬記憶體				

題目編碼	IF01002	題 型	單選	難易度	易
題 目	在量販店內，商品包裝上所貼的「條碼(bar code)」係協助結帳及庫存盤點之用，則該條碼在此方面之資料處理作業上係屬於				
答 案	2				
選項 1	輸入設備				
選項 2	輸入媒體				
選項 3	輸出設備				
選項 4	輸出媒體				

題目編碼	IF01003	題 型	單選	難易度	難
題 目	金融機構所提供之「提款卡」，可提供使用者進行提款之作業，則該提款卡此方面之資料處理作業上係屬於				
答 案	4				
選項 1	輸出設備				
選項 2	輸出媒體				
選項 3	輸入設備				
選項 4	輸入媒體				

題目編碼	IF01004	題 型	單選	難易度	易
題 目	下列何者之傳輸速度最快？				
答 案	2				
選項 1	電話線				
選項 2	光纖				
選項 3	同軸電纜				
選項 4	雙絞線				

題目編碼	IF01005	題 型	單選	難易度	難
題 目	下列何者為資料傳輸速度的單位？				
答 案	3				
選項 1	BPI				
選項 2	CPI				
選項 3	BPS				
選項 4	CPS				

題目編碼	IF01006	題 型	單選	難易度	難
題 目	數據機(MODEM)傳輸速度的單位為何？				
答 案	3				
選項 1	BPI				
選項 2	CPI				
選項 3	BPS				
選項 4	CPS				

題目編碼	IF01007	題 型	單選	難易度	難
題 目	個人電腦透過電話線通訊時，須再配合下列那一種設備？				
答 案	1				
選項 1	數據機(MODEM)				
選項 2	多工機(multiplexer)				
選項 3	前端機(front-end)				
選項 4	集訊機(concentrator)				

題目編碼	IF01008	題 型	單選	難易度	難
題 目	下列各專有名詞對照中，何者是錯誤者？				
答 案	4				
選項 1	OA：辦公室自動化				
選項 2	BBS：電子佈告欄				
選項 3	Email：電子郵件				
選項 4	LAN：廣域網路				

題目編碼	IF01009	題 型	單選	難易度	易
題 目	專有名詞「WWW」之中文名稱係指下列何者？				
答 案	3				
選項 1	區域網路				
選項 2	網際網路				
選項 3	全球資訊網				
選項 4	電子佈告欄				

題目編碼	IF01010	題 型	單選	難易度	難
題 目	在 ASCII Code 的表示法中，下列之大小關係何者為錯誤者？				
答 案	1				
選項 1	$A > B > C$				
選項 2	$c > b > a$				
選項 3	$3 > 2 > 1$				
選項 4	$p > g > e$				

題目編碼	IF01011	題 型	單選	難易度	易
題 目	以下那種裝置只能做為輸出設備使用，無法做為輸入設備使用？				

答案	1
選項 1	印表機
選項 2	鍵盤
選項 3	觸摸式螢幕
選項 4	光筆

題目編碼	IF01012	題 型	單選	難易度	難
題 目	在微電腦系統中，要安裝週邊設備時，常在電腦主機板上安插一硬體配件，以便系統和週邊設備能適當溝通，其中該配件名稱為何？				
答 案	1				
選項 1	介面卡				
選項 2	讀卡機				
選項 3	繪圖機				
選項 4	掃描器				

題目編碼	IF01013	題 型	單選	難易度	難
題 目	個人電腦(PC)通常採用「ASCII 碼」作為內部資料處理或數據傳輸方面的交換碼，其編碼方式為何？				
答 案	1				
選項 1	7 位元二進位碼				
選項 2	4 位元二進位碼				
選項 3	6 位元二進位碼				
選項 4	8 位元二進位碼				

題目編碼	IF01014	題 型	單選	難易度	易
題 目	僅能當做輸入裝置者為何？				
答 案	4				
選項 1	磁碟機				
選項 2	列表機				
選項 3	螢幕				
選項 4	讀卡機				

題目編碼	IF01015	題 型	單選	難易度	難
題 目	同時兼具有輸入和輸出功能的裝置為何？				
答 案	3				
選項 1	滑鼠				
選項 2	列表機				
選項 3	磁碟機				
選項 4	掃描器				

題目編碼	IF01016	題 型	單選	難易度	難
題 目	表示 0 到 9 的十進制數值，至少需要幾個二進位位元？				

答案	1
選項 1	4
選項 2	3
選項 3	2
選項 4	1

題目編碼	IF01017	題 型	單選	難易度	易
題 目	以「http://www.labor.gov.tw」來表示，則下列何者代表國家或地理區域之網域？				
答 案	4				
選項 1	www				
選項 2	labor				
選項 3	gov				
選項 4	tw				

題目編碼	IF01018	題 型	單選	難易度	易
題 目	以下那一個可為圖形檔的副檔名？				
答 案	3				
選項 1	.HTML				
選項 2	.DOC				
選項 3	.GIF				
選項 4	.EXE				

題目編碼	IF01019	題 型	單選	難易度	易
題 目	下列何者為計算機的心臟，且由控制單元與算術邏輯單元所組成？				
答 案	4				
選項 1	ALU				
選項 2	CU				
選項 3	Register				
選項 4	CPU				

題目編碼	IF01020	題 型	單選	難易度	難
題 目	下列有關「記憶體」之敘述中，何者錯誤？				
答 案	4				
選項 1	隨機存取記憶體(RAM)可讀取且可寫入				
選項 2	唯讀記憶體(ROM)只能讀取，但不可寫入				
選項 3	一般而言，主記憶體指的是 RAM				
選項 4	ROM 儲存應用程式，且電源關閉後，所儲存的資料將消失				

題目編碼	IF01021	題 型	單選	難易度	難
題 目	連接主機與週邊設備之介面卡是插在何處？				
答 案	2				
選項 1	CPU				

選項 2	擴充槽
選項 3	主機外面
選項 4	記憶單元

題目編碼	IF01022	題 型	單選	難易度	難
題 目	有關「CPU 及記憶體處理」之說明，下列何者錯誤？				
答 案	2				
選項 1	控制單元負責指揮協調各單元運作				
選項 2	I/O 負責算術運算及邏輯運算				
選項 3	ALU 負責算術運算及邏輯運算				
選項 4	記憶單元儲存程式指令及資料				

題目編碼	IF01023	題 型	單選	難易度	難
題 目	設 $B=5$ ， $C=10$ ，則計算 $A=B+C$ 時，控制單元是到何處取出代表 B 及 C 之值，再送到 ALU 相加？				
答 案	3				
選項 1	輸入單元				
選項 2	CPU				
選項 3	記憶體				
選項 4	輸出單元				

題目編碼	IF01024	題 型	單選	難易度	難
題 目	CPU 必先將要存取的位址存入何處，才能到主記憶體中存取資料？				
答 案	2				
選項 1	資料暫存器				
選項 2	位址暫存器				
選項 3	輸出單元				
選項 4	指令暫存器				

題目編碼	IF01025	題 型	單選	難易度	易
題 目	1258291 Bytes 約為？				
答 案	4				
選項 1	1.2KB				
選項 2	1.2GB				
選項 3	121KB				
選項 4	1.2MB				

題目編碼	IF01026	題 型	單選	難易度	難
題 目	下列那一個數字不是二進位數的表示法？				
答 案	2				
選項 1	101				
選項 2	1A				

選項 3	1
選項 4	11001

題目編碼	IF01027	題 型	單選	難易度	易
題 目	以「hello@mymail.com.tw」來表示，@的左邊「hello」代表的是				
答 案	4				
選項 1	個人的網址				
選項 2	個人的姓名				
選項 3	個人的密碼				
選項 4	個人的帳號				

題目編碼	IF01028	題 型	單選	難易度	難
題 目	下列關於「RAM」的敘述中，那一項是錯誤的？				
答 案	4				
選項 1	儲存的資料能被讀出				
選項 2	電源關掉後，所儲存的資料內容都消失				
選項 3	能寫入資料				
選項 4	與 ROM 的主要差別在於記憶容量大小				

題目編碼	IF01029	題 型	單選	難易度	易
題 目	在接收郵件時，若郵件上出現「迴紋針」符號，表示此封郵件				
答 案	3				
選項 1	為「急件」				
選項 2	為「已刪除」郵件				
選項 3	含有「附加檔案」的郵件				
選項 4	帶有病毒的郵件				

題目編碼	IF01030	題 型	單選	難易度	難
題 目	資料傳輸時可作雙向傳輸，但無法同時雙向傳輸的傳輸方法為何？				
答 案	2				
選項 1	單工				
選項 2	半雙工				
選項 3	多工				
選項 4	全雙工				

題目編碼	IF01031	題 型	單選	難易度	難
題 目	下列何者不屬於區域網路的標準？				
答 案	4				
選項 1	Ethernet				
選項 2	Token Ring				
選項 3	ARCnet				
選項 4	Seednet				

題目編碼	IF01032	題 型	單選	難易度	易
題 目	螢幕的輸出品質由那項標準而定？				
答 案	1				
選項 1	解析度				
選項 2	重量				
選項 3	輸出速度				
選項 4	大小				

題目編碼	IF01033	題 型	單選	難易度	難
題 目	在各種多媒體播放程式下，下列何種檔案非屬可播放的音樂檔案類型？				
答 案	4				
選項 1	.mp3				
選項 2	.wav				
選項 3	.mid				
選項 4	.jpg				

題目編碼	IF01034	題 型	單選	難易度	難
題 目	「十進制數的 17」等於十六進制數的多少？				
答 案	2				
選項 1	17				
選項 2	11				
選項 3	10				
選項 4	21				

題目編碼	IF01035	題 型	單選	難易度	難
題 目	若要使用滑鼠來操作，下列那一個輸出入埠(port)可用來連接滑鼠？				
答 案	1				
選項 1	COM1				
選項 2	LPT1				
選項 3	CON				
選項 4	LPT2				

題目編碼	IF01036	題 型	單選	難易度	難
題 目	作業系統提供了一個介於電腦與使用者之間的一個界面，其中該作業系統係包含了下列何種功能，使得使用者不需關心檔案之儲存方式與位置？				
答 案	4				
選項 1	保護系統				
選項 2	輸出入系統				
選項 3	記憶體管理系統				
選項 4	檔案管理系統				

題目編碼	IF01037	題 型	單選	難易度	難
題 目	印表機通常可以連接在主機的何處？				
答 案	3				
選項 1	COM1				
選項 2	COM2				
選項 3	LPT1				
選項 4	Game Port				

題目編碼	IF01038	題 型	單選	難易度	易
題 目	螢幕的信號線插頭須插在主機的何處？				
答 案	2				
選項 1	LPT1				
選項 2	顯示卡接頭				
選項 3	Game Port				
選項 4	COM1				

題目編碼	IF01039	題 型	單選	難易度	難
題 目	下列何者不是 CPU 內控制單元的功能？				
答 案	3				
選項 1	讀出程式並解釋				
選項 2	控制程式與資料進出主記憶體				
選項 3	計算結果並輸出				
選項 4	啟動處理器內部各單元動作				

題目編碼	IF01040	題 型	單選	難易度	易
題 目	繪圖機是屬於何種裝置？				
答 案	1				
選項 1	輸出裝置				
選項 2	記憶裝置				
選項 3	處理裝置				
選項 4	輸入裝置				

題目編碼	IF01041	題 型	單選	難易度	易
題 目	雷射印表機是一種				
答 案	1				
選項 1	輸出設備				
選項 2	輸入裝置				
選項 3	利用打擊色帶印字機器				
選項 4	撞擊式印表機				

題目編碼	IF01042	題 型	單選	難易度	易
題 目	下列何者可用以辨識磁軌存放資料的起始位置？				



答案	3
選項 1	讀寫槽
選項 2	轉軸孔
選項 3	索引孔
選項 4	防寫孔

題目編碼	IF01043	題 型	單選	難易度	難
題 目	下列何者可以分擔部份 CPU 的浮點計算工作，以提高系統的速度？				
答 案	4				
選項 1	快取記憶體控制器(Cache Controller)				
選項 2	前端處理器(Front-End Processor)				
選項 3	磁碟控制器(Disk Controller)				
選項 4	協同處理機(Coprocessor)				

題目編碼	IF01044	題 型	單選	難易度	難
題 目	CPU 中的控制單元主要功能在控制電腦的動作，下列何者不是控制單元所執行的動作？				
答 案	4				
選項 1	控制				
選項 2	解碼				
選項 3	執行				
選項 4	計算				

題目編碼	IF01045	題 型	單選	難易度	難
題 目	Internet 是採用下列何種通訊協定？				
答 案	1				
選項 1	TCP/IP				
選項 2	ISO 的 OSI				
選項 3	X.25				
選項 4	HDLC				

題目編碼	IF01046	題 型	單選	難易度	易
題 目	使用 IE 連上 Internet 上的「桃花源資訊網」後，但希望以後能可以快速的再連到該站，最好的做法是？				
答 案	3				
選項 1	將網址抄起來				
選項 2	存檔				
選項 3	加到我的最愛				
選項 4	照相存證				

題目編碼	IF01047	題 型	單選	難易度	難
題 目	通常電腦內部表示負的整數是用				
答 案	1				

選項 1	2 的補數表示法
選項 2	8 的補數表示法
選項 3	10 的補數表示法
選項 4	9 的補數表示法

題目編碼	IF01048	題 型	單選	難易度	難
題 目	一個邏輯閘，若有任一輸入為 1 時，其輸出為 0，則此邏輯閘為				
答 案	3				
選項 1	XOR 閘				
選項 2	AND 閘				
選項 3	NOR 閘				
選項 4	OR 閘				

題目編碼	IF01049	題 型	單選	難易度	難
題 目	二進制數值 1101001 轉換為十六進制時，其值為				
答 案	1				
選項 1	69				
選項 2	39				
選項 3	8A				
選項 4	7A				

題目編碼	IF01050	題 型	單選	難易度	易
題 目	電腦最基本的運算方式為何？				
答 案	1				
選項 1	加法				
選項 2	除法				
選項 3	減法				
選項 4	乘法				

題目編碼	IF01051	題 型	單選	難易度	難
題 目	下列資料單位何者為由小而大順序排列？				
答 案	3				
選項 1	GB TB KB MB				
選項 2	TB MB GB KB				
選項 3	KB MB GB TB				
選項 4	MB KB GB TB				

題目編碼	IF01052	題 型	單選	難易度	難
題 目	英文字母「A」的 10 進制 ASCII 值為 65，則字母「Q」的 16 進制 ASCII 值為				
答 案	3				
選項 1	73				
選項 2	81				

選項 3	51
選項 4	50

題目編碼	IF01053	題 型	單選	難易度	難
題 目	1101111001 之 2 的補數為下列何者？				
答 案	3				
選項 1	1111111001				
選項 2	1101111010				
選項 3	10000111				
選項 4	10000110				

題目編碼	IF01054	題 型	單選	難易度	難
題 目	「資料緩衝區(Data Buffer)」的作用為何？				
答 案	2				
選項 1	防止因斷電所造成之資料流失				
選項 2	暫存資料，以做後續處理				
選項 3	增加硬碟(Hard Disk)之容量				
選項 4	避免電腦當機				

題目編碼	IF01055	題 型	單選	難易度	難
題 目	在網際網路(Internet)上，用什麼來識別電腦？				
答 案	2				
選項 1	URL				
選項 2	IP Address				
選項 3	computer ID				
選項 4	computer name				

題目編碼	IF01056	題 型	單選	難易度	易
題 目	下列何者為主機與週邊設備溝通時不可或缺之管道？				
答 案	1				
選項 1	匯流排(Bus)				
選項 2	音效卡				
選項 3	9-Pin 接頭				
選項 4	電話線				

題目編碼	IF01057	題 型	單選	難易度	難
題 目	那一種服務可將「Domain Name」對應為「IP Address」？				
答 案	2				
選項 1	WINS				
選項 2	DNS				
選項 3	DHCP				
選項 4	Proxy				

題目編碼	IF01058	題 型	單選	難易度	易
題 目	電腦的那一個部份負責從主記憶體讀取並解釋指令？				
答 案	1				
選項 1	控制單元				
選項 2	主記憶體				
選項 3	輸出／入單元				
選項 4	算術邏輯單元				

題目編碼	IF01059	題 型	單選	難易度	難
題 目	二進制數值「00001101」之「1的補數」為何？				
答 案	2				
選項 1	11110011				
選項 2	11110010				
選項 3	10001101				
選項 4	1110				

題目編碼	IF01060	題 型	單選	難易度	易
題 目	下列何者屬於輸出裝置？				
答 案	2				
選項 1	數位板				
選項 2	終端顯示器				
選項 3	鍵盤				
選項 4	滑鼠				

題目編碼	IF01061	題 型	單選	難易度	難
題 目	磁碟機讀寫頭移到正確磁軌所花的時間稱為				
答 案	1				
選項 1	找尋時間(Seek Time)				
選項 2	設定時間(Setting Time)				
選項 3	資料傳輸速率(Data Transfer Rate)				
選項 4	延遲時間(Latency)				

題目編碼	IF01062	題 型	單選	難易度	難
題 目	一般高速印表機之印表速度的計量單位為何？				
答 案	4				
選項 1	TPI(Track Per Inch)				
選項 2	CPS(Character Per Second)				
選項 3	DPI(Dot Per Inch)				
選項 4	LPS(Line Per Second)				

題目編碼	IF01063	題 型	單選	難易度	難
------	---------	-----	----	-----	---

題目	「同位檢查(Parity Checking)」是一項資料錯誤檢查的技術，下列何者不具有「偶同位性」？			
答案	3			
選項 1	111111110			
選項 2	101110000			
選項 3	11110100			
選項 4	11100001			

題目編碼	IF01064	題 型	單選	難易度	易
題 目	下列中文輸入法中，何者不是注音符號輸入法之衍生方法？				
答 案	3				
選項 1	漢音輸入法				
選項 2	輕鬆輸入法				
選項 3	嘸蝦米輸入法				
選項 4	國音輸入法				

題目編碼	IF01065	題 型	單選	難易度	難
題 目	I/O 裝置、CPU 與記憶體間之資料傳送，經由系統匯流排傳送，下列何者不是系統匯流排？				
答 案	3				
選項 1	資料匯流排				
選項 2	位址匯流排				
選項 3	通用匯流排				
選項 4	控制匯流排				

題目編碼	IF01066	題 型	單選	難易度	難
題 目	微處理器與外部連接之各種訊號匯流排，何者具有雙向流通性？				
答 案	1				
選項 1	資料匯流排				
選項 2	狀態匯流排				
選項 3	控制匯流排				
選項 4	位址匯流排				

題目編碼	IF01067	題 型	單選	難易度	難
題 目	在 Internet 上的每一台電腦主機都有一個唯一的識別號，這個識別號就是？				
答 案	3				
選項 1	CPU 編號				
選項 2	帳號				
選項 3	IP 位址				
選項 4	PROXY				

題目編碼	IF01068	題 型	單選	難易度	難
題 目	IP 位址通常是由四組數字所組成的，每組數字之範圍為何？				
答 案	3				

選項 1	0~999
選項 2	0~127
選項 3	0~255
選項 4	0~512

題目編碼	IF01069	題 型	單選	難易度	難
題 目	十進制數(60.875)以二進制表示為何？				
答 案	3				
選項 1	110110.111				
選項 2	101110.11				
選項 3	111100.111				
選項 4	110100.11				

題目編碼	IF01070	題 型	單選	難易度	難
題 目	二進制數 1011 1001 1100 0011 以十六進制表示為何？				
答 案	3				
選項 1	C9E3				
選項 2	A9D3				
選項 3	B9C3				
選項 4	C8E4				

題目編碼	IF01071	題 型	單選	難易度	易
題 目	一般若要使用 Internet，為了安全性與保密性，必須要有密碼及下列哪一項才能進入？				
答 案	1				
選項 1	帳號				
選項 2	信用卡號				
選項 3	身份證字號				
選項 4	學號				

題目編碼	IF01072	題 型	單選	難易度	難
題 目	將軟體程式利用硬體電路方式儲存於 ROM、PROM 或 EPROM 中，此種「微程式規劃 (Micro-programming)」技術，我們稱之為？				
答 案	4				
選項 1	硬體				
選項 2	軟電路				
選項 3	軟體				
選項 4	韌體				

題目編碼	IF01073	題 型	單選	難易度	難
題 目	假設某一 CPU 共有 20 條位址線，請問可定址出之實體記憶空間為				
答 案	1				
選項 1	1MB				

選項 2	512KB
選項 3	16MB
選項 4	64KB

題目編碼	IF01074	題 型	單選	難易度	難
題 目	二進位編碼所組成的資料在運用時，通常會另加一個 bit，用來檢查資料是否正確，此 bit 稱為？				
答 案	3				
選項 1	check bit				
選項 2	extended bit				
選項 3	parity bit				
選項 4	redundancy bit				

題目編碼	IF01075	題 型	單選	難易度	難
題 目	RS-232C 介面是屬於				
答 案	1				
選項 1	序列式介面				
選項 2	顯示介面				
選項 3	搖桿介面				
選項 4	並列式介面				

題目編碼	IF01076	題 型	單選	難易度	易
題 目	在主記憶體中，提供程式執行輸入或輸出敘述，存取資料記錄的暫時儲存區，稱之為				
答 案	1				
選項 1	緩衝區				
選項 2	記錄區				
選項 3	磁區				
選項 4	控制區				

題目編碼	IF01077	題 型	單選	難易度	易
題 目	條碼閱讀機屬於				
答 案	3				
選項 1	輸出設備				
選項 2	CPU				
選項 3	輸入設備				
選項 4	記憶設備				

題目編碼	IF01078	題 型	單選	難易度	難
題 目	下列兩個八進位數值之和為何？ $(23.4)_{8}+(56.4)_{8}=?$				
答 案	2				
選項 1	-66				
選項 2	-102				
選項 3	$(79.8)_{8}$				

選項 4	-515.1
------	--------

題目編碼	IF01079	題 型	單選	難易度	難
題 目	八進位數值(2345.67)轉換成十六進位數值為				
答 案	4				
選項 1	-59.13				
選項 2	-95.13				
選項 3	(45E.DC)				
選項 4	(4E5.DC)				

題目編碼	IF01080	題 型	單選	難易度	易
題 目	「全球資訊網(World Wide Web)」使用最普遍的是那一種格式？				
答 案	2				
選項 1	.doc				
選項 2	.htm				
選項 3	.txt				
選項 4	.dbf				

題目編碼	IF01081	題 型	單選	難易度	難
題 目	二進位數值「01101101」，其「2 的補數」值為何？				
答 案	3				
選項 1	1101101				
選項 2	10010010				
選項 3	10010011				
選項 4	1101110				

題目編碼	IF01082	題 型	單選	難易度	難
題 目	八進位數值(456)轉換成十六進位數值為何？				
答 案	2				
選項 1	12F				
選項 2	12E				
選項 3	12D				
選項 4	228				

題目編碼	IF01083	題 型	單選	難易度	易
題 目	磁碟每一面都由很多同心圓組成，這些同心圓稱為				
答 案	2				
選項 1	磁區(Sector)				
選項 2	磁軌(Track)				
選項 3	磁頭(Head)				
選項 4	磁柱(Cylinder)				



題目編碼	IF01084	題 型	單選	難易度	易
題 目	下列何者是「可程式唯讀記憶體」之縮寫？				
答 案	1				
選項 1	PROM				
選項 2	BIOS				
選項 3	RAM				
選項 4	ROM				

題目編碼	IF01085	題 型	單選	難易度	易
題 目	「BIOS(基本輸入輸出系統)」通常儲存於下列何種記憶體中？				
答 案	3				
選項 1	軟碟				
選項 2	硬碟				
選項 3	ROM				
選項 4	RAM				

題目編碼	IF01086	題 型	單選	難易度	易
題 目	鍵盤是屬於				
答 案	3				
選項 1	輸出設備				
選項 2	輸出媒體				
選項 3	輸入設備				
選項 4	輸入媒體				

題目編碼	IF01087	題 型	單選	難易度	難
題 目	有關「CPU」的描述，下列何者有誤？				
答 案	1				
選項 1	個人電腦的 CPU 一定是 16 位元				
選項 2	CPU 中具有儲存資料能力的是暫存器				
選項 3	一部電腦中可以有二個以上的 CPU				
選項 4	一部電腦的執行速度主要是由 CPU 的處理速度決定				

題目編碼	IF01088	題 型	單選	難易度	難
題 目	「程式計數器(Program Counter)」的作用為何？				
答 案	4				
選項 1	存放錯誤指令的個數				
選項 2	存放資料處理的結果				
選項 3	存放程式指令				
選項 4	存放下一個要被執行的指令位址				

題目編碼	IF01089	題 型	單選	難易度	易
題 目	可以直接被電腦接受的語言是				

答案	1
選項 1	機器語言
選項 2	組合語言
選項 3	C 語言
選項 4	高階語言

題目編碼	IF01090	題 型	單選	難易度	難
題 目	以電腦通訊傳輸媒體的傳輸速度而言，下列何種介質最快？				
答 案	2				
選項 1	雙絞線				
選項 2	光纖				
選項 3	電話線				
選項 4	同軸電纜				

題目編碼	IF01091	題 型	單選	難易度	難
題 目	在個人電腦中，磁碟機存取資料時，何者可為其存取單位？				
答 案	2				
選項 1	DPI				
選項 2	Sector				
選項 3	Track				
選項 4	bit				

題目編碼	IF01092	題 型	單選	難易度	難
題 目	微秒(Microseconds)是計量電腦速度的微小時間單位之一，一微秒等於				
答 案	4				
選項 1	千分之一秒				
選項 2	十萬分之一秒				
選項 3	萬分之一秒				
選項 4	百萬分之一秒				

題目編碼	IF01093	題 型	單選	難易度	難
題 目	算術及邏輯單元負責執行所有的運算，而主記憶體與 ALU 之間的資料傳輸，由誰負責監督執行？				
答 案	3				
選項 1	監督程式				
選項 2	主記憶體				
選項 3	控制單元				
選項 4	輸入輸出裝置				

題目編碼	IF01094	題 型	單選	難易度	易
題 目	下列何者是「中央處理單元」的英文縮寫？				
答 案	3				

選項 1	I/O
選項 2	PLC
選項 3	CPU
選項 4	UPS

題目編碼	IF01095	題 型	單選	難易度	難
題 目	「資料處理(Data Processing)」的基本作業是				
答 案	3				
選項 1	輸出、處理、輸入				
選項 2	輸入輸出、處理、列印				
選項 3	輸入、處理、輸出				
選項 4	輸入輸出、顯示、列印				

題目編碼	IF01096	題 型	單選	難易度	難
題 目	負責電腦開機時執行系統自動偵測及支援相關應用程式，具輸入輸出功能的元件是				
答 案	2				
選項 1	DOS				
選項 2	BIOS				
選項 3	I/O				
選項 4	RAM				

題目編碼	IF01097	題 型	單選	難易度	難
題 目	將類似資料收集起來於固定時間一起處理的作業方式稱為				
答 案	2				
選項 1	連線處理				
選項 2	批次處理				
選項 3	即時處理				
選項 4	分時處理				

題目編碼	IF01098	題 型	單選	難易度	難
題 目	電子計算機的記憶體容量之大小與 2 的次方有關，所謂 1M 是指 2 的幾次方？				
答 案	3				
選項 1	15				
選項 2	10				
選項 3	20				
選項 4	50				

題目編碼	IF01099	題 型	單選	難易度	易
題 目	將電路的所有電子元件，如電晶體、二極體、電阻等，製造在一個矽晶片上之電腦元件稱為				
答 案	3				
選項 1	電晶體				
選項 2	真空管				

選項 3	積體電路(Integrated Circuit)
選項 4	中央處理單元(CPU)

題目編碼	IF01100	題 型	單選	難易度	易
題 目	以「http://www.myweb.com.tw」而言，下列何者代表公司的網域？				
答 案	2				
選項 1	www				
選項 2	myweb				
選項 3	com				
選項 4	tw				

題目編碼	IF01101	題 型	單選	難易度	難
題 目	若一年以 365 日計算，則須使用多少位元才可表示該數目 365？				
答 案	2				
選項 1	1				
選項 2	9				
選項 3	18				
選項 4	2				

題目編碼	IF01102	題 型	單選	難易度	易
題 目	假設電腦係由五大部門所組成，則專門負責電腦系統之指揮及控制的為何？				
答 案	1				
選項 1	控制單元				
選項 2	輸出入單元				
選項 3	算術／邏輯單元				
選項 4	記憶單元				

題目編碼	IF01103	題 型	單選	難易度	易
題 目	在網際網路的網域組織中，下列敘述何者是錯誤的？				
答 案	3				
選項 1	gov 代表政府機構				
選項 2	edu 代表教育機構				
選項 3	net 代表財團法人				
選項 4	com 代表商業機構				

題目編碼	IF01104	題 型	單選	難易度	難
題 目	網際網路的 IP 位址長度係由多少位元所組成？				
答 案	2				
選項 1	16				
選項 2	32				
選項 3	48				
選項 4	64				

題目編碼	IF01105	題 型	單選	難易度	易
題 目	已知網際網路的 IP 位址係由四組數字所組成，請問下列表示法中何者是錯誤的？				
答 案	1				
選項 1	140.6.36.300				
選項 2	140.6.20.8				
選項 3	168.95.182.6				
選項 4	200.100.60.80				

題目編碼	IF01106	題 型	單選	難易度	易
題 目	下列哪一種軟體是用來作為電腦輔助教學之用？				
答 案	1				
選項 1	CAI				
選項 2	CAM				
選項 3	CAE				
選項 4	CAD				

題目編碼	IF01107	題 型	單選	難易度	難
題 目	下列何者不是通用串列匯流排(USB)的特色？				
答 案	4				
選項 1	高傳輸速率				
選項 2	支援熱插拔(Hot Swapping)功能				
選項 3	支援隨插即用(Plug and Play)功能				
選項 4	僅能使用於儲存裝置				

題目編碼	IF01108	題 型	單選	難易度	難
題 目	在二進位數系統中，(00111100)XOR(11000011)的結果為				
答 案	1				
選項 1	11111111				
選項 2	0				
選項 3	111100				
選項 4	1111				

題目編碼	IF01109	題 型	單選	難易度	難
題 目	布林(Boolean)代數的運算中，下列何者不正確？				
答 案	4				
選項 1	$1+1=1$				
選項 2	$0+1=1$				
選項 3	$0+0=0$				
選項 4	$0+x=0$				

題目編碼	IF01110	題 型	單選	難易度	易
------	---------	-----	----	-----	---

題目	一個邏輯閘，若有任一輸入為 1 時，其輸出為 1，則此邏輯閘為			
答案	2			
選項 1	AND 閘			
選項 2	OR 閘			
選項 3	NAND 閘			
選項 4	NOR 閘			

題目編碼	IF01111	題 型	單選	難易度	易
題目	「校務行政管理系統」是屬於				
答案	3				
選項 1	作業系統				
選項 2	工具程式				
選項 3	專案開發軟體				
選項 4	驅動程式				

題目編碼	IF01112	題 型	單選	難易度	難
題目	下列哪一個不是磁碟機的資料傳輸介面技術？				
答案	4				
選項 1	IDE				
選項 2	SATA				
選項 3	SCSI				
選項 4	LPT				

題目編碼	IF01113	題 型	單選	難易度	易
題目	下列哪一個元件不屬於輔助儲存元件？				
答案	4				
選項 1	光碟				
選項 2	硬碟				
選項 3	隨身碟				
選項 4	記憶體				

題目編碼	IF01114	題 型	單選	難易度	易
題目	「二進位數 1010101」等於「八進位數」的				
答案	2				
選項 1	123				
選項 2	125				
選項 3	521				
選項 4	522				

題目編碼	IF01115	題 型	單選	難易度	易
題目	「二進位數 01111」等於「十進位數」的				
答案	3				

選項 1	10
選項 2	16
選項 3	15
選項 4	1000

題目編碼	IF01116	題 型	單選	難易度	易
題 目	「十進位數 77」等於「八進位數」的				
答 案	1				
選項 1	115				
選項 2	116				
選項 3	117				
選項 4	114				

題目編碼	IF01117	題 型	單選	難易度	易
題 目	「十六進位數 7D1」等於「十進位數」的				
答 案	3				
選項 1	2003				
選項 2	2101				
選項 3	2001				
選項 4	2103				

題目編碼	IF01118	題 型	單選	難易度	易
題 目	「十六進位數 1A1B」等於「八進位數」的				
答 案	4				
選項 1	977				
選項 2	6684				
選項 3	1123				
選項 4	15033				

題目編碼	IF01119	題 型	單選	難易度	易
題 目	「十六進位數 F0」等於「二進位數」的				
答 案	2				
選項 1	1111				
選項 2	11110000				
選項 3	11000011				
選項 4	111100				

題目編碼	IF01120	題 型	單選	難易度	易
題 目	「八進位數 123」等於「十進位數」的				
答 案	1				
選項 1	83				
選項 2	38				

選項 3	79
選項 4	97

題目編碼	IF01121	題 型	單選	難易度	難
題 目	1 個「八進位」的數字可由幾個「二進位」的數字組成				
答 案	2				
選項 1	2				
選項 2	3				
選項 3	4				
選項 4	5				

題目編碼	IF01122	題 型	單選	難易度	難
題 目	在電腦系統中，下列有關儲存容量單位的敘述何者錯誤？				
答 案	3				
選項 1	1GB=1024MB				
選項 2	1MB=1024KB				
選項 3	1KB=1024TB				
選項 4	1TB=1024GB				

題目編碼	IF01123	題 型	單選	難易度	難
題 目	假設某一部個人電腦之記憶體容量為 512MB，則該記憶體容量等於				
答 案	3				
選項 1	512000KB				
選項 2	1GB				
選項 3	524288KB				
選項 4	2GB				

題目編碼	IF01124	題 型	單選	難易度	難
題 目	若利用 5bit 來表示整數型態資料，且最左位元 0 代表正數、1 代表負數，負數與正數間互為 1 的補數，則可表示之範圍為				
答 案	3				
選項 1	15~-16				
選項 2	16~-15				
選項 3	15~-15				
選項 4	16~-16				

題目編碼	IF01125	題 型	單選	難易度	易
題 目	在電腦系統中，1 個位元組(Byte)由幾個位元(bit)組成？				
答 案	2				
選項 1	4 個				
選項 2	8 個				
選項 3	10 個				



選項 4	16 個
------	------

題目編碼	IF01126	題 型	單選	難易度	難
題 目	若利用 8bit 來表示整數型態資料，且最左位元 0 代表正數、1 代表負數，負數與正數間互為 2 的補數，則可表示之範圍為				
答 案	3				
選項 1	128~-128				
選項 2	127~-127				
選項 3	127~-128				
選項 4	128~-127				

題目編碼	IF01127	題 型	單選	難易度	難
題 目	設 A 為 bit，B 為 Record，C 為 Field，D 為 Character，通常在電腦內所佔空間的大小，由小到 大之順序為				
答 案	2				
選項 1	ABCD				
選項 2	ADCB				
選項 3	ACDB				
選項 4	ACBD				

題目編碼	IF01128	題 型	單選	難易度	難
題 目	下列何者是一般用來表示雷射印表機的列印速度？				
答 案	3				
選項 1	DPI(Dot Per Inch)				
選項 2	CPS(Character Per Second)				
選項 3	PPM(Page Per Minute)				
選項 4	CPI(Character Per Inch)				

題目編碼	IF01129	題 型	單選	難易度	難
題 目	一般衡量電腦執行速率，主要是比較下列哪一個單元？				
答 案	4				
選項 1	輸入單元				
選項 2	輸出單元				
選項 3	記憶單元				
選項 4	中央處理單元				

題目編碼	IF01130	題 型	單選	難易度	難
題 目	下列哪一種類型的電腦適合使用在氣象預測及太空科學研發等領域				
答 案	2				
選項 1	微電腦				
選項 2	超級電腦				
選項 3	工作站				

選項 4	嵌入式電腦
------	-------

題目編碼	IF01131	題 型	單選	難易度	難
題 目	某遊樂場有一「太空船」遊戲設施，只要看著螢幕，就有如親臨現場，相當震撼，這是使用下列哪一種技術？				
答 案	1				
選項 1	虛擬實境				
選項 2	雷射掃瞄				
選項 3	感應體溫				
選項 4	眼球虹膜辨識				

題目編碼	IF01132	題 型	單選	難易度	難
題 目	PDA、數位相機、隨身碟等消費性電子設備，大多是使用何種儲存媒體？				
答 案	4				
選項 1	RAM				
選項 2	ROM				
選項 3	PROM				
選項 4	flash memory				

題目編碼	IF01133	題 型	單選	難易度	難
題 目	有一台數位相機擁有 800 萬像素，此處「800 萬像素」是指？				
答 案	3				
選項 1	內建儲存容量				
選項 2	記憶卡最大容量				
選項 3	最大可拍攝的解析度				
選項 4	照片每一個點的顏色成分				

題目編碼	IF01134	題 型	單選	難易度	難
題 目	使用透明玻璃纖維材質來傳輸資料，具有體積小、傳輸速度快、訊號不易衰減等特性的傳輸媒介是				
答 案	1				
選項 1	光纖				
選項 2	雙絞線				
選項 3	同軸電纜				
選項 4	微波				

題目編碼	IF01135	題 型	單選	難易度	難
題 目	一般住家網路長度小於 100 公尺，電腦要透過 ADSL 寬頻數據機上網，考量經濟因素，應選購下列哪一種傳輸媒介？				
答 案	2				
選項 1	光纖				
選項 2	雙絞線				

選項 3	粗同軸電纜
選項 4	細同軸電纜

題目編碼	IF01136	題 型	單選	難易度	難
題 目	無線滑鼠、PDA 等與電腦之間是使用下列哪一種傳輸媒介來傳輸資料？				
答 案	1				
選項 1	紅外線				
選項 2	微波				
選項 3	雷射光				
選項 4	紫外線				

題目編碼	IF01137	題 型	單選	難易度	難
題 目	某辦公室內有數台電腦，將這些電腦以網路線與集線器(Hub)連接，此種連接方式為				
答 案	2				
選項 1	匯流排網路				
選項 2	星狀網路				
選項 3	環狀網路				
選項 4	網狀網路				

題目編碼	IF01138	題 型	單選	難易度	易
題 目	ISO 所提出的 OSI 架構共分成幾層？				
答 案	2				
選項 1	9				
選項 2	7				
選項 3	5				
選項 4	3				

題目編碼	IF01139	題 型	單選	難易度	難
題 目	具有後進先出(Last In Fast Out)的資料結構是				
答 案	1				
選項 1	堆疊				
選項 2	佇列				
選項 3	樹				
選項 4	串列				

題目編碼	IF01140	題 型	單選	難易度	難
題 目	在鐵路局網路訂票系統中，下列何者為不適用的資料處理方式？				
答 案	3				
選項 1	交談式處理				
選項 2	即時處理				
選項 3	批次處理				
選項 4	分散式處理				

題目編碼	IF01141	題 型	單選	難易度	易
題 目	下列檔案中，何者不是圖片檔案格式？				
答 案	2				
選項 1	test.bmp				
選項 2	test.mdb				
選項 3	test.gif				
選項 4	test.tif				

題目編碼	IF01142	題 型	單選	難易度	難
題 目	在 Windows 作業系統中，以手動方式設定 TCP/IP 網路連線，設定項目包含 IP 位址、子網路遮罩及下列何種設備的 IP 位址？				
答 案	4				
選項 1	集線器(Hub)				
選項 2	橋接器(Bridge)				
選項 3	交換器(Switch)				
選項 4	閘道器(Gateway)				

題目編碼	IF01143	題 型	單選	難易度	難
題 目	下列有關非對稱數位用戶線路(ADSL)的敘述，何者不正確？				
答 案	4				
選項 1	可以同時上傳與下載				
選項 2	可以同時使用電話及上網				
選項 3	是透過現有的電話線路連接至電信公司的機房				
選項 4	資料上傳與下載速度相同				

題目編碼	IF01144	題 型	單選	難易度	易
題 目	一張長 2 英吋、寬 1 英吋的照片，若以解析度為 200dpi 的掃描器掃描進入電腦，該影像的像素為				
答 案	1				
選項 1	80000				
選項 2	120000				
選項 3	100000				
選項 4	60000				

題目編碼	IF01145	題 型	單選	難易度	易
題 目	螢幕上的像素是由光的三原色組合而成，下列何者不是三原色				
答 案	4				
選項 1	紅色				
選項 2	綠色				
選項 3	藍色				
選項 4	白色				

題目編碼	IF01146	題 型	單選	難易度	難
題 目	有一份紙本文件經由掃瞄器轉換影像文件，若要編輯該影像文件的文字部份，應先利用下列何種軟體做辨識？				
答 案	1				
選項 1	OCR				
選項 2	Photoshop				
選項 3	MS Word				
選項 4	ADC				

題目編碼	IF01147	題 型	單選	難易度	易
題 目	具有環保意識能節省電源的電腦稱為？				
答 案	2				
選項 1	藍色電腦				
選項 2	綠色電腦				
選項 3	銀色電腦				
選項 4	白色電腦				

題目編碼	IF01148	題 型	單選	難易度	難
題 目	「10BaseT 乙太網路(Ethernet)」，其中 10 表示頻寬為多少 Mbps？				
答 案	2				
選項 1	1				
選項 2	10				
選項 3	20				
選項 4	100				





題目編碼	IF01149	題 型	單選	難易度	易
題 目	「八進位數 66」等於「二進位數」的				
答 案	4				
選項 1	110011				
選項 2	101101				
選項 3	11011				
選項 4	110110				

題目編碼	IF01150	題 型	單選	難易度	難
題 目	下列何者不是 GIF 檔案的特點？				
答 案	4				
選項 1	可製成動畫				
選項 2	屬於非破壞性壓縮				
選項 3	可設背景色為透明				
選項 4	具高效率的壓縮比				

題目編碼	IF02001	題 型	單選	難易度	易
題 目	在 Word 2010 中，若要從重疊的浮動圖片中選取某些圖片，可運用下列哪一項功能最為便捷？				
答 案	2				
選項 1	「選取物件」				
選項 2	「選取窗格」				
選項 3	「剪貼簿」				
選項 4	「進階尋找」				




題目編碼	IF02002	題 型	複選	難易度	中
題 目	在 Word 2010 中，「尋找」功能，可以尋找下列哪些項目？				
答 案	23				
選項 1	圖表				
選項 2	表格				
選項 3	方程式				
選項 4	書籤				

題目編碼	IF02003	題 型	單選	難易度	易
題 目	在 Word 2010 中，運用下列哪一項方法，可快速選取文件中的所有醒目提示文字？				
答 案	2				
選項 1	「尋找」				
選項 2	「進階尋找」				
選項 3	「取代」				
選項 4	「到」				

題目編碼	IF02004	題 型	複選	難易度	中
題 目	在 Word 2010 中，當您貼上內容時，若要保留原始文字的外觀，可按下列哪些按鈕？				
答 案	12				
選項 1					
選項 2					
選項 3					
選項 4					

題目編碼	IF02005	題 型	複選	難易度	中
題 目	在 Word 2010 中，「剪貼簿」是下列哪些項目的資料庫？				
答 案	23				
選項 1	「貼上」				
選項 2	「複製」				
選項 3	「剪下」				

選項 4	「刪除」
------	------

題目編碼	IF02006	題 型	單選	難易度	易
題 目	在 Word 2010 中，欲將複製的圖案以圖片方式貼上，可運用下列「貼上」的哪一項功能？				
答 案	4				
選項 1					
選項 2					
選項 3					
選項 4	「選擇性貼上」				

題目編碼	IF02007	題 型	單選	難易度	易
題 目	在 Word 2010 中，若要以「複製格式」功能複製文字格式時，需先選取下列哪一項來複製其格式設定？				
答 案	1				
選項 1	文字				
選項 2	文字包括段落標記				
選項 3	整個段落				
選項 4	整個段落包括段落標記				

題目編碼	IF02008	題 型	單選	難易度	易
題 目	在 Word 2010 中，透過下列哪一項功能，可以快速的將「新台幣：564800 元整」改為「新台幣：伍拾陸萬肆仟捌佰元整」？				
答 案	3				
選項 1	「方程式」				
選項 2	「符號」				
選項 3	「數字」				
選項 4	「編號」				

題目編碼	IF02009	題 型	單選	難易度	易
題 目	在 Word 2010 中，透過下列哪一項功能，可以在文件上輸入目前的日期與時間？				
答 案	4				
選項 1	「文件摘要資訊」				
選項 2	「頁首與頁尾」				
選項 3	「自動圖文集」				
選項 4	「日期及時間」				

題目編碼	IF02010	題 型	複選	難易度	中
題 目	Word 2010 對於文字的色彩可以設定為下列哪些項目？				
答 案	14				

選項 1	漸層色彩
選項 2	填滿材質
選項 3	填滿圖片
選項 4	佈景主題色彩

題目編碼	IF02011	題 型	單選	難易度	易
題 目	在 Word 2010 中，下列何者功能可以將「中華民國 100 年」改為「 <b>中華民國 100 年</b> 」？				
答 案	2				
選項 1	插入符號				
選項 2	強調標記				
選項 3	圍繞字元				
選項 4	上框線				

題目編碼	IF02012	題 型	複選	難易度	易
題 目	硫酸根離子的化學式「 <b>SO<sub>4</sub><sup>2-</sup></b> 」，其中的數字是運用到 Word 2010 下列哪些功能？				
答 案	12				
選項 1	上標				
選項 2	下標				
選項 3	上移				
選項 4	下移				

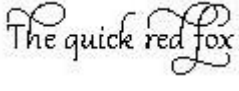
題目編碼	IF02013	題 型	單選	難易度	易
題 目	將「中華民國 100 年」改為「 <b>」</b> ，是執行 Word 2010 下列哪一項功能？				
答 案	1				
選項 1	隱藏文字				
選項 2	拼字及文法檢查				
選項 3	虛線底線				
選項 4	下框虛線				

題目編碼	IF02014	題 型	單選	難易度	易
題 目	在 Word 2010 中，要變更文字的外框色彩與線型，可透過下列「文字效果」的哪一項功能設定？				
答 案	1				
選項 1	「大綱」				
選項 2	「陰影」				
選項 3	「反射」				
選項 4	「光暈」				

題目編碼	IF02015	題 型	單選	難易度	易
題 目	在 Word 2010 中，下列哪一項設定會改變字元的寬度？				



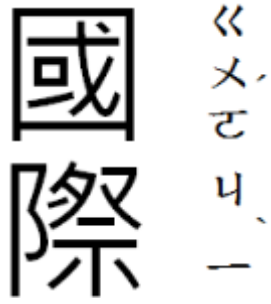
答案	2
選項 1	「最適文字大小」
選項 2	「字元比例」
選項 3	「字元間距」
選項 4	「分散對齊」

題目編碼	IF02016	題 型	單選	難易度	易
題 目	在 Word 2010 中，執行「OpenType 功能」的下列哪一項選項，可將「The quick red fox」改為  「The quick red fox」？				
答案	4				
選項 1	連字選項				
選項 2	數字間距選項				
選項 3	數字表單選項				
選項 4	文體集選項				

題目編碼	IF02017	題 型	複選	難易度	中
題 目	在 Word 2010 中，下列哪些選項是可以直接使用「圍繞字元」功能完成？				
答案	12				
選項 1	<input type="checkbox"/> 1				
選項 2	<input type="checkbox"/> 10				
選項 3	<input type="checkbox"/> 100				
選項 4	<input type="checkbox"/> 1000				

題目編碼	IF02018	題 型	單選	難易度	易
題 目	在 Word 2010 中，透過下列何者功能，可快速將文中所有的英文字母改為全形的字母？				
答案	4				
選項 1	「取代」				
選項 2	「字型」				
選項 3	「數字」				
選項 4	「大小寫轉換」				


題目編碼	IF02019	題 型	單選	難易度	易
題 目	在 Word 2010 中，如附圖所示，「國際」的「注音標示」是採用下列哪一種對齊方式？				

	
答案	3
選項 1	「置中對齊」
選項 2	「0-1-0」
選項 3	「右側垂線」
選項 4	「靠右對齊」

題目編碼	IF02020	題 型	複選	難易度	中
題 目	Word 2010 會在輸入時透過其認為有誤的文字底下插入波浪底線，警告有拼字或文法錯誤，下列敘述哪些正確？				
答 案	1234				
選項 1	紅色底線：代表可能是拼字錯誤，或是 Word 不認識這個字				
選項 2	綠色底線：Word 認為應該修訂一下文法				
選項 3	藍色底線：字拼法正確，但似乎非本句中應該使用的正確字眼				
選項 4	綠色與藍色底線：是提醒注意，需要自行判斷				

題目編碼	IF02021	題 型	複選	難易度	中
題 目	在 Word 2010 中，下列哪些功能在「閱讀版面配置」檢視下閱讀文件時，仍可正常執行？				
答 案	1234				
選項 1	縮小或放大文字大小				
選項 2	搜尋文字				
選項 3	查閱多種參考來源				
選項 4	翻譯				

題目編碼	IF02022	題 型	單選	難易度	易
題 目	若要在 Word 2010 文件上方顯示水平尺規，在文件左側顯示垂直尺規，必須處於下列哪一種檢視模式？				
答 案	1				
選項 1	「整頁模式」				
選項 2	「草稿模式」				
選項 3	「大綱模式」				
選項 4	「閱讀模式」				

題目編碼	IF02023	題 型	複選	難易度	中
題 目	在 Word 2010 中，下列哪些選項可以由按下  來顯示或隱藏？				

答案	234
選項 1	功能變數的網底
選項 2	合併列印的功能變數
選項 3	隱藏文字
選項 4	項目標記


題目編碼	IF02024	題 型	複選	難易度	中
題 目	在 Word 2010 中，文件的最小邊界設定取決於下列哪些項目？				
答 案	134				
選項 1	印表機				
選項 2	文件內容				
選項 3	印表機驅動程式				
選項 4	紙張大小				

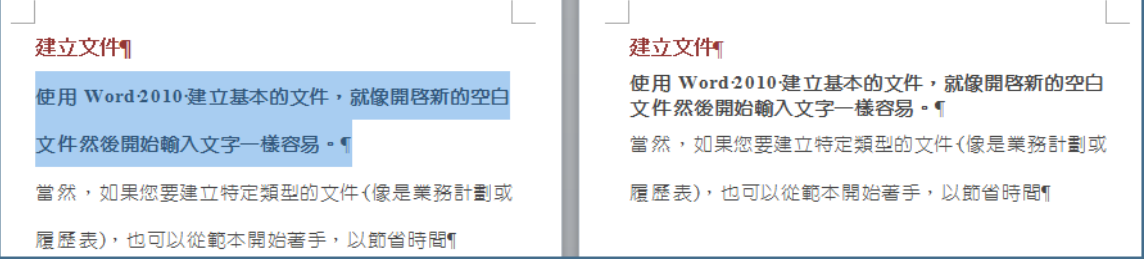
題目編碼	IF02025	題 型	複選	難易度	中
題 目	在 Word 2010 中，分節符號會定義文件中發生格式變更的位置，當您刪除分節符號時，可能會發生下列哪些情況？				
答 案	14				
選項 1	會刪除分節符號前面的文字之章節格式				
選項 2	會刪除分節符號後面的文字之章節格式				
選項 3	該文字會成為上一節的一部分，並採用上一節的格式				
選項 4	該文字會成為下一節的一部分，並採用下一節的格式				

題目編碼	IF02026	題 型	複選	難易度	難
題 目	<p>在 Word 2010 中，如附圖所示，若在頁面上選取某些橫書文字，點選附圖中的設定後，下列敘述哪些正確？</p> 				
答 案	34				
選項 1	整份文件變成直書				
選項 2	整份文件變成橫書				
選項 3	選取文字會單獨放在一頁				
選項 4	直書與橫書之間以分節符號隔開				

題目編碼	IF02027	題 型	單選	難易度	易
題 目	在 Word 2010 中，運用下列哪一項功能可以自動計算文件中的行數，並在各行文字旁顯示適當的行號，此功能對於如指令碼或法律合約很好用？				
答 案	3				
選項 1	「編號」				
選項 2	「數字」				
選項 3	「行號」				
選項 4	「排序」				

題目編碼	IF02028	題 型	單選	難易度	易
題 目	在 Word 2010 中，當單字太長，超過一行文字的結尾，Word 會將單字移到下一行的開頭，造成文字中的空隙太大，欲保持文字行寬度的均勻，可透過下列哪一項功能設定？				
答 案	1				
選項 1	「斷字」				
選項 2	「最適文字大小」				
選項 3	「分散對齊」				
選項 4	「字元間距」				

題目編碼	IF02029	題 型	單選	難易度	易
題 目	在 Word 2010 中，如附圖所示，下列哪一項功能，可使段落中的文字與圖片置中對齊於同一水平線上？				
					
答 案	2				
選項 1	「段落」的「縮排與行距」				
選項 2	「段落」的「中文印刷樣式」				
選項 3	「文字」的「進階」				
選項 4	「版面設定」的「版面配置」				





題目編碼	IF02030	題 型	複選	難易度	難
題 目	在 Word 2010 中，如附圖所示，若選取文字的段落設定「與前、後段距離」為 0pt，「最小行高」為 12 pt，其結果如左圖所示時，此時必須透過下列哪些設定才能調整段落間距，如右圖所示？				
					
答 案	13				

選項 1	由「段落」減少「最小行高」的距離設定值
選項 2	由「段落」將「與前、後段距離」設定為「自動」
選項 3	由「段落」取消勾選「文件格線被設定時，貼齊格線」
選項 4	由「版面設定」點選「沒有格線」

題目編碼	IF02031	題 型	單選	難易度	易
題 目	在長達數頁的 Word 2010 文件中，若要控制標題段落必須與其後段的內容同一頁，可透過下列「段落」的哪一項設定來控制？				
答 案	2				
選項 1	「段落遺留字串控制」				
選項 2	「與下段同頁」				
選項 3	「段落中不分頁」				
選項 4	「段落前分頁」				

題目編碼	IF02032	題 型	複選	難易度	中
題 目	在 Word 2010 中，插入分節符號即可將文件分成數節，每節可依需求設定下列哪些選項？				
答 案	1234				
選項 1	紙張大小或方向				
選項 2	頁面框線				
選項 3	頁碼編排方式				
選項 4	頁首和頁尾				



題目編碼	IF02033	題 型	單選	難易度	易
題 目	在 Word 2010 中，透過下列哪一項設定，可將插入點之後的文字移動到下一欄的頂端？				
答 案	3				
選項 1	分行符號				
選項 2	分段符號				
選項 3	分欄符號				
選項 4	分節符號				

題目編碼	IF02034	題 型	單選	難易度	易
題 目	在 Word 2010 中，使用尺規上的哪一項定位停駐點，不論數字位數多寡，小數點都會位於同一個位置？				
答 案	4				
選項 1					
選項 2					
選項 3					
選項 4					

題目編碼	IF02035	題 型	單選	難易度	易
題 目	在 Word 2010 中，在預設定位停駐點之後，按下列哪一項按鍵後，定位點便會按照指定的距離停駐在頁面上？				

答案	2
選項 1	[F3]鍵
選項 2	[Tab]鍵
選項 3	[Alt]鍵
選項 4	[Ins]鍵

題目編碼	IF02036	題 型	單選	難易度	易
題 目	在 Word 2010 中，若要自動建立使用黑點作為項目符號設計的項目符號清單「● →」，應該輸入下列哪一項內容？				
答 案	4				
選項 1	Ⓜ 和一個空格				
選項 2	● 和一個空格				
選項 3	Ⓞ 和一個空格				
選項 4	* 和一個空格				

題目編碼	IF02037	題 型	單選	難易度	易
題 目	在 Word 2010 中，透過下列哪一項選項，可快速調整清單的縮排距離？				
答 案	4				
選項 1	 「編號」				
選項 2	 「多層次清單」				
選項 3	「段落」				
選項 4	在編號上按滑鼠右鍵				

題目編碼	IF02038	題 型	單選	難易度	易
題 目	在 Word 2010 中，附圖中的粗體字是下列哪一項功能編排的結果？ 立契約書人出租人：_____ 茲為房屋租賃事宜，雙方同意本契約條款如下： 承租人：_____				
答 案	3				
選項 1	「表格」				
選項 2	「組排文字」				
選項 3	「並列文字」				
選項 4	「最適文字大小」				


題目編碼	IF02039	題 型	複選	難易度	中
題 目	在 Word 2010 中，「排序」功能可依下列哪些類型排序？				

答案	1234
選項 1	日期
選項 2	筆劃
選項 3	注音
選項 4	文字

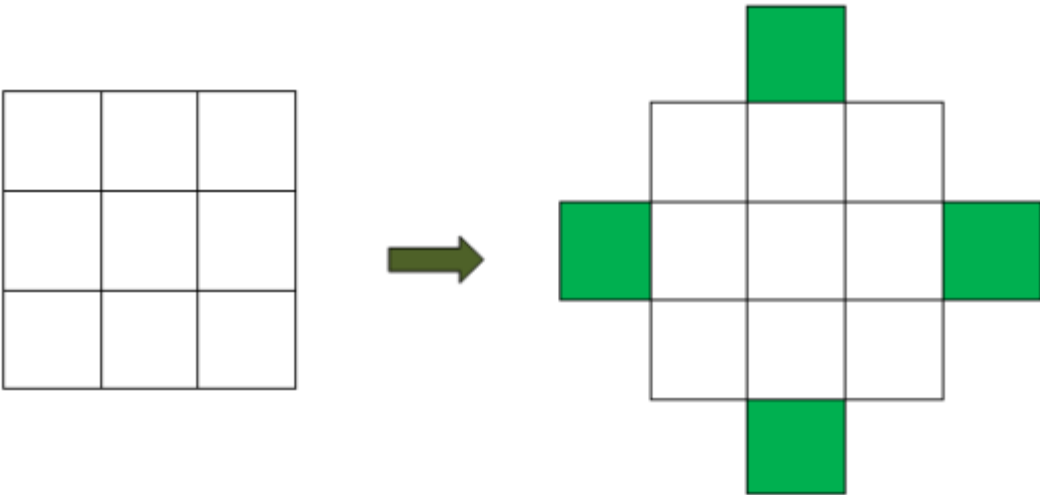
題目編碼	IF02040	題 型	複選	難易度	中
題 目	在 Word 2010 中，由輸入字元即可變成水平線的作法，下列敘述哪些正確？				
答 案	24				
選項 1	輸入三次「...」字元後按[Enter]鍵，產生水平線.....				
選項 2	輸入三次「###」字元後按[Enter]鍵，產生水平線=====				
選項 3	輸入三次「^^^」字元後按[Enter]鍵，產生水平線~~~~~				
選項 4	輸入三次「===」字元後按[Enter]鍵，產生水平線=====				

題目編碼	IF02041	題 型	單選	難易度	易
題 目	在 Word 2010 中，使用下列哪一項插入表格的功能，可設定表格依內容自動調整成最適當的寬度？				
答 案	4				
選項 1	「插入表格」				
選項 2	「手繪表格」				
選項 3	「快速表格」				
選項 4	「文字轉換為表格」				

題目編碼	IF02042	題 型	複選	難易度	中
題 目	在 Word 2010 中，下列哪些文字可以作為「文字轉換為表格」的分隔字元？				
答 案	1234				
選項 1	段落符號「↵」				
選項 2	定位點「→」				
選項 3	全型空白「□」				
選項 4	半型逗號「，」				

題目編碼	IF02043	題 型	複選	難易度	中
題 目	在 Word 2010 中，下列哪些操作方式可選取整個表格？				
答 案	12				
選項 1	按一下表格移動控點 				
選項 2	按住[Alt]鍵+數字鍵區的[5]鍵（Num Lock 必須關閉）				
選項 3	按住[Ctrl]鍵+數字鍵區的[5]鍵（Num Lock 必須關閉）				

選項 4	按住[Shift]鍵+數字鍵區的[5]鍵（Num Lock 必須關閉）
------	-------------------------------------

題目編碼	IF02044	題 型	單選	難易度	易
題 目	<p>在 Word 2010 中，可執行下列哪一項功能來新增如附圖所示的右圖四個綠色區域？</p> 				
答 案	4				
選項 1	插入欄				
選項 2	插入列				
選項 3	插入儲存格				
選項 4	手繪表格				

題目編碼	IF02045	題 型	單選	難易度	易
題 目	在 Word 2010 中，在下列哪一種情況下的表格無法進行合併？				
答 案	3				
選項 1	表格寬度不同				
選項 2	表格對齊方式不同				
選項 3	文繞圖的表格				
選項 4	表格的欄寬或列高不同				





題目編碼	IF02046	題 型	單選	難易度	易
題 目	在 Word 2010 中，當表格框線設定為「無」時，若不想在螢幕上看見表格的格線，可使用下列哪一項方法達成？				
答 案	4				
選項 1	將表格的框線設定為白色				
選項 2	取消勾選「檢視」的「格線」				
選項 3	取消勾選「版面設定」的「在螢幕上顯示格線」				
選項 4	關閉「檢視格線」				





題目編碼	IF02047	題 型	單選	難易度	易
題 目	在 Word 2010 中，下列哪一項設定可依據儲存格內文字的多寡自動調整欄寬？				
答 案	2				
選項 1	「自動調整視窗」				



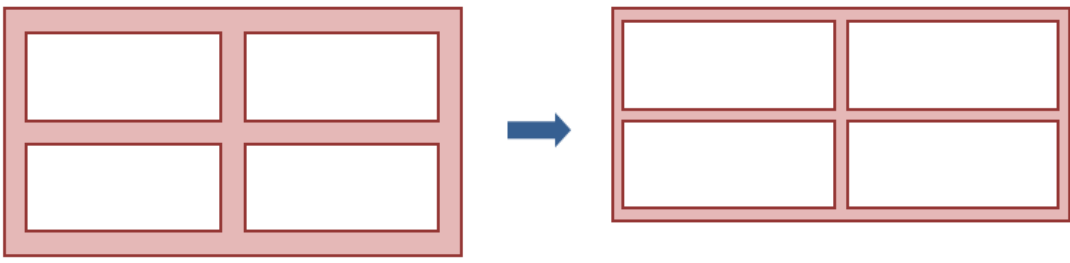
選項 2	「自動調整內容」
選項 3	「固定欄寬」
選項 4	取消勾選「表格內容」中「欄」的「慣用寬度」

題目編碼	IF02048	題 型	單選	難易度	易
題 目	在 Word 2010 中，防止表格列被分隔在不同頁面上，可在下列「表格內容」的哪一項索引標籤，取消勾選「允許列超越頁分隔線」的設定？				
答 案	2				
選項 1	「表格」				
選項 2	「列」				
選項 3	「欄」				
選項 4	「儲存格」				

題目編碼	IF02049	題 型	複選	難易度	中
題 目	在 Word 2010 中，點選下列哪些按鈕，可將選取的表格對齊段落的置中位置？				
答 案	12				
選項 1					
選項 2					
選項 3					
選項 4					

題目編碼	IF02050	題 型	複選	難易度	中
題 目	在 Word 2010 中，下列哪些選項，可以設定儲存格內的文字置中對齊？				
答 案	34				
選項 1					
選項 2					
選項 3					
選項 4					

題目編碼	IF02051	題 型	單選	難易度	易
題 目	在 Word 2010 中，如附圖所示，如何將左圖的表格編輯成右圖的表格？				

	
答案	4
選項 1	調整表格寬度
選項 2	調整框線寬度
選項 3	調整儲存格邊界
選項 4	調整儲存格間距

題目編碼	IF02052	題 型	複選	難易度	中
題 目	在 Word 2010 中，關於「框線及網底」中的「填滿」與「網底」的敘述，下列哪些正確？				
答 案	14				
選項 1	「填滿」區的色彩為「背景色」				
選項 2	「填滿」區的色彩為「前景色」				
選項 3	「網底」區的色彩為「背景色」				
選項 4	「網底」區的色彩為「前景色」				

題目編碼	IF02053	題 型	複選	難易度	中
題 目	在 Word 2010 中，「框線」與「網底」可套用到下列哪些選項？				
答 案	1234				
選項 1	文字				
選項 2	段落				
選項 3	表格				
選項 4	頁面				



題目編碼	IF02054	題 型	複選	難易度	中
題 目	在 Word 2010 中，除了內建表格樣式之外，還可從下列哪些項目建立自己的表格樣式？				
答 案	12				
選項 1	「表格樣式」的「新增表格樣式」				
選項 2	「樣式」的「新增樣式」				
選項 3	「快速表格」的「儲存選取項目至快速組件庫」				
選項 4	「另存新檔」存為 Word 範本檔				

題目編碼	IF02055	題 型	單選	難易度	易
題 目	在 Word 2010 中，含有頁面框線的文件，在列印時發現，頁面的下框線無法完整印出，可進行下列哪一項調整？				
答 案	4				
選項 1	調整印表機的設定				
選項 2	增加版面配置的下邊界距離				

選項 3	增加框線從文字至下邊界的距離
選項 4	增加框線從頁緣至下邊界的距離

題目編碼	IF02056	題 型	單選	難易度	易
題 目	在 Word 2010 中，表格中的各欄位，要依照英文字母來排序清單時，排序「類型」應指定為下列哪一項？				
答 案	3				
選項 1	字母				
選項 2	文字				
選項 3	筆劃				
選項 4	數字				


題目編碼	IF02057	題 型	單選	難易度	易
題 目	在 Word 2010 中，文字的開頭項目是 1：字母、2：數字或日期、3：標點符號或符號，當執行「排序」時，若指定依「筆畫」類型排序，則順序規則為下列哪一項？				
答 案	3				
選項 1	1、2、3				
選項 2	2、1、3				
選項 3	3、2、1				
選項 4	2、3、1				

題目編碼	IF02058	題 型	單選	難易度	易
題 目	從網路複製的資料常含有表格，可透過 Word 2010 下列哪一項操作快速除去表格，並保留原有的資料與格式？				
答 案	2				
選項 1	「選擇性貼上」的「未格式化文件」				
選項 2	「表格轉換為文字」				
選項 3	「  無框線」				
選項 4	「  清除」				

題目編碼	IF02059	題 型	複選	難易度	中
題 目	在 Word 2010 中，若文件首頁的第一行就是表格，可使用下列哪些方法在表格前插入空白行？				
答 案	13				
選項 1	將插入點放在左上角儲存格最前面，按[Enter]鍵				
選項 2	將插入點放在第一列，執行「表格轉換為文字」，選取「段落符號」				
選項 3	將插入點放在第一列，執行「分割表格」				
選項 4	將插入點放在第一列，執行「分割儲存格」				

題目編碼	IF02060	題 型	複選	難易度	難
題 目	在 Word 2010 中，如附圖所示，要計算合計值，可輸入下列哪些「公式」？				

商品名稱	數量	單價	小計
迪朗奇經典多功能電烤盤	2	2990	5980
rita Kettle 電熱瀘水壺	1	2499	2499
家用紫外線殺菌淨水器燈匣	2	2520	贈品
國際牌 22 公升微電腦微波爐	1	3650	3650
合計			



答案 234


選項 1 「=SUM(ABOVE)」

選項 2 「=SUM(D2,D3,D5)」

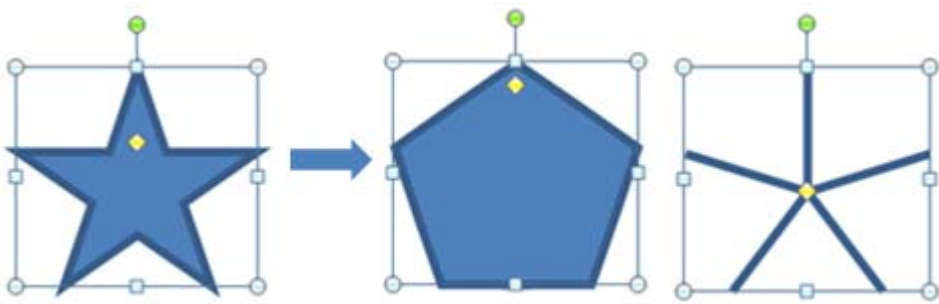
選項 3 「=SUM(D2:D5)」


選項 4 「=D2+D3+D5」

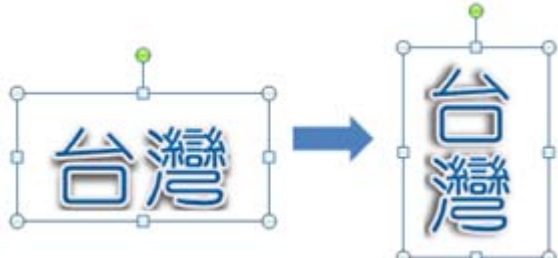
題目編碼	IF02061	題型	單選	難易度	易
題目	在 Word 2010 中，如附圖所示，運用下列哪一項「圖片效果」功能，可快速的將左圖編輯成右圖？				
					
答案	1				
選項 1	「預設格式」				
選項 2	「陰影」				
選項 3	「浮凸」				
選項 4	「立體旋轉」				


題目編碼	IF02062	題型	單選	難易度	易
題目	在 Word 2010 中，如附圖所示，運用下列哪一項功能可以將左圖編輯成右圖？				
					
答案	3				
選項 1	「裁剪」+「圖案填滿」+「美術效果」				
選項 2	「裁剪」+「色彩」+「美術效果」				

選項 3	「移除背景」+「圖片框線」+「圖片效果」
選項 4	「移除背景」+「立體效果」+「色彩」





題目編碼	IF02063	題 型	單選	難易度	易
題目	在 Word 2010 中，如附圖所示，透過下列哪一項控點的調整，可使左圖變成右圖？				
					
答 案	2				
選項 1	綠色圓形控點「●」				
選項 2	黃色菱形控點「◆」				
選項 3	白色圓形控點「○」				
選項 4	白色方形控點「□」				

題目編碼	IF02064	題 型	單選	難易度	易
題目	在 Word 2010 中，如附圖所示，若要在圖案上輸入文字，並確保圖片與文字如影隨行，可利用下列哪一項方式輸入文字？				
					
答 案	4				
選項 1	「文字藝術師」				
選項 2	「文字方塊」				
選項 3	「新增註解」				
選項 4	「新增文字」				

題目編碼	IF02065	題 型	單選	難易度	易
題目	在 Word 2010 中，如附圖所示，要更改文字藝術師文字的方向，下列敘述哪一項正確？				
					
答 案	4				

選項 1	旋轉綠色圓形控點「  」
選項 2	由「繪圖工具」的「旋轉」
選項 3	由「常用」的「字型」
選項 4	由「版面設定」的「直書/橫書」

題目編碼	IF02066	題 型	單選	難易度	易
題 目	<p>在 Word 2010 中，如附圖所示，執行下列哪一項功能，可使左圖文字方塊內的文字編輯成如右圖所示般完整顯示？</p> <div style="display: flex; align-items: center; justify-content: center;"> <div style="border: 1px solid black; padding: 5px; margin-right: 20px;"> <p style="color: red; font-size: 24px; margin: 0;">文字方 塊</p> </div> <div style="font-size: 2em; color: blue; margin-right: 20px;">→</div> <div style="border: 1px solid black; padding: 5px;"> <p style="color: red; font-size: 24px; margin: 0;">文字方塊</p> </div> </div>				
答 案	3				
選項 1	執行「最適文字大小」				
選項 2	執行「分散對齊」				
選項 3	縮小「文字方塊」的「內邊界」				
選項 4	縮小「文字間距」				

題目編碼	IF02067	題 型	複選	難易度	中
題 目	在 Word 2010 中，下列哪些 SmartArt 圖形，比較適用於不含文字的情況？				
答 案	12				
選項 1					
選項 2					
選項 3					
選項 4					

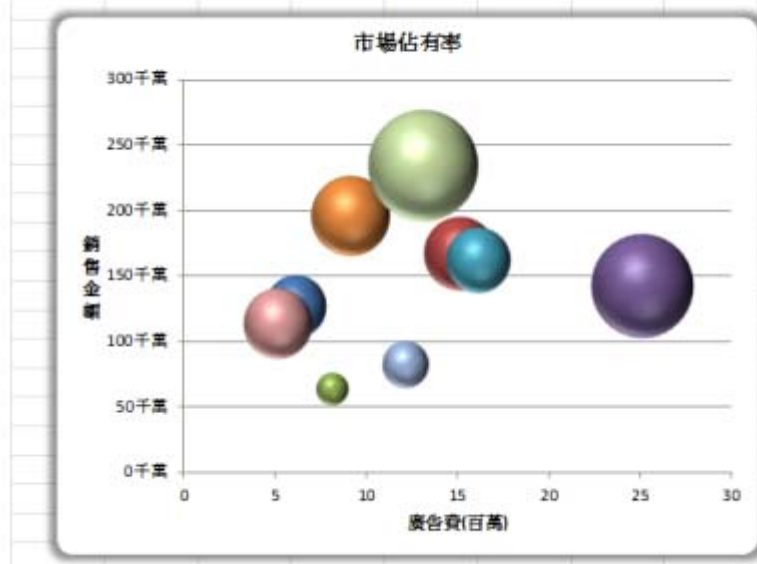
題目編碼	IF02068	題 型	複選	難易度	難
題 目	在 Word 2010 中，如附圖所示，左圖的文字藝術師文字，可透過下列哪些「轉換」格式，變成右圖？				

答案	24
選項 1	
選項 2	
選項 3	
選項 4	

題目編碼	IF02069	題 型	單選	難易度	易
題 目	<p>在 Word 2010 中，如附圖所示，左圖是運用 SmartArt 的下列哪一項功能變更成為右圖示？</p>				
答 案	4				
選項 1	「改變版面配置」				
選項 2	「升階」				
選項 3	「降階」				
選項 4	「從右至左」				

題目編碼	IF02070	題 型	單選	難易度	易
題 目	<p>在 Word 2010 中，如在 Word 2010 中，如附圖所示，要連結外部的圖表檔案至文件中，須從下列哪一項插入？附圖所示，要連結外部的圖表檔案至文件中，須從下列哪一項插入？</p>				





答案 3

選項 1 「表格」的「Excel 試算表」

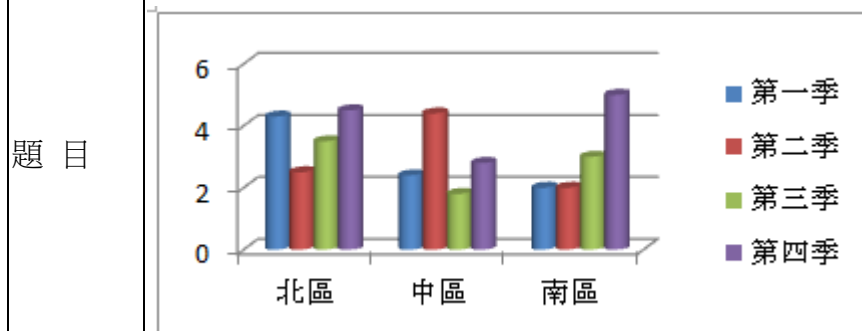
選項 2 「圖例」的「圖表」

選項 3 「文字」的「物件」

選項 4 「文字」的「文字檔」

題目編碼	IF02071	題 型	複選	難易度	難
------	---------	-----	----	-----	---

如附圖所示，若要在 Word 2010 的文件中建立新的圖表，可由下列哪些方式執行？



答案 123

選項 1 「表格」的「Excel 試算表」

選項 2 「圖例」的「圖表」

選項 3 「文字」的「物件」

選項 4 「文字」的「文字檔」

題目編碼	IF02072	題 型	單選	難易度	易
------	---------	-----	----	-----	---

在 Word 2010 中，「螢幕擷取畫面」功能可以擷取下列哪一項視窗的畫面？

答案 4

選項 1 Word 2010 的視窗畫面

選項 2 所有開啟的視窗畫面

選項 3 處於最小化的視窗

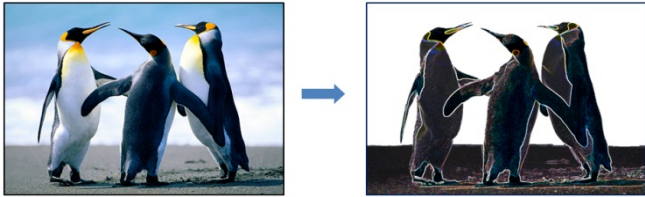


選項 4	除 Word 2010 外，在螢幕上可看得到的任一開啟視窗畫面
------	---------------------------------

題目編碼	IF02073	題 型	複選	難易度	中
題 目	在 Word 2010 中，利用「浮水印」功能可快速在文件中產生浮水印效果，但無法設定下列哪些選項？				
答 案	34				
選項 1	浮水印圖片的大小				
選項 2	浮水印圖片的位置				
選項 3	浮水印圖片的效果				
選項 4	首頁不顯示浮水印圖片				

題目編碼	IF02074	題 型	單選	難易度	易
題 目	在 Word 2010 中，要在文件的每一頁文字背景自動出現垂直方向的「機密」文字，可運用下列哪一項功能設定最為便捷？				
答 案	1				
選項 1	「浮水印」				
選項 2	「文字藝術師」				
選項 3	「文字方塊」				
選項 4	「SmartArt」				

題目編碼	IF02075	題 型	單選	難易度	易
題 目	在 Word 2010 中，要刪除圖片的裁剪區域，可透過下列哪一項功能執行？				
答 案	3				
選項 1	「裁剪」功能				
選項 2	「移除背景」功能				
選項 3	「壓縮圖片」功能				
選項 4	「變更圖片」功能				

題目編碼	IF02076	題 型	複選	難易度	難
題 目	在 Word 2010 中，如附圖所示，運用下列哪些功能可以將左圖編輯成右圖？				
					
答 案	24				
選項 1	「裁剪」				
選項 2	「移除背景」				
選項 3	「設定透明色彩」				
選項 4	「美術效果」				

題目編碼	IF02077	題 型	單選	難易度	易
------	---------	-----	----	-----	---

題目	在 Word 2010 中，若要以「壓縮圖片」功能，移除文件中所有圖片的裁剪區域，則必須先做下列哪一項動作？
答案	3
選項 1	選取文件中所有的圖片
選項 2	全選
選項 3	選取任何一張
選項 4	選取一張已被裁剪的圖片

題目編碼	IF02078	題 型	複選	難易度	中
題目	在 Word 2010 中，透過下列哪些功能，可降低或變更圖片的解析度？				
答案	234				
選項 1	「變更圖片」				
選項 2	「另存新檔」				
選項 3	「剪下」、「選擇性貼上」				
選項 4	「壓縮圖片」				


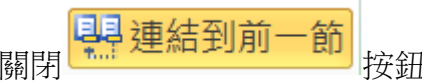
題目編碼	IF02079	題 型	單選	難易度	易
題目	在 Word 2010 中，有關「裁剪」功能的敘述，下列哪一項正確？				
答案	1				
選項 1	裁剪的部分仍然是圖片檔的一部分				
選項 2	裁剪後的圖片檔案會變小				
選項 3	裁剪後的圖片無法復原				
選項 4	裁剪的區域可以是不規則邊緣				

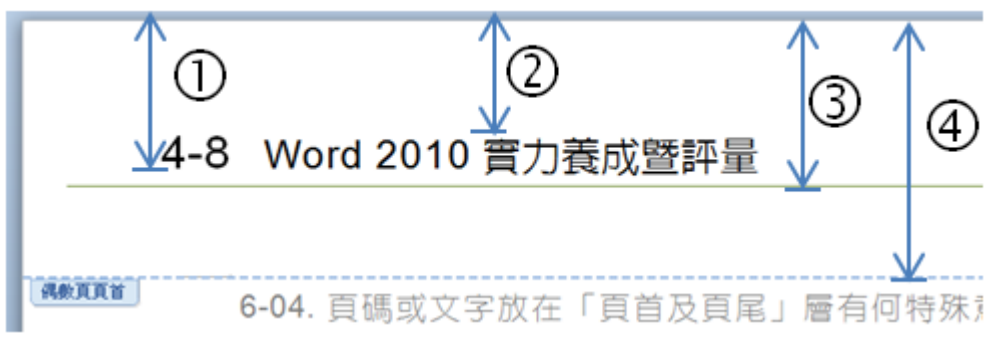
題目編碼	IF02080	題 型	單選	難易度	易
題目	在 Word 2010 中，如附圖所示，運用下列哪一項功能可快速將左圖編輯成右圖？				
					
答案	1				
選項 1	「裁剪成圖形」				
選項 2	「變更圖案」				
選項 3	「編輯端點」				
選項 4	「變更圖片」				

題目編碼	IF02081	題 型	單選	難易度	易
題目	在 Word 2010 中，文件包含多個不同部分，若希望每個部分都有獨特的頁首及頁尾，則需於文				

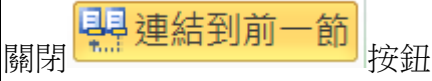
	件的各部分之間，建立下列哪一項？
答案	1
選項 1	「分節符號」
選項 2	「分頁符號」
選項 3	「版面配置」
選項 4	「版面設定」

題目編碼	IF02082	題 型	複選	難易度	中
題 目	在 Word 2010 中，下列哪些方式可以進入「頁首及頁尾」編輯？				
答 案	124				
選項 1	「插入/頁首」的「編輯頁首」				
選項 2	「插入/頁尾」的「編輯頁尾」				
選項 3	「插入/頁碼」的「頁碼格式」				
選項 4	將插入點放在頁首或頁尾區，連接二次滑鼠左鍵				

題目編碼	IF02083	題 型	複選	難易度	中
題 目	在 Word 2010 中，書籍文件可運用下列哪些功能，讓不同章節有不同的頁首及頁尾內容？				
答 案	14				
選項 1	插入一個「分節符號」				
選項 2					
選項 3	插入「自動圖文集」				
選項 4					

題目編碼	IF02084	題 型	單選	難易度	易
題 目	<p>在 Word 2010 中，如附圖所示，在「版面配置」中的「頁首與頁緣距離」是指圖中的哪一段距離？</p> 				
答 案	2				
選項 1	①				
選項 2	②				
選項 3	③				
選項 4	④				

題目編碼	IF02085	題 型	單選	難易度	易
題 目	在 Word 2010 中，透過下列哪一項可以變更所有超連結文字的顏色或底線色彩？				
答 案	4				
選項 1	「尋找」				
選項 2	「取代」				
選項 3	「功能變數」				
選項 4	「樣式」				

題目編碼	IF02086	題 型	複選	難易度	中
題 目	在 Word 2010 中，除了封面之外，若要奇數頁的頁首靠右對齊，偶數頁的頁首靠左對齊，則必須運用到下列哪些功能進行設定？				
答 案	34				
選項 1	插入「下一頁」的分節符號				
選項 2					
選項 3	「版面配置」的「奇偶頁不同」				
選項 4	「版面配置」的「第一頁不同」				

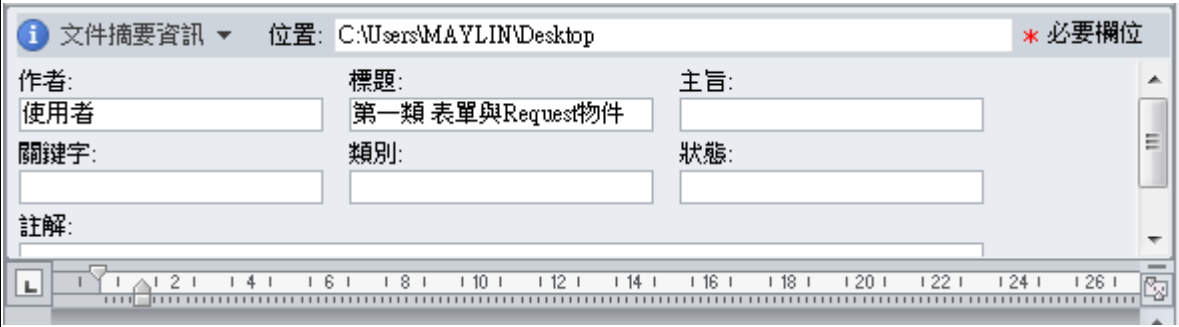
題目編碼	IF02087	題 型	複選	難易度	中
題 目	在 Word 2010 中，關於頁碼格式與位置設定的敘述，下列哪些正確？				
答 案	124				
選項 1	頁碼的起始頁可以為任一正數				
選項 2	頁碼的位置可以在「頁首及頁尾」層的任一位置				
選項 3	一文件中只能有一種頁碼的格式				
選項 4	可以在文件的第二頁上開始編號				

題目編碼	IF02088	題 型	複選	難易度	中
題 目	在 Word 2010 中，文字設定超連結時可連結至下列哪些選項？				
答 案	1234				
選項 1	網址				
選項 2	書籤				
選項 3	郵件地址				
選項 4	文件中的標題				

題目編碼	IF02089	題 型	複選	難易度	中
題 目	在 Word 2010 中，「交互參照」可引用文件中的下列哪些項目？				
答 案	123				
選項 1	編號項目				
選項 2	註腳				
選項 3	章節附註				
選項 4	樣式				

題目編碼	IF02090	題 型	單選	難易度	易
題 目	在 Word 2010 中，下列哪一項功能，可用最快的方式貼上你慣用的各式各樣的圖表、重複性文字、表格或者單據等等？				
答 案	2				
選項 1	「取代」				
選項 2	「自動圖文集」				
選項 3	「功能變數」				
選項 4	「樣式」				

題目編碼	IF02091	題 型	複選	難易度	中
題 目	在 Word 2010 中，下列哪些物件可自訂並儲存至快速組件庫中，供日後繼續重複使用？				
答 案	1234				
選項 1	自動圖文集				
選項 2	封面				
選項 3	浮水印				
選項 4	表格				

題目編碼	IF02092	題 型	單選	難易度	易
題 目	在 Word 2010 中，如附圖所示的對話方塊，可從下列哪一項設定顯示？				
					
答 案	4				
選項 1	「開發人員/控制項」				
選項 2	「插入/文字摘要資訊」				
選項 3	「插入/物件」				
選項 4	「檔案/資訊/內容」				

題目編碼	IF02093	題 型	單選	難易度	易
題 目	在 Word 2010 中，A 文件檔是直向橫書，B 文件檔是橫向直書，若將 B 文件檔插入 A 文件中，則會呈現為下列哪一項的結果？				
答 案	1				
選項 1	直向橫書				
選項 2	橫向直書				
選項 3	直向直書				
選項 4	橫向橫書				

題目編碼	IF02094	題 型	複選	難易度	中
------	---------	-----	----	-----	---

題目	在 Word 2010 中，關於「註腳或章節附註」的設定敘述，下列哪些正確？
答案	14
選項 1	使用註腳提供詳細註解，使用章節附註提供來源引文
選項 2	註腳必放在每頁結尾處，章節附註必放在文件結尾處
選項 3	要刪除註腳或章節附註，必須刪除註解中的文字
選項 4	在文件中的每一節可使用不同的編號方式

題目編碼	IF02095	題型	單選	難易度	易
題目	<p>在 Word 2010 中，如附圖所示，下列哪一項功能，可在文件中的插圖下方自動標示編號，用來描述圖片說明？</p>  <p>套房 1: 信義翡麗</p>				
答案	3				
選項 1	插入註腳				
選項 2	插入書籤				
選項 3	插入標號				
選項 4	插入索引				

題目編碼	IF02096	題型	複選	難易度	中
題目	在 Word 2010 中，當選取文字並將它標記為索引項目時，Word 會如何建立索引目錄？				
答案	1234				
選項 1	新增 XE 功能變數				
選項 2	依筆畫、注音或字母順序排列				
選項 3	參照頁碼				
選項 4	尋找並移除同一頁中的重複項目				

題目編碼	IF02097	題型	複選	難易度	中
題目	在已建立目錄的 Word 2010 文件上，新增了數頁內容後，可使用下列哪些方式更新目錄？				
答案	123				
選項 1	選取目錄後，按下[F9]鍵				
選項 2	選取目錄後，執行「目錄」的「更新目錄」				
選項 3	選取目錄後，執行「目錄」的「插入目錄」				

選項 4	存檔後重新開啟
------	---------

題目編碼	IF02098	題 型	複選	難易度	中
題 目	在 Word 2010 中，若希望可以看到文件中修改過的地方，並以註解來說明修改的原因，然後決定接受或拒絕這些變更，此時必須開啟下列哪些功能？				
答 案	12				
選項 1	「追蹤修訂」				
選項 2	「新增註解」				
選項 3	「比較」				
選項 4	「插入註腳」				

題目編碼	IF02099	題 型	複選	難易度	中
題 目	在 Word 2010 中，關閉「追蹤修訂」功能的敘述，下列哪些正確？				
答 案	34				
選項 1	刪除追蹤的修訂和註解				
選項 2	隱藏現有的追蹤修訂和註解				
選項 3	停止追蹤修訂				
選項 4	仍然可以看到追蹤的修訂和註解				


題目編碼	IF02100	題 型	單選	難易度	易
題 目	在 Word 2010 中，若要保護文件中的樣式設定，避免受到變更，可使用下列哪一項功能設定？				
答 案	3				
選項 1	「標示為完稿」				
選項 2	「以密碼加密」				
選項 3	「限制編輯」				
選項 4	「依人員限制權限」				


題目編碼	IF03001	題 型	單選	難易度	易
題 目	在 Excel 2010 中，若儲存格輸入之文字超過欄寬，欲使之在輸入時可自動另起新行，應於「格式/儲存格」選項內啟動何項功能？				
答 案	1				
選項 1	自動換列				
選項 2	縮小字型以適合欄寬				
選項 3	一般字型				
選項 4	合併儲存格				

題目編碼	IF03002	題 型	複選	難易度	中
題 目	在 Excel 2010 中，若儲存格顯示如「#####」之資料，表示的意義下列哪些正確？				
答 案	123				
選項 1	日期和時間是負的數字				
選項 2	已設定顯示格式之資料過長且超過欄寬				
選項 3	顯示格式設定錯誤				



選項 4	公式錯誤
------	------

題目編碼	IF03003	題 型	單選	難易度	易
題 目	在 Excel 2010 中，如附圖所示，圖中的 2 之文字格式為何，下列何者正確？				
					
答 案	2				
選項 1	上標字				
選項 2	下標字				
選項 3	一般字型				
選項 4	粗體字				

題目編碼	IF03004	題 型	單選	難易度	易
題 目	在 Excel 2010 中，如附圖所示，A1 與 A2 儲存格並未設定對齊格式，為何 A1 為靠右對齊，A2 為靠左對齊，下列敘述何者正確？				
					
答 案	2				
選項 1	A1 為文字資料，A2 為日期資料				
選項 2	A1 為日期資料，A2 為文字資料				
選項 3	A1、A2 均為日期資料，只是在 A2 輸入日期時，在之後加空白				
選項 4	A1、A2 均為日期資料，只是在 A1 輸入日期時，在之前加空白				

題目編碼	IF03005	題 型	單選	難易度	易
題 目	在 Excel 2010 中，關於「常用」功能區的「對齊方式/自動換列」的描述，下列何者正確？				
答 案	1				
選項 1	輸入之文字超過一個儲存格之顯示範圍時會自動轉折成多行文字				
選項 2	輸入文字時超過一個儲存格之顯示範圍時會自動移到下個儲存格				
選項 3	輸入文字超過一個畫面游標將自動轉折				
選項 4	自動在中英文字之間換列				

題目編碼	IF03006	題 型	單選	難易度	中
題 目	在 Excel 2010 中，如附圖所示，若學期成績不及格，則整列資料變成淺黃底色紅色字體，以格式化條件設定 A2~E5 範圍，下列設定格式化的條件何者正確？				



	A	B	C	D	E	
1	姓名	項目	平時成績	期中成績	期末成績	學期成績
2	程吉貝		56	55	58	56
3	吳建仁		89	82	88	86
4	黎思霽		10	27	81	39
5	蔡雯勤		55	75	52	61

答案 1

選項 1 公式為 =E2<60

選項 2 公式為 =E2<60

選項 3 公式為 =E2<=60


選項 4 公式為 =\$E2<=60

題目編碼	IF03007	題型	單選	難易度	易
題目	在 Excel 2010 中，自訂格式為「@"公司"」，下列敘述何者正確？				
答案	1				
選項 1	輸入「洋基資訊」，顯示「洋基資訊公司」				
選項 2	不輸入資料，亦顯示「公司」				
選項 3	輸入「3M」，顯示「3M」				
選項 4	輸入「基金會」，顯示「@基金會」				

題目編碼	IF03008	題型	單選	難易度	易															
題目	在 Excel 2010 中，如附圖所示，無論輸入 0.05、3、123456.123，其顯示結果為 .05、3.、123456.12，且小數點對齊如附圖所示，所設定的格式為下列何項？																			
	<table border="1"> <thead> <tr> <th></th> <th>A</th> <th>B</th> </tr> </thead> <tbody> <tr> <td>1</td> <td>輸入資料</td> <td>顯示結果</td> </tr> <tr> <td>2</td> <td>0.05</td> <td>.05</td> </tr> <tr> <td>3</td> <td>3</td> <td>3.</td> </tr> <tr> <td>4</td> <td>12345.123</td> <td>12,345.12</td> </tr> </tbody> </table>						A	B	1	輸入資料	顯示結果	2	0.05	.05	3	3	3.	4	12345.123	12,345.12
	A	B																		
1	輸入資料	顯示結果																		
2	0.05	.05																		
3	3	3.																		
4	12345.123	12,345.12																		
答案	2																			
選項 1	#,###.##																			
選項 2	?,???.??																			
選項 3	0,000.00																			
選項 4	#,##0.00																			

題目編碼	IF03009	題型	單選	難易度	易
題目	在 Excel 2010 中，使用公式設定格式化條件的條件數最多為下列何者？				
答案	4				
選項 1	1 個				
選項 2	2 個				
選項 3	3 個				
選項 4	受限於記憶體				

題目編碼	IF03010	題 型	複選	難易度	中
題 目	在 Excel 2010 中，關於欄寬的敘述，下列哪些正確？				
答 案	14				
選項 1	同時選用不同工作表的 F 欄時，若調整其中任一工作表 F 欄的欄寬，在其他工作表的 F 欄寬亦會隨之調整				
選項 2	當工作表被保護時，仍可改變欄寬				
選項 3	格式符號「*」代表儲存格顯示之位數不夠				
選項 4	欄寬為零是表示將此欄隱藏				

題目編碼	IF03011	題 型	單選	難易度	易
題 目	在 Excel 2010 中，  工具鈕的真正功能為下列何項？				
答 案	1				
選項 1	合併儲存格並水平置中				
選項 2	字元間距加大				
選項 3	合併同列儲存格				
選項 4	左右對齊				

題目編碼	IF03012	題 型	單選	難易度	易
題 目	在 Excel 2010 中，兩個以上的文字資料連結使用哪一個符號？				
答 案	4				
選項 1	%				
選項 2	\$				
選項 3	#				
選項 4	&				

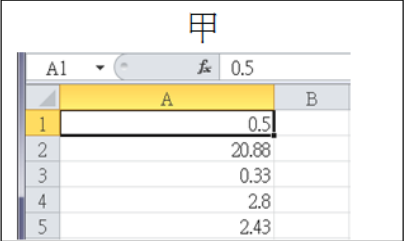
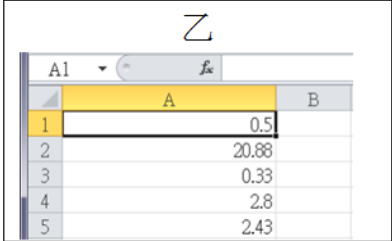
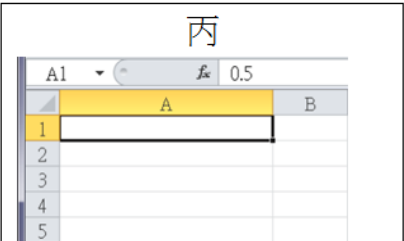
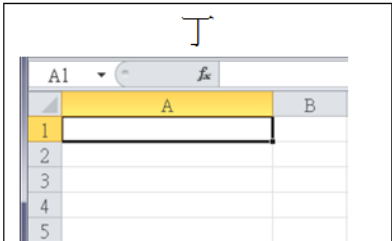
題目編碼	IF03013	題 型	單選	難易度	易
題 目	在 Excel 2010 中，一旦超連結物件建立後即無法直接編輯修改，如欲修改則必須使用下列何項方法？				
答 案	4				
選項 1	按下[Shift]，並用滑鼠點選此物件				
選項 2	按下[Alt]，並用滑鼠點選此物件				
選項 3	按下[Ctrl]，並用滑鼠點選此物件				
選項 4	在物件內按滑鼠右鍵，選擇「編輯超連結」				

題目編碼	IF03014	題 型	複選	難易度	中
題 目	在 Excel 2010 中，關於 Excel 超連結之使用，以下敘述哪些正確？				
答 案	1234				
選項 1	可在儲存格中設定超連結				
選項 2	可在圖表中設定超連結				
選項 3	可在繪圖物件中設定超連結				

選項 4	可利用 HYPERLINK 公式設定超連結
------	-----------------------

題目編碼	IF03015	題 型	單選	難易度	易
題 目	在 Excel 2010 中，欲使在儲存格中輸入 TW 字元，按[Enter]鍵後會立即換成「中華民國」是下列何項功能？				
答 案	3				
選項 1	自動填滿				
選項 2	自動完成				
選項 3	自動校正				
選項 4	自訂清單				

題目編碼	IF03016	題 型	複選	難易度	中
題 目	在 Excel 2010 中，有關數字格式的設定，下列敘述哪些正確？				
答 案	23				
選項 1	在儲存格輸入「3:00」，轉換成分數格式後，顯示結果 1/3				
選項 2	在儲存格輸入「3:00」，轉換成分數格式後，顯示結果 1/8				
選項 3	在儲存格輸入「04-3-19」，儲存格式的預設顯示 2004/3/19				
選項 4	在儲存格輸入「04-3-19」，儲存格式的預設顯示 1904/3/19				

題目編碼	IF03017	題 型	單選	難易度	難
題 目	<p>在 Excel 2010 中，如附圖所示，在 A1 儲存格格式中選擇「隱藏」，並執行「檢閱/變更/保護工作表」，執行上述指令後，資料會呈現甲、乙、丙、丁何種的變化？</p> <div style="display: flex; justify-content: space-around;"> <div style="text-align: center;"> <p>甲</p>  </div> <div style="text-align: center;"> <p>乙</p>  </div> </div> <div style="display: flex; justify-content: space-around; margin-top: 20px;"> <div style="text-align: center;"> <p>丙</p>  </div> <div style="text-align: center;"> <p>丁</p>  </div> </div>				
答 案	2				
選項 1	甲				
選項 2	乙				
選項 3	丙				
選項 4	丁				

題目編碼	IF03018	題 型	複選	難易度	中
題 目	在 Excel 2010 中，有關樣式的敘述，下列哪些錯誤？				

答案	23
選項 1	執行「常用」功能區的「樣式/儲存格樣式/新增儲存格樣式」功能，建立自訂儲存格樣式
選項 2	執行「常用」功能區的「樣式/儲存格樣式/合併樣式」功能，移除自訂儲存格樣式
選項 3	Excel 不提供修改既定的自訂儲存格樣式
選項 4	執行「常用」功能區「樣式/儲存格樣式/好、壞與中等」中的「一般」即可移除儲存格樣式

題目編碼	IF03019	題 型	複選	難易度	易
題 目	Excel 2010 新增走勢圖的功能，為可放入儲存格內的小圖表，以視覺化的方式提供資料並呈現趨勢摘要。下列哪些對於走勢的敘述是錯誤？				
答 案	13				
選項 1	不可以在含有走勢圖的儲存格中再輸入文字				
選項 2	在含有走勢圖的儲存格中，可以使用走勢圖的座標軸選項，設定走勢圖或走勢圖群組之垂直座標軸的最大和最小值				
選項 3	走勢圖的資料範圍不可以包含日期型態資料				
選項 4	使用走勢圖的其中一個優點就是，走勢圖跟圖表不同，只要列印含走勢圖的工作表，也會列印走勢圖				

題目編碼	IF03020	題 型	單選	難易度	易
題 目	在 Excel 2010 中，有關戳記簽名欄的敘述，下列何者正確？				
答 案	2				
選項 1	所插入的「戳記簽名欄」是圖片樣式，所以一旦插入後便無法修改				
選項 2	插入的「戳記簽名欄」可輸入簽章者、簽章者職稱、簽章者電子郵件地址及簽章者的指示				
選項 3	所插入的「戳記簽名欄」無法再新增註解的功能				
選項 4	所插入的「戳記簽名欄」無法顯示簽署日期				

題目編碼	IF03021	題 型	單選	難易度	易
題 目	在 Excel 2010 中，有關貼上連結的敘述，下列何者正確？				
答 案	2				
選項 1	活頁簿中的資料複製到另一活頁簿，無法使用「貼上連結」				
選項 2	同一活頁簿中，由工作表複製到另一工作表內，可以使用「貼上連結」				
選項 3	貼上連結除了連結儲存格位址，還會將儲存格格式、格式化條件、資料驗證等設定連結至目的位址				
選項 4	主要用於連結外部網路				





題目編碼	IF03022	題 型	複選	難易度	中
題 目	在 Excel 2010 中，對於「常用」功能區功能的敘述，下列哪些正確？				
答 案	34				
選項 1	在「剪貼簿/貼上」時不一定要貼上儲存格的「值」，亦可選擇只貼上「公式」或只貼上「格式」				
選項 2	「貼上」會將原處之資料覆蓋，而「插入複製的儲存格」會將原處資料左或上移				
選項 3	執行「快速存取工具列」的「重複」，系統會再執行一遍上一次指令				
選項 4	刪除某一個活頁簿中的某一個工作表後，無法以「快速存取工具列」的「復原」來取消				

題目編碼	IF03023	題 型	單選	難易度	易
題 目	在 Excel 2010 中，目前作用中儲存格為 F4 時，當執行「常用/儲存格/插入/插入工作表欄」，下列何者是插入後的情況？				
答 案	1				
選項 1	在 F 欄插入新欄				
選項 2	在第 4 列插入新列				
選項 3	在 G 欄插入新欄				
選項 4	在第 5 列插入新列				

題目編碼	IF03024	題 型	複選	難易度	中
題 目	在 Excel 2010 中，對於視窗的敘述，下列哪些正確？				
答 案	134				
選項 1	使用「檢視/視窗/凍結窗格/凍結窗格」時，會凍結目前所指儲存格左邊所有的欄和上面所有的列				
選項 2	當某一活頁簿被隱藏時，表示此活頁簿會被關閉。當取消此一活頁簿之隱藏時，會重新由磁碟機中再開此活頁簿				
選項 3	使用「檢視/視窗/隱藏視窗」可以讓活頁簿暫時不顯示				
選項 4	當工作區的活頁簿被隱藏時，「檢視/視窗/取消隱藏視窗」的核取方塊便可以被選取				

題目編碼	IF03025	題 型	複選	難易度	中
題 目	在 Excel 2010 中，關於表格轉換成資料範圍的敘述，下列哪些正確？				
答 案	23				
選項 1	無法將表格移除，轉換成資料範圍				
選項 2	在表格內按一下，選擇「設計/工具/轉換成範圍」				
選項 3	在表格內按右鍵，選擇「表格/轉換成範圍」				
選項 4	選取整個表格後按[Delete]				



題目編碼	IF03026	題 型	複選	難易度	難
題 目	在 Excel 2010 中，如附圖所示，欲將 A1 儲存格的格式複製給 A2~A5 下列哪些操作正確？				
答 案	24				
選項 1	按 A1 儲存格右下角填滿控點拖曳至 A5				
選項 2	在 A1 按  後，按住滑鼠不放拖曳 A2~A5 範圍				

選項 3	在 A1 按  後，框選 A2~A5，按「常用/貼上」的「保持來源格式設定」  按鈕
選項 4	在 A1 按  後，框選 A2~A5，選擇「常用/貼上」的「格式設定」  按鈕

題目編碼	IF03027	題 型	複選	難易度	中
題 目	在 Excel 2010 中，載入文字檔的方式下列哪些正確？				
答 案	124				
選項 1	開啟舊檔時，選擇文字型態檔案				
選項 2	在記事簿中選「複製」後，到 Excel 內按「貼上」的方式				
選項 3	在 Excel 中，無法載入文字檔				
選項 4	利用「資料/取得外部資料/從文字檔」載入文字檔				

題目編碼	IF03028	題 型	單選	難易度	易
題 目	在 Excel 2010 中，當你複製完畢後，儲存格仍可以看到動畫的虛線外框，表示仍可繼續複製，若不想再複製原來的儲存格，可以按下列何鍵取消？				
答 案	3				
選項 1	[Enter]鍵				
選項 2	[Del]鍵				
選項 3	[Esc]鍵				
選項 4	[F6]鍵				


題目編碼	IF03029	題 型	單選	難易度	易
題 目	在 Excel 2010 工作表中，設定鎖定與隱藏儲存格後，須再使用何種功能，鎖定與隱藏的功能才會生效？				
答 案	2				
選項 1	儲存檔案				
選項 2	保護工作表				
選項 3	建立名稱				
選項 4	儲存工作環境				


題目編碼	IF03030	題 型	複選	難易度	中
題 目	在 Excel 2010 中，關於錯誤檢查選項之敘述，下列哪些正確？				
答 案	124				
選項 1	發生公式錯誤的儲存格，旁邊會出現  按鈕				
選項 2	發生公式錯誤的儲存格，左上角會出現綠色的三角形				
選項 3	發生公式錯誤的儲存格，右上角會出現紅色的三角形				
選項 4	當您按  旁的箭號時，會出現錯誤檢查的選項清單				

題目編碼	IF03031	題 型	複選	難易度	中
------	---------	-----	----	-----	---

題目	在 Excel 2010 中，有關錯誤指標的描述，下列哪些正確？
答案	234
選項 1	錯誤指標的顏色僅限於以綠色顯示
選項 2	可執行「檔案/選項/公式/錯誤檢查」項目，清除「啟用背景錯誤檢查」核取方塊
選項 3	執行「檔案/選項/公式/錯誤檢查」項目，選擇「使用此色彩標示錯誤」可改變錯誤指標的顏色
選項 4	「檔案/選項/公式/錯誤檢查」項目，選擇「重設被忽略的錯誤」，可以為工作表中的錯誤加上標幟，即使已被忽略的錯誤，亦可重新標幟

題目編碼	IF03032	題 型	單選	難易度	易
題目	在 Excel 2010 中，想在開啟舊檔時，必須輸入密碼才能開啟檔案，下列運用的功能何者正確？				
答案	1				
選項 1	「檔案/另存新檔/Excel 活頁簿/工具/一般選項」的「保護密碼」中輸入密碼				
選項 2	「校閱/變更/保護活頁簿」中輸入密碼				
選項 3	「校閱/變更/保護工作表」中輸入密碼				
選項 4	「校閱/變更/保護且共用活頁簿」中輸入密碼				

題目編碼	IF03033	題 型	複選	難易度	難
題目	在 Excel 2010 中，如附圖所示，下列哪些可以清除 A1 儲存格上的橙色的填滿色彩？				
					
答案	34				
選項 1	按[Delete]鍵				
選項 2	「常用/編輯/清除內容」				
選項 3	「常用/編輯/清除格式」				
選項 4	「常用/字型/填滿色彩/無填滿」				

題目編碼	IF03034	題 型	單選	難易度	難
題目	在 Excel 2010 中，如附圖所示，欲將圖中的民國 82 年改成民國 99 年，可利用「尋找/取代」的方式，應以下列哪一個搜尋與取代條件才正確？				
					
答案	4				
選項 1	尋找目標：82，取代為：99				
選項 2	尋找目標：民國 82 年，取代為：民國 99 年				
選項 3	尋找目標：1982，取代為：2010				
選項 4	尋找目標：1993，取代為：2010				



題目編碼	IF03035	題 型	複選	難易度	中
題 目	在 Excel 2010 內的保護措施，下列敘述哪些正確？				
答 案	12				
選項 1	Excel 的檔案、活頁簿、工作表及儲存格都可以設定保護				
選項 2	檔案的保護分成開啟檔案與唯讀的保護				
選項 3	活頁簿一旦啟動保護後，活頁簿內的所有工作表就無法被刪除、複製、移動，但可以插入新的工作表				
選項 4	工作表保護功能一旦設定後，便會自動保護工作表內所有公式				

題目編碼	IF03036	題 型	複選	難易度	難										
題 目	在 Excel 2010 中，如附圖所示，關於 MID 函數的敘述，下列哪些正確？														
	<table border="1"> <thead> <tr> <th></th> <th>A</th> </tr> </thead> <tbody> <tr> <td>1</td> <td>Ceramic Insulators #124-TD45-87</td> </tr> <tr> <td>2</td> <td>Copper Coils #12-671-6772</td> </tr> <tr> <td>3</td> <td>Variable Resistors #116010</td> </tr> <tr> <td>4</td> <td>Miriam McGovern</td> </tr> </tbody> </table>						A	1	Ceramic Insulators #124-TD45-87	2	Copper Coils #12-671-6772	3	Variable Resistors #116010	4	Miriam McGovern
	A														
1	Ceramic Insulators #124-TD45-87														
2	Copper Coils #12-671-6772														
3	Variable Resistors #116010														
4	Miriam McGovern														
答 案	123														
選項 1	=MID(A1,1,FIND("#",A1,1)-1)，傳回"Ceramic Insulators"														
選項 2	=MID(A2,FIND("#",A2,1),LEN(A2)-FIND("#",A2,1)+1)，傳回"#12-671-6772"														
選項 3	=MID(A3,FIND("R",A3,1),FIND("#",A3,1)-FIND("R",A3,1))，傳回"Resistors"														
選項 4	=MID(A4,18,10)，傳回#VALUE!														

題目編碼	IF03037	題 型	單選	難易度	易
題 目	在 Excel 2010 中，BRENT 活頁簿要參照 ANDY 活頁簿 Sheet1 的 A1 儲存格，應該用下列的哪一個公式？				
答 案	4				
選項 1	=Sheet1!\$A\$1				
選項 2	=(ANDY.xlsx)Sheet1 A1				
選項 3	={ANDY.xlsx}!\$A\$1				
選項 4	=[ANDY.xlsx]Sheet1!\$A\$1				

題目編碼	IF03038	題 型	單選	難易度	易
題 目	在 Excel 2010 中，假設儲存格 A1、A2、A3 原先的值分別為 1、2、3，儲存格 A4 的公式為=\$A\$1+\$A\$2+\$A\$3，當移動 A2 儲存格至 B5，則儲存格 A4 之值為下列何項？				
答 案	1				
選項 1	6				
選項 2	4				
選項 3	#ERR				
選項 4	0				

題目編碼	IF03039	題 型	複選	難易度	中
題 目	在 Excel 2010 中，儲存格顯示「#REF!」錯誤時，可能發生下列哪些問題？				
答 案	134				



選項 1	刪除或移動公式內參照的儲存格資料
選項 2	連結至已啟動的動態資料交換(DEE)主題
選項 3	執行巨集時輸入函數，亦會傳回#REF!
選項 4	使用物件連結與嵌入(OLE)連結至未執行的程式

題目編碼	IF03040	題 型	複選	難易度	中
題 目	在 Excel 2010 中，下列敘述哪些正確？				
答 案	34				
選項 1	函數 ABS(-2.9)的計算結果為 3				
選項 2	=SUMIF(A1:A20, ">10", A21)會將 A1 到 A20 內的值大於 10 的儲存格加總後放入 A21				
選項 3	函數=UPPER("Taipei")的計算結果為 TAIPEI				
選項 4	在 Excel 中，函數 ROUND(12333.678, -2)的計算結果為 12300				

題目編碼	IF03041	題 型	單選	難易度	易
題 目	在 Excel 2010 中，若 A1 儲存格的值為 70，而 B1 儲存格的公式設定為=IF(A1>=60, A1*2, IF(B1>=70, A1*3, A1*4))時，則 B1 的運算結果應為下列何項？				
答 案	2				
選項 1	70				
選項 2	140				
選項 3	210				
選項 4	280				

題目編碼	IF03042	題 型	複選	難易度	中																											
題 目	在 Excel 2010 中，如附圖所示，有關 COUNT 與 COUNTA 函數的敘述，下列哪些正確？																															
	<table border="1"> <thead> <tr> <th></th> <th>A</th> <th>B</th> </tr> </thead> <tbody> <tr> <td>1</td> <td>620118</td> <td></td> </tr> <tr> <td>2</td> <td>庫存量</td> <td></td> </tr> <tr> <td>3</td> <td></td> <td></td> </tr> <tr> <td>4</td> <td>TRUE</td> <td></td> </tr> <tr> <td>5</td> <td>#DIV/0!</td> <td></td> </tr> <tr> <td>6</td> <td>95/11/4</td> <td></td> </tr> <tr> <td>7</td> <td>2 2/15</td> <td></td> </tr> <tr> <td>8</td> <td></td> <td></td> </tr> </tbody> </table>						A	B	1	620118		2	庫存量		3			4	TRUE		5	#DIV/0!		6	95/11/4		7	2 2/15		8		
	A	B																														
1	620118																															
2	庫存量																															
3																																
4	TRUE																															
5	#DIV/0!																															
6	95/11/4																															
7	2 2/15																															
8																																
答 案	134																															
選項 1	COUNT 函數是計算含有數字的儲存格數量																															
選項 2	COUNTA 函數是計算含有文字的儲存格數量																															
選項 3	在 B1 儲存格內輸入=COUNTA(A1:A7)，結果為 6																															
選項 4	在 B1 儲存格內輸入=COUNT(A1:A7,8)，結果為 4																															

題目編碼	IF03043	題 型	複選	難易度	中
題 目	在 Excel 2010 中，有關 FIND 與 SEARCH 函數的敘述，下列哪些正確？				
答 案	124				
選項 1	FIND 與 SEARCH 函數是在某一文字字串內找另一個文字字串，並傳回該搜尋字串的起始位置				
選項 2	FIND 與 SEARCH 函數最大的差異是，FIND 在搜尋值會區分大小寫，而 SEARCH 不會				

選項 3	FIND 函數於搜尋字串中可以包含萬用字元，SEARCH 不可
選項 4	FIND 與 SEARCH 函數，當搜尋不到符合條件字串時，傳回#VALUE!的錯誤訊息

題目編碼	IF03044	題 型	單選	難易度	易
題 目	在 Excel 2010 中，下列哪一個是循環參照的用意？				
答 案	3				
選項 1	公式內參照至另一活頁簿之儲存格				
選項 2	公式內參照至另一工作表之儲存格				
選項 3	公式內參照至使用此公式之儲存格				
選項 4	公式內參照至另一 Excel 檔案之儲存格				

題目編碼	IF03045	題 型	單選	難易度	易
題 目	在 Excel 2010 中，工作表立體參照公式=SUM(Sheet2:Sheet6!B2:B5)，下列何項正確？				
答 案	4				
選項 1	2 張工作表 Sheet2 和 Sheet6 中的 4 個儲存格從 B2 到 B5 總和				
選項 2	5 張工作表從 Sheet2 至 Sheet6 中的 2 個儲存格 B2、B5 的總和				
選項 3	2 張工作表 Sheet2、Sheet6 中的 2 個儲存格 B2、B5 的總和				
選項 4	5 張工作表從 Sheet2 至 Sheet6 中的 4 個儲存格從 B2 至 B5 的總和				

題目編碼	IF03046	題 型	單選	難易度	難																									
題 目	在 Excel 2010 中，如附圖所示，已經根據範圍 A1~D4 的最左欄頂端列建立範圍名稱，欲找出中區三月份營業額，下列何者為正確的公式？																													
	<table border="1"> <thead> <tr> <th></th> <th>A</th> <th>B</th> <th>C</th> <th>D</th> </tr> </thead> <tbody> <tr> <td>1</td> <td></td> <td>一月</td> <td>二月</td> <td>三月</td> </tr> <tr> <td>2</td> <td>北區</td> <td>3,000</td> <td>8,000</td> <td>5,000</td> </tr> <tr> <td>3</td> <td>中區</td> <td>5,000</td> <td>4,000</td> <td>2,000</td> </tr> <tr> <td>4</td> <td>南區</td> <td>6,000</td> <td>5,000</td> <td>7,000</td> </tr> </tbody> </table>						A	B	C	D	1		一月	二月	三月	2	北區	3,000	8,000	5,000	3	中區	5,000	4,000	2,000	4	南區	6,000	5,000	7,000
	A	B	C	D																										
1		一月	二月	三月																										
2	北區	3,000	8,000	5,000																										
3	中區	5,000	4,000	2,000																										
4	南區	6,000	5,000	7,000																										
答 案	4																													
選項 1	=A3=D1																													
選項 2	=A3&D1																													
選項 3	=中區&三月																													
選項 4	=中區 三月																													

題目編碼	IF03047	題 型	複選	難易度	中
題 目	在 Excel 2010 中，有關公式與函數的運用，下列敘述哪些正確？				
答 案	14				
選項 1	外部參照的語法為「=[活頁簿名稱]工作表名稱!儲存格範圍」，但如果工作表名稱首字元為數字，則工作表名稱前後需加單引號()				
選項 2	A1 的儲存格為「Microsoft」，A2 為「Excel」，A3 如顯示為「MicrosoftExcel」則公式需輸入="A1"+"A2"				
選項 3	A1 為 80、A2 為空儲存格、A3 為 60，則在 A4 輸入公式計算=(A1+A2+A3)/3，相當於函式輸入=Average(A1:A3)				
選項 4	函數或公式跟字元的結合需用符號「&」				

題目編碼	IF03048	題 型	單選	難易度	易
------	---------	-----	----	-----	---

在 Excel 2010 中，如附圖所示，請問「字典查詢」工作表 B2 儲存格的公式內容，為下列何者？

當選擇 B1 儲存格內專有名詞後，自動搜尋「字典」範圍名稱，並傳回該專有名詞的解釋，如果 B1 為空的內容，不顯示任何訊息。在「字典」工作表中已經設定下列範圍名稱：

「字典」範圍名稱：「字典」工作表的 A2~B93。

「專有名詞」範圍名稱：「字典」工作表的 A2~A93。

「解釋」範圍名稱：「字典」工作表的 B2~B93。

則「字典查詢」工作表 B2 的公式內容，下列何者？

題 目

	A	B
1	專有名詞	解釋
2	ADC(Automated Data Collection) 自動資料收集	能夠自動作資料收集的科技，這些資料包括條碼、生化統計學資料 (biometrics)、機械式視力、磁條、光學卡讀卡機 (Optical Card Readers)、語音辨識、精靈卡 (smart cards)，和無線電波頻率辨識 (Radio Frequency Identification)。
3	All-source analysts 全資源分析師	處理來自多樣化來源之資訊，關切角度比單一資訊來源的分析師更廣博，而且直接對決策者匯報的分析師。
4	API(Application Programming Interface) 應用程式介面	以單一應用程式，去與其他系統程式溝通的介面。企業資源規劃 (ERP) 的生產廠商，以應用程式介面將其他企業資源規劃之應用整合在一起。
5	Automated data capture 自動化資料擷取	自動地擷取、獲得資料，例如各式用來擷取資料的光學及電子掃描器或條碼機。
6	BPR(Business Process Re-engineering) 商業流程再造	一種把目標訂在重新改造組織工作流程，以提高生產力，並期望降低組織營運成本的方法論；這種方法論常常與管理動機論 (Management Initiatives) 相提並論或作為附屬架構，有時亦合稱為BPR。

	A	B
1	專有名詞	Knowledge repositories 知識貯藏庫
2	解釋	經過處理後的有用資訊，被稱為知識金塊 (knowledge nuggets)，其集合稱為知識貯藏庫。知識貯藏庫的內容物，具備最佳範例 (Best practices) 的威信，這表示產品的品質和可信度都經過確認，而且已經根據某些體系加以組織，以襄助視覺、操縱和瀏覽 (navigate)。知識貯藏庫的例子包括：把「已授課課程 (lessons learned)」—當然，這些課程必須附有日期、作者和主題類別等一串連在一起的討論資料庫；還有產品行銷資料和方法的知識貯藏庫，其中包含了經過篩選的產品知識；另外，也有競爭對手情報的知識貯藏庫。
3		

答 案

3

選項 1 =VLOOKUP(B1,專有名詞,2,0)

選項 2 =VLOOKUP(B1,解釋,2,0)

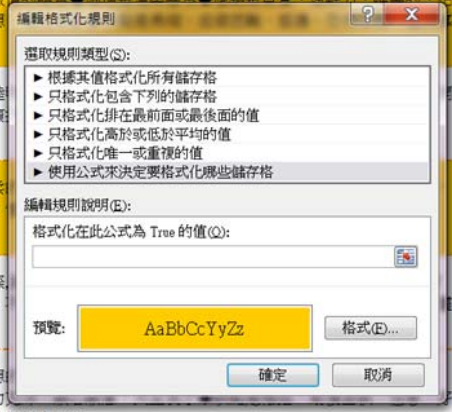
選項 3 =IF(ISBLANK(B1),"",VLOOKUP(B1,字典,2,0))

選項 4 =IF(ISBLANK(B1),VLOOKUP(B1,字典,2,0),"")

題目編碼	IF03049	題 型	單選	難易度	難
------	---------	-----	----	-----	---

在 Excel 2010 中，如附圖所示，在星座分析欄內只要有「溫柔」二字，整列便以金色填滿色彩顯示，則 A2~F101 編輯格式化條件的公式內容下列何者正確？

	A	B	C	D	E	F
1	編號	姓名	生日	星座	型態	星座分析
52	51	洪秀芳	70年02月22日	雙魚座	【水象星座】 守護行星～～ 海王星	愛情觀是純情與激情的結合... 拉圖式的愛、幻想斷、意志薄弱
53	52	李東益	65年06月11日	雙子座	【風象星座】 守護行星～～ 水星	愛情觀是感情和聰明、反應機智、瀟灑薄、光說不練
54	53	陳喬甫	68年06月30日	巨蟹座	【水象星座】 守護行星～～ 月亮	愛情觀是純真溫柔反應佳、想像力、情、恐怖心機
55	54	陳梓煒	71年01月19日	摩羯座	【土象星座】 守護行星～～ 土星	愛情觀是不擅交際、野心、可靠、活、疑神疑鬼
56	55	張剛璋	71年04月05日	白羊座	【火象星座】 守護行星～～ 火星	愛情觀是追求理想、行動力、活力、戰、虛榮心、事情做得太過分



答案	2
選項 1	=FIND("溫柔",F2)
選項 2	=FIND("溫柔", \$F2,1)
選項 3	=FIND("溫柔", \$F\$2,1)
選項 4	=FIND(F2, "溫柔",1)

題目編碼	IF03050	題 型	單選	難易度	易
------	---------	-----	----	-----	---

在 Excel 2010 中，如附圖所示，以 HYPERLINK 函數設定連結，開啟在「新聞文件」資料夾中與新聞標題相同檔名的 Word 文件檔，以新聞標題為顯示名稱，下列敘述何者正確？

題目

新聞標題	日期
北京奧運經濟啟動總值逾三萬億	日(週一)
京奧運預計純利1600萬美元	大公報 93年04月18日(週日)
奧運趕工 雅典太慢 北京太快	聯合新聞網 93年04月15日(週四)
高爾夫缺席百年後可能重返奧運 但職業高手是否參賽取說初秋	路透社 93年03月23日(週二)
北京規劃新建棒球場 座席一萬五千人	中廣新聞網 93年04月14日(週三)
北京奧運將定位為科技奧運	聯合新聞網 93年04月12日(週一)
五星級公廁 北京喊停	中時電子報 93年04月11日(週日)
中國興建2008奧運建築刺激全球鋼價上揚	中央社 93年04月07日(週三)
看好奧運商機 北京猛蓋大飯店	民視 93年04月05日(週一)

答案	4
選項 1	=HYPERLINK(新聞標題!A1,"新聞標題!A1.doc")
選項 2	=HYPERLINK("新聞標題!A1.doc",新聞標題!A1)
選項 3	=HYPERLINK(新聞標題!A1, "新聞文件\"&新聞標題!A1&".doc")
選項 4	=HYPERLINK("新聞文件\"&新聞標題!A1&".doc",新聞標題!A1)

題目編碼	IF03051	題 型	複選	難易度	難
------	---------	-----	----	-----	---

題目 在 Excel 2010 中，在儲存格 A1 輸入 university，但是發現單字名稱的第一個字母需要大寫，利用下列函數輸入，哪些正確？

答案	23
選項 1	=UPPER(LEFT(A1,1))

選項 2	=UPPER(LEFT(A1,1))&RIGHT(A1,LEN(A1)-1)
選項 3	=PROPER(A1)
選項 4	= PROPER (A1,1)

題目編碼	IF03052	題 型	複選	難易度	難																																																																																																																																																
題 目	<p>在 Excel 2010 中，如附圖所示，製作九九乘法表，如果指定 B1~J1 的範圍名稱為「列」，A2~A10 的範圍名稱為「欄」，於建立 B2 公式後，將公式複製給 B3~J10，則 B2 的公式應為下列哪些？</p> <table border="1"> <thead> <tr> <th></th> <th>A</th> <th>B</th> <th>C</th> <th>D</th> <th>E</th> <th>F</th> <th>G</th> <th>H</th> <th>I</th> <th>J</th> <th>K</th> </tr> </thead> <tbody> <tr> <th>1</th> <td></td> <td>1</td> <td>2</td> <td>3</td> <td>4</td> <td>5</td> <td>6</td> <td>7</td> <td>8</td> <td>9</td> <td></td> </tr> <tr> <th>2</th> <td>1</td> <td>1×1=1</td> <td>2×1=2</td> <td>3×1=3</td> <td>4×1=4</td> <td>5×1=5</td> <td>6×1=6</td> <td>7×1=7</td> <td>8×1=8</td> <td>9×1=9</td> <td></td> </tr> <tr> <th>3</th> <td>2</td> <td>1×2=2</td> <td>2×2=4</td> <td>3×2=6</td> <td>4×2=8</td> <td>5×2=10</td> <td>6×2=12</td> <td>7×2=14</td> <td>8×2=16</td> <td>9×2=18</td> <td></td> </tr> <tr> <th>4</th> <td>3</td> <td>1×3=3</td> <td>2×3=6</td> <td>3×3=9</td> <td>4×3=12</td> <td>5×3=15</td> <td>6×3=18</td> <td>7×3=21</td> <td>8×3=24</td> <td>9×3=27</td> <td></td> </tr> <tr> <th>5</th> <td>4</td> <td>1×4=4</td> <td>2×4=8</td> <td>3×4=12</td> <td>4×4=16</td> <td>5×4=20</td> <td>6×4=24</td> <td>7×4=28</td> <td>8×4=32</td> <td>9×4=36</td> <td></td> </tr> <tr> <th>6</th> <td>5</td> <td>1×5=5</td> <td>2×5=10</td> <td>3×5=15</td> <td>4×5=20</td> <td>5×5=25</td> <td>6×5=30</td> <td>7×5=35</td> <td>8×5=40</td> <td>9×5=45</td> <td></td> </tr> <tr> <th>7</th> <td>6</td> <td>1×6=6</td> <td>2×6=12</td> <td>3×6=18</td> <td>4×6=24</td> <td>5×6=30</td> <td>6×6=36</td> <td>7×6=42</td> <td>8×6=48</td> <td>9×6=54</td> <td></td> </tr> <tr> <th>8</th> <td>7</td> <td>1×7=7</td> <td>2×7=14</td> <td>3×7=21</td> <td>4×7=28</td> <td>5×7=35</td> <td>6×7=42</td> <td>7×7=49</td> <td>8×7=56</td> <td>9×7=63</td> <td></td> </tr> <tr> <th>9</th> <td>8</td> <td>1×8=8</td> <td>2×8=16</td> <td>3×8=24</td> <td>4×8=32</td> <td>5×8=40</td> <td>6×8=48</td> <td>7×8=56</td> <td>8×8=64</td> <td>9×8=72</td> <td></td> </tr> <tr> <th>10</th> <td>9</td> <td>1×9=9</td> <td>2×9=18</td> <td>3×9=27</td> <td>4×9=36</td> <td>5×9=45</td> <td>6×9=54</td> <td>7×9=63</td> <td>8×9=72</td> <td>9×9=81</td> <td></td> </tr> <tr> <th>11</th> <td></td> <td></td> <td></td> <td></td> <td></td> <td></td> <td></td> <td></td> <td></td> <td></td> <td></td> </tr> </tbody> </table>						A	B	C	D	E	F	G	H	I	J	K	1		1	2	3	4	5	6	7	8	9		2	1	1×1=1	2×1=2	3×1=3	4×1=4	5×1=5	6×1=6	7×1=7	8×1=8	9×1=9		3	2	1×2=2	2×2=4	3×2=6	4×2=8	5×2=10	6×2=12	7×2=14	8×2=16	9×2=18		4	3	1×3=3	2×3=6	3×3=9	4×3=12	5×3=15	6×3=18	7×3=21	8×3=24	9×3=27		5	4	1×4=4	2×4=8	3×4=12	4×4=16	5×4=20	6×4=24	7×4=28	8×4=32	9×4=36		6	5	1×5=5	2×5=10	3×5=15	4×5=20	5×5=25	6×5=30	7×5=35	8×5=40	9×5=45		7	6	1×6=6	2×6=12	3×6=18	4×6=24	5×6=30	6×6=36	7×6=42	8×6=48	9×6=54		8	7	1×7=7	2×7=14	3×7=21	4×7=28	5×7=35	6×7=42	7×7=49	8×7=56	9×7=63		9	8	1×8=8	2×8=16	3×8=24	4×8=32	5×8=40	6×8=48	7×8=56	8×8=64	9×8=72		10	9	1×9=9	2×9=18	3×9=27	4×9=36	5×9=45	6×9=54	7×9=63	8×9=72	9×9=81		11											
	A	B	C	D	E	F	G	H	I	J	K																																																																																																																																										
1		1	2	3	4	5	6	7	8	9																																																																																																																																											
2	1	1×1=1	2×1=2	3×1=3	4×1=4	5×1=5	6×1=6	7×1=7	8×1=8	9×1=9																																																																																																																																											
3	2	1×2=2	2×2=4	3×2=6	4×2=8	5×2=10	6×2=12	7×2=14	8×2=16	9×2=18																																																																																																																																											
4	3	1×3=3	2×3=6	3×3=9	4×3=12	5×3=15	6×3=18	7×3=21	8×3=24	9×3=27																																																																																																																																											
5	4	1×4=4	2×4=8	3×4=12	4×4=16	5×4=20	6×4=24	7×4=28	8×4=32	9×4=36																																																																																																																																											
6	5	1×5=5	2×5=10	3×5=15	4×5=20	5×5=25	6×5=30	7×5=35	8×5=40	9×5=45																																																																																																																																											
7	6	1×6=6	2×6=12	3×6=18	4×6=24	5×6=30	6×6=36	7×6=42	8×6=48	9×6=54																																																																																																																																											
8	7	1×7=7	2×7=14	3×7=21	4×7=28	5×7=35	6×7=42	7×7=49	8×7=56	9×7=63																																																																																																																																											
9	8	1×8=8	2×8=16	3×8=24	4×8=32	5×8=40	6×8=48	7×8=56	8×8=64	9×8=72																																																																																																																																											
10	9	1×9=9	2×9=18	3×9=27	4×9=36	5×9=45	6×9=54	7×9=63	8×9=72	9×9=81																																																																																																																																											
11																																																																																																																																																					
答 案	14																																																																																																																																																				
選項 1	=B\$1&"×"&\$A2&"="&B\$1*\$A2																																																																																																																																																				
選項 2	=\$B1&"×"&A\$2&"="&\$B1*A\$2																																																																																																																																																				
選項 3	=欄&"×"&列&"="&欄*列																																																																																																																																																				
選項 4	=列&"×"&欄&"="&列*欄																																																																																																																																																				

題目編碼	IF03053	題 型	單選	難易度	難															
題 目	<p>在 Excel 2010 中，如附圖所示，要以零存整付的方式將錢存在銀行，年利率為 2.5%，想在 5 年內存滿一百萬，則在 D2 內應輸入下列何項函數內容？</p> <table border="1"> <thead> <tr> <th></th> <th>A</th> <th>B</th> <th>C</th> <th>D</th> </tr> </thead> <tbody> <tr> <th>1</th> <td>期末領回</td> <td>年數</td> <td>年利率</td> <td>每月應存</td> </tr> <tr> <th>2</th> <td>1,000,000</td> <td>5</td> <td>2.50%</td> <td>-\$17,747</td> </tr> </tbody> </table>						A	B	C	D	1	期末領回	年數	年利率	每月應存	2	1,000,000	5	2.50%	-\$17,747
	A	B	C	D																
1	期末領回	年數	年利率	每月應存																
2	1,000,000	5	2.50%	-\$17,747																
答 案	1																			
選項 1	=PMT(C2/12,B2*12,A2)																			
選項 2	=IPMT(C2,B2,A2)																			
選項 3	=FV(C2/12,B2*12,A2)																			
選項 4	=PV(C2,B2,A2)																			

題目編碼	IF03054	題 型	單選	難易度	難
題 目	<p>在 Excel 2010 中，如附圖所示，依據「膽固醇指標」範圍名稱計算膽固醇標準含量，則 H2 的公式應為下列何者？</p>				



	A	B	C	D	E	F	G	H	I	J	K
1	病歷號碼	姓名	生日	年齡	性別	身高	體重	膽固醇含量	體重下限	體重上限	健康建言
2	0141	夏劍清	民國 54-02-26	滿 46 歲	女	158 cm	45 kg	166 mg %	-----52 kg	-----56 kg	體重過輕 7 kg
3	0185	孫平瑩	民國 64-09-24	滿 35 歲	女	165 cm	58 kg	160 mg %	-----56 kg	-----60 kg	
4	0220	朱毅敏	民國 62-03-08	滿 38 歲	男	185 cm	86 kg	166 mg %	-----74 kg	-----78 kg	體重過胖 8 kg
5	0222	林樂玲	民國 63-08-15	滿 36 歲	女	162 cm	49 kg	158 mg %	-----54 kg	-----58 kg	體重過輕 5 kg
6	0226	簡斯華	民國 65-11-16	滿 34 歲	男	174 cm	80 kg	166 mg %	-----66 kg	-----70 kg	體重過胖 10 kg
7	0297	祝詩仁	民國 60-01-14	滿 40 歲	男	168 cm	70 kg	172 mg %	-----62 kg	-----66 kg	體重過胖 4 kg

	A	B	C	D	E	F	G	H	I	J	K	
1	膽固醇標準含量											
2	體重	40-49	50-59	60-69	70-79	80-89	90-99					
3	20-29	150	152	154	156	158	160					
4	30-39	158	160	162	164	166	168					
5	40-49	166	168	170	172	174	176					
6	50-59	174	176	178	180	182	184					
7	60-69	182	184	186	188	190	192					
8	70-79	190	192	194	196	198	200					
9												

B3~G8命名為「膽固醇指標」範圍名稱

答案	4
選項 1	=INDEX(膽固醇指標,D2/10,(G2/10))
選項 2	=INDEX(膽固醇指標,D2-1,G2-3)
選項 3	=INDEX(膽固醇指標,D2/10+1,(G2/10)+3)
選項 4	=INDEX(膽固醇指標,D2/10-1,(G2/10)-3)

題目編碼	IF03055	題型	複選	難易度	難
------	---------	----	----	-----	---

在 Excel 2010 中，如附圖所示，下列工作表的左表內為問卷調查結果，今以 Frequency 函數統計資料，則下列敘述哪些正確？

	A	B	C	D	E	F	G	H	I
1	受訪者	第1題	第2題	第3題		滿意度	第1題	第2題	第3題
2	001	3	1	4		4	2	1	3
3	002	2	3	4		3	2	3	1
4	003	2	2	1		2	3	1	1
5	004	2	1	2		1	0	2	2
6	005	4	3	3					
7	006	3	3	1					
8	007	4	4	4					
9	008	4	2	2					
10	009	3	2	3					
11	010	4	3	1					

答案	124
選項 1	在 G2 輸入的公式為 =FREQUENCY(B2:B8,\$F\$2:\$F\$5)
選項 2	G2~I5 的公式必須為陣列元素
選項 3	設定陣列元素可直接在儲存格內輸入 {} 符號，變成 {=FREQUENCY(B2:B8,\$F\$2:\$F\$5)}

選項 4	設定陣列元素時，框選 G2~G5 後，並在資料編輯列按一下進入編輯狀態，然後按 [Ctrl]+[Shift]+[Enter]，則 G2~G5 即轉換為陣列元素，再利用填滿控點複製給 H2~I5
------	--

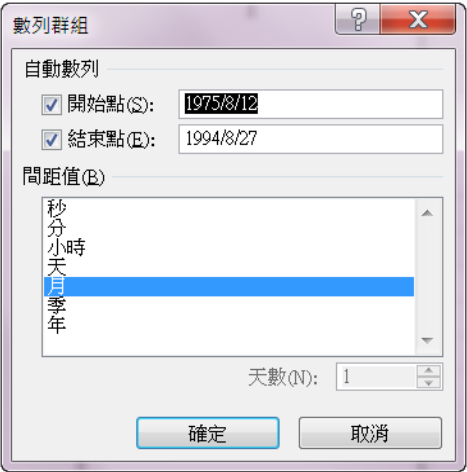
題目編碼	IF03056	題 型	複選	難易度	中
題 目	在 Excel 2010 中，自動篩選和進階篩選的區別，下列敘述哪些正確？				
答 案	12				
選項 1	自動篩選可在目前的資料表直接挑選所需的資料				
選項 2	進階篩選可將挑選的資料「複製到」其他工作表				
選項 3	自動篩選可以不選重複的記錄				
選項 4	進階篩選不需要使用準則範圍就可挑選出所需的資料				

題目編碼	IF03057	題 型	複選	難易度	中
題 目	在 Excel 2010 中，有關螢幕截取畫面的敘述，下列哪些正確？				
答 案	124				
選項 1	一次只能新增一個螢幕擷取畫面。若要新增多個螢幕擷取畫面，需重複執行「插入/圖例/螢幕擷取畫面」的步驟				
選項 2	螢幕擷取畫面是對擷取可能變更或過期的資訊執行快照的動作，對於保留過期的資訊相當有用				
選項 3	由於螢幕擷取畫面的「可用視窗」只提供 Office 軟體視窗，所以僅能擷取 Office 軟體的畫面，無法擷取網頁或是其他來源檔案的畫面				
選項 4	螢幕擷取畫面為靜態圖像，所以當擷取某項內容的螢幕擷取畫面時，若來源端的資訊變更，螢幕擷取畫面不會隨著更新				

題目編碼	IF03058	題 型	複選	難易度	中
題 目	在 Excel 2010 中，有關增益集(Add-Ins)的安裝與移除敘述，下列敘述哪些正確？				
答 案	234				
選項 1	在 Excel 中的預設狀態，增益集可以不必安裝及啟動，就可以使用這些增益集				
選項 2	一般而言，停用增益集後，就會從功能區的該增益集群組中移除。若停用後，仍未從功能區移除增益集，則需要重新啟動 Excel				
選項 3	若要移除自動化增益集，必須從登錄中將它移除				
選項 4	停用增益集並不會從電腦上移除此增益集。若要從電腦中移除此增益集，必須將它解除安裝				

題目編碼	IF03059	題 型	複選	難易度	中
題 目	在 Excel 2010 中，有關從資料來源匯入資料的方式，下列敘述哪些正確？				
答 案	1234				
選項 1	Excel 活頁簿中的資料可以來自兩個不同的位置：資料可以直接儲存在活頁簿中，也可以儲存在外部資料來源中，如文字檔、資料庫或線上分析處理				
選項 2	外部資料來源是透過資料連線連接至活頁簿，資料連線是說明如何尋找、登入及存取外部資料來源的一組資訊				
選項 3	連接至外部資料的主要優點是可以定期分析這種資料而不必重複複製資料到活頁簿，複製作業很耗費時間而且容易出錯				
選項 4	連線資訊是儲存在活頁簿中，也可以儲存在連線檔案中，如 Office 資料連線(ODC)檔案(.odc)或資料來源名稱檔案(.dsn)				

題目編碼	IF03060	題 型	複選	難易度	中
題 目	在 Excel 2010 中，有關資料驗證的描述下列哪些正確？				
答 案	12				
選項 1	資料驗證主要功能在於規範資料輸入的限制，以確保資料輸入的正確性				
選項 2	資料驗證可以在儲存格內設定「整數、實數、文字長度、日期」的驗證準則				
選項 3	資料驗證功能無法在儲存格內自行設定函數與公式的驗證準則				
選項 4	當啟動共用活頁簿時，仍可對資料範圍進行資料驗證設定				

題目編碼	IF03061	題 型	單選	難易度	易
題 目	<p>在 Excel 2010 中，如附圖所示，在樞紐分析表中以日期型態組成群組，卻不出現「數列群組」視窗，其原因為下列何者？</p> 				
答 案	1				
選項 1	此欄位非日期型態資料				
選項 2	此欄位為日期型態，但儲存格設定為非日期格式				
選項 3	此欄位為數值型態資料，格式為日期型態				
選項 4	此欄位為長日期時間格式				

題目編碼	IF03062	題 型	複選	難易度	中
題 目	在 Excel 2010 中，下列哪些是屬於增益集的特性？				
答 案	123				
選項 1	副檔名為 XLAM				
選項 2	只有在安裝後方可使用				
選項 3	每次啟動 Excel 後均會立即載入上次使用 Excel 時開啟之增益集				
選項 4	無法自訂增益集				

題目編碼	IF03063	題 型	複選	難易度	中
題 目	在 Excel 2010 中，下列有關「資料/大綱/小計」之敘述哪些錯誤？				
答 案	234				
選項 1	要作為分組依據的欄位，先要經排序				
選項 2	只能對數值欄位作「加總」				
選項 3	要加總的欄位一定為分組的欄位				



選項 4	小計的結果一定置於明細資料的下方			
------	------------------	--	--	--

題目編碼	IF03064	題 型	複選	難易度	中
題 目	在 Excel 2010 中，有關篩選唯一值與移除重複值的敘述，下列哪些正確？				
答 案	234				
選項 1	篩選唯一值與移除重複值執行後，重複的資料均被刪除				
選項 2	移除重複值執行後會將重複性資料永遠刪除，篩選唯一值執行後，將會隱藏重複性資料				
選項 3	執行「資料/排序與篩選/進階/在原有範圍顯示篩選結果」，並選取「不選重複的記錄」即可篩選唯一值				
選項 4	執行「資料/資料工具/移除重複」選擇指定重複項目的欄位，便刪除重複性資料				

題目編碼	IF03065	題 型	單選	難易度	易
題 目	在 Excel 2010 中，要在資料清單同一類中插入小計統計數之前要先將資料清單做下列何種動作？				
答 案	2				
選項 1	加總				
選項 2	排序				
選項 3	存檔				
選項 4	彙總				

題目編碼	IF03066	題 型	複選	難易度	中
題 目	在 Excel 2010 中，關於樞紐分析表，下列哪些敘述正確？				
答 案	134				
選項 1	樞紐分析表的結果可設定產生在同一張或另一張工作表上				
選項 2	清單資料來源更改後，樞紐分析表會自動更正				
選項 3	按滑鼠右鍵會顯示快顯功能表				
選項 4	樞紐分析表的「總計列」或「總計欄」可以選擇要或不要				

題目編碼	IF03067	題 型	複選	難易度	易
題 目	在 Excel 2010 中，進階篩選中，若使用公式作為篩選準則，下列敘述哪些正確？				
答 案	123				
選項 1	公式內必須以資料輸入區第一筆資料比對				
選項 2	公式結果必須為 True 或 False				
選項 3	公式內不能使用範圍標題				
選項 4	準則範圍內的欄位標題必須與資料輸入範圍的欄位標題完全一樣				

題目編碼	IF03068	題 型	複選	難易度	易
題 目	在 Excel 2010 中，關於進階篩選的敘述，下列哪些正確？				
答 案	123				
選項 1	做進階篩選時，其準則範圍至少要包含兩列				
選項 2	做進階篩選時，若準則中的公式須參考到某欄位時，可以用該欄位的第一個有值儲存格的位址或直接取其欄位名稱表示之				


選項 3	利用「資料/排序與篩選/進階」，可以指定符合準則之記錄所要顯示的位址
選項 4	進階篩選的準則範圍及複製篩選範圍可以指定到其他工作表

題目編碼	IF03069	題 型	單選	難易度	易
題 目	在 Excel 2010 中，若"週一"、"週二"、"週三"、"週四"、"週五"、"週六" 以「一般」的順序遞增排列，則排列後的順序為下列何者？				
答 案	1				
選項 1	週一、"週二"、"週三"、"週五"、"週六"、"週四"				
選項 2	週一、"週二"、"週三"、"週四"、"週五"、"週六"				
選項 3	週六、"週五"、"週四"、"週三"、"週二"、"週一"				
選項 4	週一、"週二"、"週三"、"週六"、"週五"、"週四"				

題目編碼	IF03070	題 型	單選	難易度	難																																																																																																														
題 目	在 Excel 2010 中，如附圖所示，執行完小計功能後，欲將小計資料以「貼上連結」方式複製到新工作表中，下列何者為正確操作方式？																																																																																																																		
	<table border="1"> <thead> <tr> <th>1</th> <th>2</th> <th>3</th> <th>A</th> <th>B</th> <th>C</th> <th>D</th> <th>E</th> <th>F</th> <th>G</th> </tr> </thead> <tbody> <tr> <td></td> <td>1</td> <td></td> <td>員工號碼</td> <td>姓名</td> <td>職務</td> <td>工作地點</td> <td>到職日期</td> <td>年資</td> <td>本俸</td> </tr> <tr> <td></td> <td>5</td> <td>+</td> <td></td> <td></td> <td>經理 平均值</td> <td></td> <td></td> <td></td> <td>57,667</td> </tr> <tr> <td></td> <td>7</td> <td>+</td> <td></td> <td></td> <td>主任 平均值</td> <td></td> <td></td> <td></td> <td>30,000</td> </tr> <tr> <td></td> <td>15</td> <td>+</td> <td></td> <td></td> <td>科長 平均值</td> <td></td> <td></td> <td></td> <td>52,714</td> </tr> <tr> <td></td> <td>24</td> <td>+</td> <td></td> <td></td> <td>副科長 平均值</td> <td></td> <td></td> <td></td> <td>45,750</td> </tr> <tr> <td></td> <td>44</td> <td>+</td> <td></td> <td></td> <td>工程師 平均值</td> <td></td> <td></td> <td></td> <td>47,316</td> </tr> <tr> <td></td> <td>53</td> <td>+</td> <td></td> <td></td> <td>辦事員 平均值</td> <td></td> <td></td> <td></td> <td>38,000</td> </tr> <tr> <td></td> <td>56</td> <td>+</td> <td></td> <td></td> <td>助理 平均值</td> <td></td> <td></td> <td></td> <td>33,000</td> </tr> <tr> <td></td> <td>57</td> <td>-</td> <td></td> <td></td> <td>總計平均數</td> <td></td> <td></td> <td></td> <td>45,979</td> </tr> <tr> <td></td> <td>58</td> <td></td> <td></td> <td></td> <td></td> <td></td> <td></td> <td></td> <td></td> </tr> </tbody> </table>					1	2	3	A	B	C	D	E	F	G		1		員工號碼	姓名	職務	工作地點	到職日期	年資	本俸		5	+			經理 平均值				57,667		7	+			主任 平均值				30,000		15	+			科長 平均值				52,714		24	+			副科長 平均值				45,750		44	+			工程師 平均值				47,316		53	+			辦事員 平均值				38,000		56	+			助理 平均值				33,000		57	-			總計平均數				45,979		58								
1	2	3	A	B	C	D	E	F	G																																																																																																										
	1		員工號碼	姓名	職務	工作地點	到職日期	年資	本俸																																																																																																										
	5	+			經理 平均值				57,667																																																																																																										
	7	+			主任 平均值				30,000																																																																																																										
	15	+			科長 平均值				52,714																																																																																																										
	24	+			副科長 平均值				45,750																																																																																																										
	44	+			工程師 平均值				47,316																																																																																																										
	53	+			辦事員 平均值				38,000																																																																																																										
	56	+			助理 平均值				33,000																																																																																																										
	57	-			總計平均數				45,979																																																																																																										
	58																																																																																																																		
答 案	3																																																																																																																		
選項 1	選取 C5:C57，按[Ctrl]再選取 G5:G57，按「複製」後至新工作表，執行「常用/剪貼簿/貼上/貼上連結」																																																																																																																		
選項 2	選取 C5:C57，按[Shift]再選取 G5:G57，按「複製」後至新工作表，執行「常用/剪貼簿/貼上/貼上連結」																																																																																																																		
選項 3	選取 C5:C57，按[Ctrl]再選取 G5:G57，選擇「常用/尋找與選取/到/特殊/可見儲存格」後，按「複製」後至新工作表，執行「常用/剪貼簿/貼上/貼上連結」																																																																																																																		
選項 4	選取 C5:C57，按[Alt]再選取 G5:G57，按「複製」後至新工作表，執行「常用/剪貼簿/貼上/貼上連結」																																																																																																																		

題目編碼	IF03071	題 型	單選	難易度	中
題 目	在 Excel 2010 中，關於工作群組模式的敘述，下列何者正確？				
答 案	1				
選項 1	將三張工作表設定成一個「群組」模式後，在其中任一張表內所做的格式調整，其他張工作表也會做相同的格式調整				
選項 2	當同一個活頁簿之多個工作表設定為「群組」時，改變工作群組中任一儲存格的內容，其他工作表之相對儲存格內容則不受影響				
選項 3	「群組」的狀態是屬於多活頁簿的操作				
選項 4	可同時執行多張工作表顯示邊界的預覽功能				

題目編碼	IF03072	題 型	單選	難易度	易
題 目	在 Excel 2010 中，繪製快取圖案時，按住[Alt]鍵拖曳的效果為下列何者？				
答 案	3				
選項 1	繪出正方形				
選項 2	繪圖物件分散對齊				
選項 3	繪圖物件對齊儲存格				
選項 4	無此功能				

題目編碼	IF03073	題 型	單選	難易度	難
題 目	<p>在 Excel 2010 中，如附圖所示，在儲存格 A1 輸入資料（如左圖），欲轉換如右圖的自動並整齊的排列，應選擇下列何種功能？</p> 				
答 案	3				
選項 1	「常用/儲存格/格式/儲存格大小」的「最適列高」				
選項 2	「常用/對齊方式」的「自動換列」				
選項 3	「常用/對齊方式/水平對齊」的「段落重排」				
選項 4	「常用/儲存格/格式/可見度/隱藏及取消隱藏」的「取消隱藏列」				

題目編碼	IF03074	題 型	複選	難易度	難
題 目	在 Excel 2010 中，如附圖所示，在自動篩選中，可依儲存格的色彩來篩選資料如上圖所示，選取色彩篩選後，如下圖所示，則下列敘述哪些正確？				

	A	B	C	D	E	F	G	H
1	員工號碼	姓名	聘用日期	年資	工作地點	考績	職務	薪資
2					宜蘭	丁	辦事員	15,000
3					花蓮	丙	工程師	20,000
4					台中	乙	工程師	33,500
5					台北	優	經理	57,500
6							工程師	32,000
7							辦事員	27,500
8							工程師	45,100
9							副科長	35,200
10							工程師	32,000
11							副科長	43,000
12					高雄	甲	副科長	33,500
13					宜蘭	優	工程師	36,850
14					嘉義	乙	工程師	47,300
15					桃園	優	副科長	41,000
16					台東	甲	科長	63,250
17					台北	優	科長	56,760
18					台北	甲	副科長	42,240



	A	B	C	D	E	F	G	H
1	員工號碼	姓名	聘用日期	年資	工作地點	考績	職務	薪資
15	014	王芝嵐	70-07-29	29年	桃園	優	副科長	41,000
16	015	林卡燁	71-01-30	29年	台東	甲	科長	63,250

答案 23

選項 1 依儲存格色彩篩選可篩選二種以上的色彩

選項 2 自動篩選除了可篩選文字、數值、日期資料外，還可依儲存格色彩、儲存格圖示、字型色彩篩選

選項 3 儲存格內若沒有資料驗證，則可依儲存格內的填滿色彩來篩選

選項 4 儲存格內若含有資料驗證的色彩，仍可改變儲存格的填滿色彩，並依其填滿色彩篩選

題目編碼 IF03075 題型 複選 難易度 難

題目 在 Excel 2010 中，如附圖所示的員工人事資料，進行自動篩選，下列敘述哪些正確？

	A	B	C	D	E	F	G	H
1	員工號碼	姓名	聘用日期	年資	工作地點	考績	職務	薪資
2	004	陳港波	68-12-16	31年	台北	優	經理	57,500
3	012	陳海陞	69-11-16	30年	宜蘭	優	工程師	36,850
4	014	王芝嵐	70-07-29	29年	桃園	優	副科長	41,000
5	016	陳廷文	74-12-22	25年	台北	優	科長	56,760
6	018	張三瑜	75-04-14	24年	高雄	優	工程師	71,580



答案	124
選項 1	欲查詢名字中含有「李」的員工，則自訂篩選的條件為：姓名包含李
選項 2	欲查詢薪資在「40000(含)-60000」的員工，則自訂篩選的條件為：薪資大於或等於 40000 且小於 60000
選項 3	欲查詢在台北與高雄工作的員工資料，其自訂篩選的條件為：工作地點等於台北且工作地點等於高雄
選項 4	自動篩選無法自訂日期篩選的條件為某月份資料

題目編碼	IF03076	題 型	單選	難易度	中																																																																																																				
題 目	在 Excel 2010 中，如附圖所示，在分頁預覽時出現右側為灰色，此情況為 Excel 的何種功能設定？																																																																																																								
	<table border="1"> <thead> <tr> <th></th> <th>A</th> <th>B</th> <th>C</th> <th>D</th> <th>E</th> <th>F</th> <th>G</th> <th>H</th> <th>I</th> </tr> </thead> <tbody> <tr> <td>1</td> <td>品名</td> <td>單價</td> <td>單位</td> <td>稅</td> <td>美金匯率</td> <td>台幣單價</td> <td>數量</td> <td>台幣金額</td> <td>備註</td> </tr> <tr> <td>2</td> <td>EPA</td> <td>8.79</td> <td>瓶</td> <td>8.25%</td> <td>34.05</td> <td>324</td> <td>2</td> <td>648</td> <td>8.79</td> </tr> <tr> <td>3</td> <td>DHA</td> <td>6.79</td> <td>瓶</td> <td>8.25%</td> <td>33.98</td> <td>250</td> <td>2</td> <td>500</td> <td>6.79</td> </tr> <tr> <td>4</td> <td>銀杏</td> <td>5.87</td> <td>瓶</td> <td>8.25%</td> <td>34.03</td> <td>217</td> <td>2</td> <td>434</td> <td>11.74 (2瓶)</td> </tr> <tr> <td>5</td> <td>葡萄糖胺 (維骨力)</td> <td>23.45</td> <td>瓶</td> <td>8.25%</td> <td>34.25</td> <td>870</td> <td>4</td> <td>3,480</td> <td>23.45</td> </tr> <tr> <td>6</td> <td>綜合善存</td> <td>9.225</td> <td>瓶</td> <td>8.25%</td> <td>33.85</td> <td>339</td> <td>8</td> <td>2,712</td> <td>18.45 (2瓶)</td> </tr> <tr> <td>7</td> <td>銀善存</td> <td>9.175</td> <td>瓶</td> <td>8.25%</td> <td>33.87</td> <td>337</td> <td>8</td> <td>2,696</td> <td>18.35 (2瓶)</td> </tr> <tr> <td>8</td> <td>OPC-3 (免課稅)</td> <td>58.5</td> <td>瓶</td> <td></td> <td>34.01</td> <td>1,990</td> <td>2</td> <td>3,980</td> <td>58.5</td> </tr> <tr> <td>9</td> <td>OPC-3 (免課稅)</td> <td>65</td> <td>瓶</td> <td></td> <td>34.06</td> <td>2,214</td> <td>2</td> <td>4,428</td> <td>65</td> </tr> </tbody> </table>						A	B	C	D	E	F	G	H	I	1	品名	單價	單位	稅	美金匯率	台幣單價	數量	台幣金額	備註	2	EPA	8.79	瓶	8.25%	34.05	324	2	648	8.79	3	DHA	6.79	瓶	8.25%	33.98	250	2	500	6.79	4	銀杏	5.87	瓶	8.25%	34.03	217	2	434	11.74 (2瓶)	5	葡萄糖胺 (維骨力)	23.45	瓶	8.25%	34.25	870	4	3,480	23.45	6	綜合善存	9.225	瓶	8.25%	33.85	339	8	2,712	18.45 (2瓶)	7	銀善存	9.175	瓶	8.25%	33.87	337	8	2,696	18.35 (2瓶)	8	OPC-3 (免課稅)	58.5	瓶		34.01	1,990	2	3,980	58.5	9	OPC-3 (免課稅)	65	瓶		34.06	2,214	2	4,428	65
		A	B	C	D	E	F	G	H	I																																																																																															
	1	品名	單價	單位	稅	美金匯率	台幣單價	數量	台幣金額	備註																																																																																															
	2	EPA	8.79	瓶	8.25%	34.05	324	2	648	8.79																																																																																															
	3	DHA	6.79	瓶	8.25%	33.98	250	2	500	6.79																																																																																															
	4	銀杏	5.87	瓶	8.25%	34.03	217	2	434	11.74 (2瓶)																																																																																															
	5	葡萄糖胺 (維骨力)	23.45	瓶	8.25%	34.25	870	4	3,480	23.45																																																																																															
	6	綜合善存	9.225	瓶	8.25%	33.85	339	8	2,712	18.45 (2瓶)																																																																																															
	7	銀善存	9.175	瓶	8.25%	33.87	337	8	2,696	18.35 (2瓶)																																																																																															
8	OPC-3 (免課稅)	58.5	瓶		34.01	1,990	2	3,980	58.5																																																																																																
9	OPC-3 (免課稅)	65	瓶		34.06	2,214	2	4,428	65																																																																																																
答案	1																																																																																																								
選項 1	設定列印範圍																																																																																																								
選項 2	設定列印的縮放比例																																																																																																								
選項 3	設定分頁預覽第 1 頁																																																																																																								
選項 4	設定全螢幕預覽																																																																																																								

題目編碼	IF03077	題 型	複選	難易度	中
題 目	在 Excel 2010 中，有關版面配置的敘述，下列哪些正確？				
答案	23				
選項 1	執行「版面配置」功能區的「版面設定/背景」，所選取的圖片可以被列印出來				
選項 2	在「版面配置」功能區的「佈景主題/佈景主題」所設定的功能及其效果可以顯示在工作表內，亦可以列印出來				
選項 3	在「版面配置」功能區的「佈景主題/字型」可改變工作表中儲存格內的字型				
選項 4	在「版面配置」功能區的「佈景主題/色彩」可改變工作表中儲存格內的字型色彩				

題目編碼	IF03078	題 型	複選	難易度	難
題 目	在 Excel 2010 中，如附圖所示，進入頁首頁尾設計畫面後，則下列敘述哪些正確？				

品名	單價	單位	稅	美金匯率	台幣單價	數量	台幣金額	備註
EPA	8.79	瓶	8.25%	34.05	324	2	648	8.79
DHA	6.79	瓶	8.25%	33.98	250	2	500	6.79
銀杏	5.87	瓶	8.25%	34.03	217	2	434	11.74 (2瓶)
葡萄糖胺(維骨力)	23.45	瓶	8.25%	34.25	870	4	3,480	23.45
綜合善存	9.225	瓶	8.25%	33.85	339	8	2,712	18.45 (2瓶)
銀善存	9.175	瓶	8.25%	33.87	337	8	2,696	18.35 (2瓶)
OPC-3 (免課稅)	58.5	瓶		34.01	1,990	2	3,980	58.5
OPC-3 (免課稅)	65	瓶		34.06	2,214	2	4,428	65

答案	34
選項 1	改變頁首區索引標籤文字（工作表標籤）的大小，則框選「&[索引標籤]」後，按右鍵，選擇字型改變大小
選項 2	進入頁首頁尾後，出現含有尺規的畫面，便無法恢復成原來工作表的檢視模式
選項 3	進入頁首頁尾後，選取「選項/對齊頁面邊界」便可將頁首頁尾內的文字對齊頁面邊界
選項 4	進入頁首頁尾後，可以尺規直接拖曳設定左、右邊界

題目編碼	IF03079	題 型	複選	難易度	中
題 目	在 Excel 2010 中，下列敘述哪些正確？				
答 案	124				
選項 1	「版面設定」功能中，設定頁尾的格式為&[索引標籤]時，頁尾可列印出該工作表名稱				
選項 2	「版面設定」功能中，設定頁首的格式為&[檔案名稱]時，頁首可列印出該工作表的檔案名稱				
選項 3	「版面設定」功能中，設定頁尾的格式為&[頁數]時，頁尾可列印出該工作表的頁碼				
選項 4	「版面設定」功能中，設定縮放比率的上下限為 10%~400%				


題目編碼	IF03080	題 型	複選	難易度	難
題 目	在 Excel 2010 中，有關列印設定的敘述，下列哪些正確？				
答 案	14				
選項 1	執行「插入」功能區的「文字/頁首及頁尾」後；檢視模式便自動設定為整頁模式				
選項 2	執行「插入」功能區的「文字/頁首及頁尾」後；檢視模式便自動設定為分頁預覽模式				
選項 3	設定分割視窗後，Excel 便依據所分割的視窗自動分頁列印				
選項 4	設定凍結窗格後，仍須執行「版面配置」功能區「版面設定/列印標題」，才能每頁均列印標題欄或列				

題目編碼	IF03081	題 型	單選	難易度	易
題 目	在 Excel 2010 中，關於列印功能的敘述，下列何者正確？				
答 案	1				
選項 1	圖表在編輯狀態時，只會列印圖表，不列印資料				
選項 2	只列印圖表時，必須取消草稿品質，否則無法列印				
選項 3	圖表若需滿版列印，必須是「工作表式圖表」，不能是「嵌入式圖表」				
選項 4	當圖表在編輯狀態時，可以設定列印的縮放比例與紙張大小				

題目編碼	IF03082	題 型	複選	難易度	中
------	---------	-----	----	-----	---

題目	在 Excel 2010 中，在頁首/頁尾，可插入下列哪些項目？
答案	1234
選項 1	日期、時間
選項 2	圖片
選項 3	檔案路徑及名稱
選項 4	工作表名稱

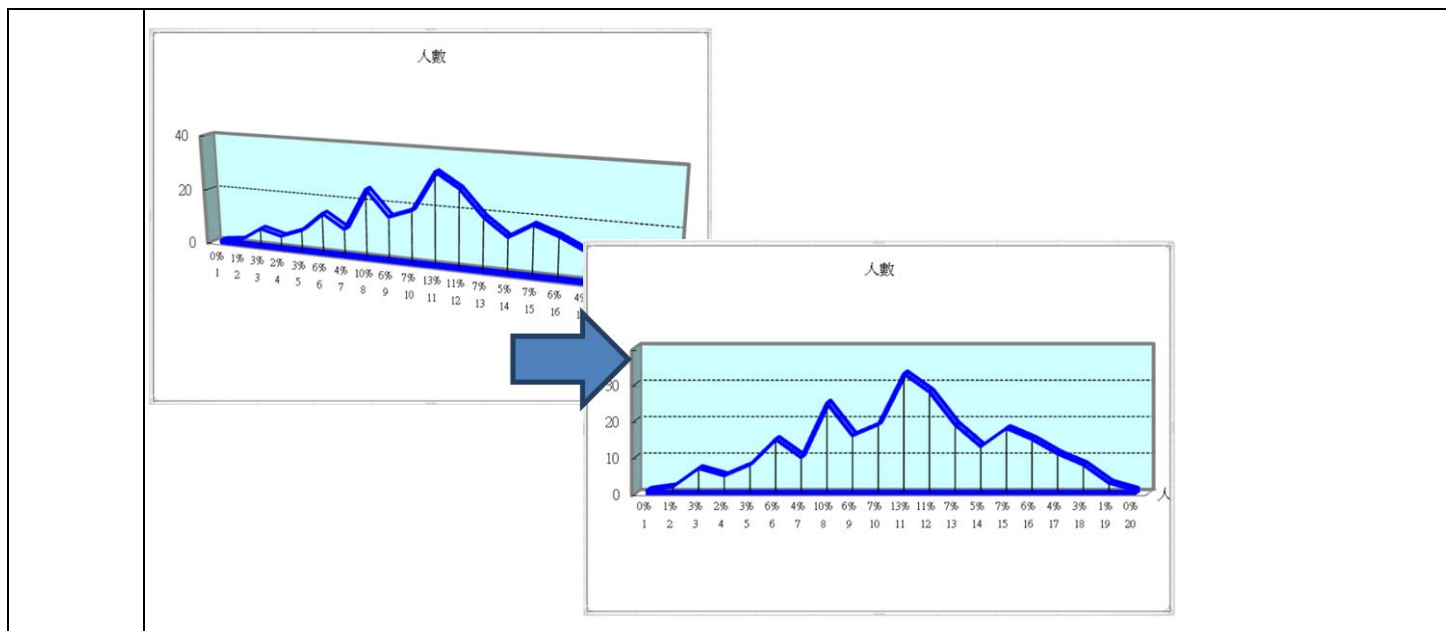
題目編碼	IF03083	題 型	複選	難易度	中
題目	在 Excel 2010 中，關於頁首/頁尾中的「隨文件縮放」功能敘述，下列哪些正確？				
答案	13				
選項 1	選取此功能項目，即是指定頁首和頁尾應使用與工作表一致的字型大小和縮放比例				
選項 2	選取此功能項目，即是指定頁首和頁尾的文字與工作表的字型與大小必須相同				
選項 3	若要將頁首或頁尾的字型大小和縮放比例與工作表縮放比例分開設定，讓多個頁面享有一致外觀，則需要取消選取此功能				
選項 4	此功能即是「檔案/列印/設定」的「以實際大小列印工作表」項目				

題目編碼	IF03084	題 型	複選	難易度	中
題目	在 Excel 2010 中，若要關閉頁首和頁尾，必須從整頁模式切換回到標準模式，可進行下列哪些設定回到標準模式？				
答案	23				
選項 1	執行「檢視/活頁簿檢視」的「自訂檢視模式」				
選項 2	執行「檢視/活頁簿檢視」的「標準模式」				
選項 3	按一下狀態列上的「標準模式」  鈕				
選項 4	在工作表內任一儲存格按一下，即可回到標準模式				

題目編碼	IF03085	題 型	單選	難易度	難
題目	在 Excel 2010 中，如附圖所示的工作表內容，列印時僅設定「列印格線」其餘設定為預設值，但列印的結果卻為 2 頁，第 2 頁只出現框線卻沒有資料，其原因為下列何項？				







答案	3
選項 1	執行圖表工具中「版面配置」功能區的「座標軸/座標軸/主水平軸」
選項 2	執行圖表工具中「版面配置」功能區的「背景/圖表底板」
選項 3	執行圖表工具中「版面配置」功能區的「背景/立體旋轉/立體旋轉/圖表比例/直角座標軸」
選項 4	執行圖表工具中「版面配置」功能區的「座標軸/座標軸/副水平軸」

題目編碼	IF03088	題 型	複選	難易度	中
題 目	在 Excel 2010 中，關於圖表的敘述，下列哪些正確？				
答 案	1234				
選項 1	圖表中有多個數列，若要將其中一個數列之座標軸予以獨立，以與其他數列有所區別，應使用「副座標軸」				
選項 2	建立圖表時，若須使用不同工作表之儲存格作為來源，則須先按住[Ctrl]鍵進行選取				
選項 3	「格線」是刻度符號的延伸，方便與 X 軸及 Y 軸刻度對照				
選項 4	製作圖表時，當資料數列等於欄數，系統預設以「直欄」方向產生圖表				

題目編碼	IF03089	題 型	複選	難易度	中
題 目	在 Excel 2010 中，更改立體圖檢視角度之操作方式有下列哪些？				
答 案	13				
選項 1	選擇「圖表工具/版面配置/背景」群組功能的「立體旋轉」				
選項 2	在立體圖表之邊角上按兩下左鍵				
選項 3	在立體圖表中的圖表區按右鍵，選擇「立體旋轉」				
選項 4	在立體圖表中的圖表區按右鍵，選擇「移動圖表」				

題目編碼	IF03090	題 型	單選	難易度	難
題 目	在 Excel 2010 中，如附圖所示，將附圖左圖變更為右圖的方式，下列敘述何者正確？				

	A	B	C	D
1	答對題數	答對比例	人數	人數累計
2	1	5%	1	1
3	2	10%	2	3
4	3	15%	7	10
5	4	20%	5	15
6	5	25%	8	23
7	6	30%	15	38
8	7	35%	10	48
9	8	40%	25	73

下列圖表的資料來源

Figure 1: Bar chart showing '人數' (Number of people) for categories 1-20. The Y-axis ranges from 0 to 35. The X-axis ranges from 1 to 20. The bars represent the '人數' column from the table above.

Figure 2: Stacked bar chart showing cumulative counts for categories 1-20. The Y-axis ranges from 0 to 300. The X-axis ranges from 1 to 20. The bars represent the '人數累計' column from the table above.

答案	3
選項 1	改變圖表版面配置為版面配置 7
選項 2	調換圖表 X 座標軸資料變成 Y 座標軸
選項 3	資料數列由 C 欄的人數，變成 C 與 D 欄，增加人數累計欄位資料
選項 4	改變座標軸顯示，變成右至左座標軸

題目編碼	IF03091	題 型	複選	難易度	中
題 目	在 Excel 2010 中，關於立體圖表的深度座標軸敘述，下列哪些正確？				
答 案	14				
選項 1	立體曲面圖、立體直條圖、立體圓錐圖或立體金字塔圖，都有一個可變更的深度座標軸，稱為 Z 軸。				
選項 2	在立體圖表中，若要變更深度座標軸，從圖表項目清單中選取垂直(數值)座標軸，即可變更圖表中深度座標軸的刻度				
選項 3	變更深度座標軸的刻度，資料數列之間的數列間距或類別間距亦會隨之改變				
選項 4	立體圖表亦提供反轉座標軸的功能，反轉深度座標軸後，則顯示的資料數列順序呈現反轉的狀態				

題目編碼	IF03092	題 型	複選	難易度	中
題 目	在 Excel 2010 中，關於 XY 散佈圖與折線圖的差異，下列敘述哪些正確？				
答 案	124				
選項 1	「折線圖」適合於顯示不同時間上的趨勢，例如銷售額、收入以及收益等商業數字。「XY 散佈圖」適用於顯示數字的比較，例如科學或統計資料，這類需要在單一圖表上繪製數種測量結果的資料				
選項 2	「折線圖」通常只會在垂直座標軸上顯示一組數字。「XY 散佈圖」可同時比較兩組數字，一組在水平 X 座標軸，一組在垂直 Y 座標軸，資料值則散佈在圖表上，資料點間有不平均間隔				
選項 3	「折線圖」亦可以與「XY 散佈圖」一樣，在水平 X 座標軸與垂直 Y 座標軸交叉數值處，顯示標記符號				
選項 4	如果要將日期放在圖表下方，一看就能瞭解歷史發展樣貌，則使用「折線圖」。若要顯示不同年齡層發生流行性感冒案例的數目，或不同大小的城市中的平均收入，則「XY 散佈圖」會是				

	有效的類型
--	-------

題目編碼	IF03093	題型	單選	難易度	難																																																																																																																																																																																																
題目	<p>在 Excel 2010 中，如附圖所示，水平(數值)軸的資料來源內容應為下列何者？</p> <table border="1"> <thead> <tr> <th></th> <th>A</th> <th>B</th> <th>C</th> <th>D</th> <th>E</th> <th>F</th> <th>G</th> <th>H</th> <th>I</th> <th>J</th> <th>K</th> </tr> </thead> <tbody> <tr> <td></td> <td>廣告費(萬)</td> <td>遠達科技 實際營收</td> <td>明基資訊 實際營收</td> <td></td> <td></td> <td></td> <td></td> <td></td> <td></td> <td></td> <td></td> </tr> <tr> <td>1</td> <td></td> <td></td> <td></td> <td></td> <td></td> <td></td> <td></td> <td></td> <td></td> <td></td> <td></td> </tr> <tr> <td>2</td> <td>200</td> <td>840</td> <td>650</td> <td></td> <td></td> <td></td> <td></td> <td></td> <td></td> <td></td> <td></td> </tr> <tr> <td>3</td> <td>250</td> <td>940</td> <td>850</td> <td></td> <td></td> <td></td> <td></td> <td></td> <td></td> <td></td> <td></td> </tr> <tr> <td>4</td> <td>220</td> <td>895</td> <td>765</td> <td></td> <td></td> <td></td> <td></td> <td></td> <td></td> <td></td> <td></td> </tr> <tr> <td>5</td> <td>230</td> <td>900</td> <td>720</td> <td></td> <td></td> <td></td> <td></td> <td></td> <td></td> <td></td> <td></td> </tr> <tr> <td>6</td> <td>200</td> <td>815</td> <td>650</td> <td></td> <td></td> <td></td> <td></td> <td></td> <td></td> <td></td> <td></td> </tr> <tr> <td>7</td> <td>190</td> <td>755</td> <td>480</td> <td></td> <td></td> <td></td> <td></td> <td></td> <td></td> <td></td> <td></td> </tr> <tr> <td>8</td> <td>140</td> <td>705</td> <td>650</td> <td></td> <td></td> <td></td> <td></td> <td></td> <td></td> <td></td> <td></td> </tr> <tr> <td>9</td> <td>100</td> <td>645</td> <td>890</td> <td></td> <td></td> <td></td> <td></td> <td></td> <td></td> <td></td> <td></td> </tr> <tr> <td>10</td> <td>120</td> <td>690</td> <td>650</td> <td></td> <td></td> <td></td> <td></td> <td></td> <td></td> <td></td> <td></td> </tr> <tr> <td>11</td> <td>170</td> <td>750</td> <td>460</td> <td></td> <td></td> <td></td> <td></td> <td></td> <td></td> <td></td> <td></td> </tr> <tr> <td>12</td> <td>160</td> <td>715</td> <td>580</td> <td></td> <td></td> <td></td> <td></td> <td></td> <td></td> <td></td> <td></td> </tr> <tr> <td>13</td> <td>190</td> <td>780</td> <td>680</td> <td></td> <td></td> <td></td> <td></td> <td></td> <td></td> <td></td> <td></td> </tr> <tr> <td>14</td> <td></td> <td></td> <td></td> <td></td> <td></td> <td></td> <td></td> <td></td> <td></td> <td></td> <td></td> </tr> </tbody> </table>						A	B	C	D	E	F	G	H	I	J	K		廣告費(萬)	遠達科技 實際營收	明基資訊 實際營收									1												2	200	840	650									3	250	940	850									4	220	895	765									5	230	900	720									6	200	815	650									7	190	755	480									8	140	705	650									9	100	645	890									10	120	690	650									11	170	750	460									12	160	715	580									13	190	780	680									14											
	A	B	C	D	E	F	G	H	I	J	K																																																																																																																																																																																										
	廣告費(萬)	遠達科技 實際營收	明基資訊 實際營收																																																																																																																																																																																																		
1																																																																																																																																																																																																					
2	200	840	650																																																																																																																																																																																																		
3	250	940	850																																																																																																																																																																																																		
4	220	895	765																																																																																																																																																																																																		
5	230	900	720																																																																																																																																																																																																		
6	200	815	650																																																																																																																																																																																																		
7	190	755	480																																																																																																																																																																																																		
8	140	705	650																																																																																																																																																																																																		
9	100	645	890																																																																																																																																																																																																		
10	120	690	650																																																																																																																																																																																																		
11	170	750	460																																																																																																																																																																																																		
12	160	715	580																																																																																																																																																																																																		
13	190	780	680																																																																																																																																																																																																		
14																																																																																																																																																																																																					
答案	1																																																																																																																																																																																																				
選項 1	A2~A13																																																																																																																																																																																																				
選項 2	B2~B13																																																																																																																																																																																																				
選項 3	C2~C13																																																																																																																																																																																																				
選項 4	A2~C13																																																																																																																																																																																																				

題目編碼	IF03094	題型	複選	難易度	難
題目	<p>在 Excel 2010 中，如附圖所示，由左圖要改資料標籤格式中哪些選項，才能變成右圖的格式？</p>				
答案	23				
選項 1	選取「標籤選項/標籤包含/重複標籤文字」項目				
選項 2	選取「標籤選項/標籤包含/顯示指引線」項目				
選項 3	選取「標籤選項/分隔符號/換行」項目				
選項 4	選取「標籤選項/分隔符號/空白」項目				

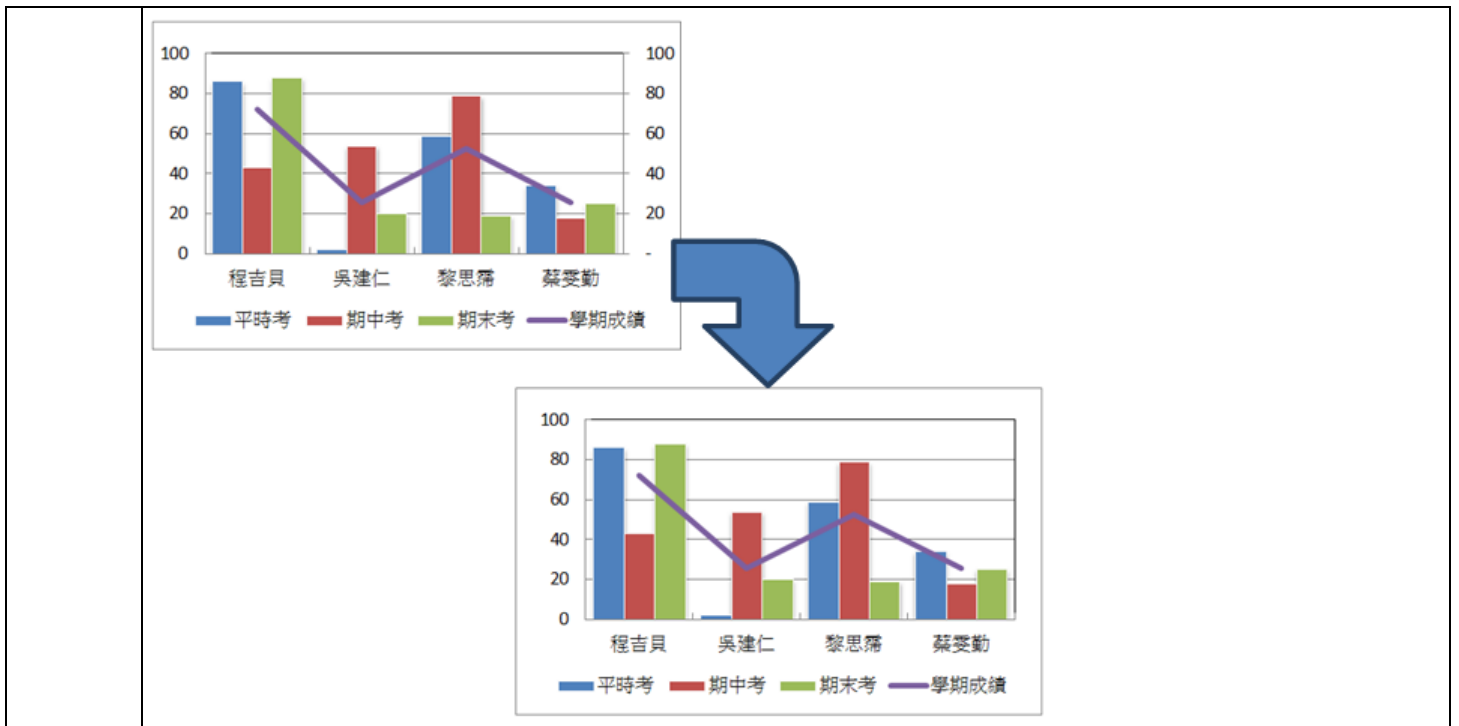
題目編碼	IF03095	題型	複選	難易度	中
題目	在 Excel 2010 中，直條圖在「資料數列格式/類列選項」中，可以調整下列哪些項目？				
答案	123				

選項 1	類別間距
選項 2	重疊比例
選項 3	數列資料繪製於主座標軸或副座標軸
選項 4	深度大小

題目編碼	IF03096	題 型	複選	難易度	中
題 目	在 Excel 2010 中，關於圖表的描述，下列哪些正確？				
答 案	1234				
選項 1	水平座標軸與垂直座標軸，都可以改變其數值型態格式				
選項 2	以環圈圖作圖，系統會預設環圈之內徑大小，為外環外圈之一半				
選項 3	圓形圖只會使用到數列資料之一列（或一欄）				
選項 4	立體直條圖，可同時調整類別與數列之間的距離				

題目編碼	IF03097	題 型	單選	難易度	難
題 目	在 Excel 2010 中，如附圖所示，如何將左圖變更成右圖，應選擇「圖表工具/版面配置」功能的那一個項目？				
答 案	2				
選項 1	選擇「資料數列/數列選項/資料數列繪製於副座標軸」				
選項 2	選擇「座標軸/座標軸/主水平軸/座標軸選項/類別次序反轉」				
選項 3	選擇「目前的取範圍/格式化選取範圍」				
選項 4	選擇「目前的選取範圍/重設以符合樣式」				

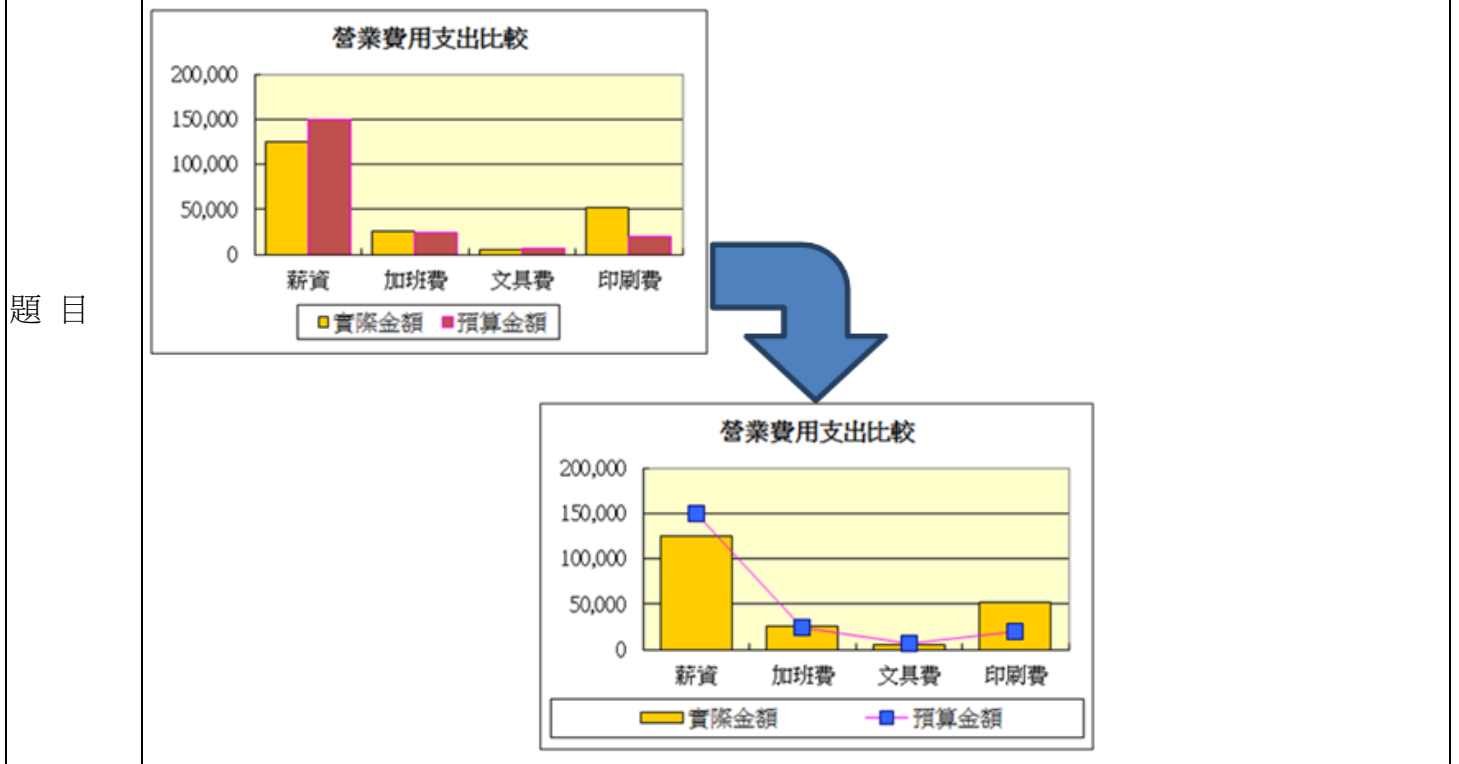
題目編碼	IF03098	題 型	單選	難易度	難
題 目	在 Excel 2010 中，如附圖所示，如何操作才能隱藏副座標軸的刻度與標籤，應選擇「圖表工具/版面配置」的「座標軸/副垂直軸」的哪一個項目？				



答案	2
選項 1	顯示預設座標軸
選項 2	選擇「無」
選項 3	選擇「座標軸選項/座標軸標籤/無」
選項 4	無法自動隱藏副座標軸的刻度與標籤，必須手動將之逐一刪除

題目編碼	IF03099	題 型	單選	難易度	難
------	---------	-----	----	-----	---

在 Excel 2010 中，如附圖所示，在繪圖時，欲改變下列左圖「預算金額」資料數列，使其設定為折線圖的圖表類型(如下右圖)，應選取下列何種物件，執行「圖表工具/設計/類型/變更圖表類型/折線圖」？



答案	3
選項 1	選取圖表區

選項 2	選取繪圖區
選項 3	選取「預算金額」資料數列
選項 4	選取格線

題目編碼	IF03100	題 型	單選	難易度	中																																								
題 目	<p>在 Excel 2010 中，如附圖所示，消費者對於三種不同品牌電器用品的滿意度，5 代表極滿意，1 代表極不滿意，請問應利用哪一種圖表類型，才能凸顯出各廠牌的差異性？</p> <table border="1"> <thead> <tr> <th></th> <th>A</th> <th>B</th> <th>C</th> <th>D</th> <th>E</th> <th>F</th> <th>G</th> <th>H</th> <th>I</th> </tr> </thead> <tbody> <tr> <td>1</td> <td>A牌</td> <td>5</td> <td>4</td> <td>3</td> <td>5</td> <td>3</td> <td>4</td> <td>5</td> <td>5</td> </tr> <tr> <td>2</td> <td>B牌</td> <td>2</td> <td>3</td> <td>4</td> <td>5</td> <td>2</td> <td>3</td> <td>4</td> <td>4</td> </tr> <tr> <td>3</td> <td>C牌</td> <td>4</td> <td>4</td> <td>3</td> <td>4</td> <td>2</td> <td>5</td> <td>4</td> <td>2</td> </tr> </tbody> </table>						A	B	C	D	E	F	G	H	I	1	A牌	5	4	3	5	3	4	5	5	2	B牌	2	3	4	5	2	3	4	4	3	C牌	4	4	3	4	2	5	4	2
	A	B	C	D	E	F	G	H	I																																				
1	A牌	5	4	3	5	3	4	5	5																																				
2	B牌	2	3	4	5	2	3	4	4																																				
3	C牌	4	4	3	4	2	5	4	2																																				
答 案	4																																												
選項 1	XY 散佈圖																																												
選項 2	泡泡圖																																												
選項 3	曲面圖																																												
選項 4	雷達圖																																												

題目編碼	IF04001	題 型	單選	難易度	易
題 目	在 PowerPoint 2010 中，下列哪一種檢視可以輕鬆地排序及組織投影片的順序？				
答 案	2				
選項 1	標準檢視				
選項 2	投影片瀏覽檢視				
選項 3	備忘稿檢視				
選項 4	閱讀檢視				

題目編碼	IF04002	題 型	複選	難易度	易
題 目	在 PowerPoint 2010 中，下列哪些項目無法在「大綱」索引標籤的窗格上顯示出簡報的文字內容？				
答 案	234				
選項 1	版面配置區文字				
選項 2	自行插入的文字方塊				
選項 3	文字藝術家文字				
選項 4	快取圖案文字				

題目編碼	IF04003	題 型	單選	難易度	易
題 目	在 PowerPoint 2010 中，若想要從其他簡報中，將一張或多張投影片新增至自己的簡報，可執行哪一項功能？				
答 案	3				
選項 1	「複製選定的投影片」				
選項 2	「從大綱插入投影片」				
選項 3	「重複使用投影片」				
選項 4	「從檔案插入投影片」				



題目編碼	IF04004	題 型	單選	難易度	中
題 目	在 PowerPoint 2010 中，下列哪一項文字內容可以匯出到 Word 文件中？				
答 案	1				
選項 1	版面配置區文字				
選項 2	文字方塊文字				
選項 3	文字藝術師文字				
選項 4	快取圖案文字				

題目編碼	IF04005	題 型	複選	難易度	中
題 目	<p>在 PowerPoint 2010 中，請參閱附圖內容進行作答。</p> <p>下列哪些選項可以在投影片裡輸入鍵盤上沒有的美分 (¢)、英鎊 (£)、日圓 (¥)、註冊商標 (®) 等符號？</p> <p>(A) 按住[Alt]鍵並輸入 ASCII 的代碼</p> <p>(B) 「插入/符號」</p> <p>(C) 「插入/方程式」</p> <p>(D) 「插入/數字」</p>				
答 案	12				
選項 1	選項 A				
選項 2	選項 B				
選項 3	選項 C				
選項 4	選項 D				


題目編碼	IF04006	題 型	單選	難易度	中
題 目	在 PowerPoint 2010 中，透過「版面配置」功能，可以變更投影片的哪一項設定？				
答 案	4				
選項 1	方向				
選項 2	大小				
選項 3	佈景主題				
選項 4	文字方向				


題目編碼	IF04007	題 型	單選	難易度	易
題 目	在 PowerPoint 2010 中，內建的各種投影片版面配置，其主要差異在於版面配置區的哪一項設定？				
答 案	2				
選項 1	佈景主題				
選項 2	位置				
選項 3	色彩				
選項 4	字型				

題目編碼	IF04008	題 型	複選	難易度	中
題 目	在 PowerPoint 2010 中，哪些檢視下可新增投影片章節，將投影片分成不同的類別或章節？				
答 案	12				

選項 1	標準檢視
選項 2	投影片瀏覽檢視
選項 3	備忘稿檢視
選項 4	閱讀檢視

題目編碼	IF04009	題 型	複選	難易度	中
題 目	在 PowerPoint 2010 中，若想要逐一取消選取物件，可按住下列哪些按鍵並同時點擊物件？				
答 案	124				
選項 1	[Shift]鍵				
選項 2	[Ctrl]鍵				
選項 3	[Alt]鍵				
選項 4	[Ctrl]+[Shift]鍵				

題目編碼	IF04010	題 型	複選	難易度	易
題 目	在 PowerPoint 2010 中，如附圖所示，當字型大小出現「28+」時，表示選取的文字可能有下列哪些設定？				
					
答 案	14				
選項 1	最小為 28				
選項 2	最大為 28				
選項 3	剛好 28				
選項 4	至少有 2 種不同大小				

題目編碼	IF04011	題 型	單選	難易度	中
題 目	在 PowerPoint 2010 中，「大綱」索引標籤的窗格上，在本文的第一層上按一下  按鈕，會變更為下列哪一項設定？				
答 案	2				
選項 1	沒有任何反應				
選項 2	變成下一張投影片的標題內容				
選項 3	變成第二階層				
選項 4	減少縮排				

題目編碼	IF04012	題 型	單選	難易度	中
題 目	在 PowerPoint 2010 中，選取如附圖所示的文字框，使用下列哪一項功能可快速變更文字書寫方向？				



答案	4
選項 1	「繪圖/排列」的「旋轉」功能
選項 2	「繪圖/排列」的「對齊」功能
選項 3	「段落/對齊文字」的「其他選項」功能
選項 4	「段落/文字方向」的「垂直」功能

題目編碼	IF04013	題 型	複選	難易度	易
題 目	在 PowerPoint 2010 中，使用  「編號」功能可以變更投影片中編號清單的哪些設定？				
答 案	12				
選項 1	色彩及大小				
選項 2	編號的起始值				
選項 3	增加或減少編號與其接續文字之間間距				
選項 4	增加或減少縮排				



題目編碼	IF04014	題 型	單選	難易度	易
題 目	<p>在 PowerPoint 2010 中，請參閱附圖內容進行作答。</p> <p>如下圖所示，當段落沒有使用項目符號或編號而呈現首行凸排時，可以運用下列哪一項功能來取消凸排效果？</p> <div style="border: 1px solid gray; padding: 5px; margin: 10px auto; width: fit-content;"> <p>一項權威的心理學研究顯示，正面思考的人，不論薪資與健康，都比負面思考的人來得好</p> <p style="text-align: center;">↓</p> <p>一項權威的心理學研究顯示，正面思考的人，不論薪資與健康，都比負面思考的人來得好</p> </div> <p>(A) </p> <p>(B) </p> <p>(C) </p> <p>(D) 拖曳尺規上的 </p>				
答 案	4				
選項 1	選項 A				
選項 2	選項 B				
選項 3	選項 C				

選項 4	選項 D
------	------

題目編碼	IF04015	題 型	單選	難易度	易
題 目	在 PowerPoint 2010 中，欲將所有投影片中的「新細明體」字型改為「微軟正黑體」，最簡便快速的作法為下列哪一種？				
答 案	3				
選項 1	在大綱窗格中，全選後設定為「微軟正黑體」				
選項 2	「編輯/取代」				
選項 3	「編輯/取代/取代字型」				
選項 4	「佈景主題/字型」				

題目編碼	IF04016	題 型	複選	難易度	中
題 目	在 PowerPoint 2010 中，如果只要自動播放奇數張的投影片，可透過下列哪些方式來設定？				
答 案	123				
選項 1	隱藏偶數張的投影片				
選項 2	刪除偶數張的投影片				
選項 3	播放由「自訂放映」新增的奇數張投影片				
選項 4	由「設定放映方式」指定播放奇數張投影片				

題目編碼	IF04017	題 型	複選	難易度	中
題 目	在 PowerPoint 2010 中，在投影片執行中文繁簡轉換時，下列哪些選項會被一併轉換？				
答 案	12				
選項 1	文字方塊				
選項 2	備忘稿				
選項 3	SmartArt 的文字				
選項 4	插入物件內的文字				

題目編碼	IF04018	題 型	複選	難易度	易
題 目	在 PowerPoint 2010 中，若想要讓清單中的文字增加一個縮排階層，可按下列哪些鍵？				
答 案	13				
選項 1	[Tab]鍵				
選項 2	[Shift]+[Tab]鍵				
選項 3					
選項 4					

題目編碼	IF04019	題 型	單選	難易度	中
題 目	在 PowerPoint 2010 中，若想要在大綱窗格中只顯示標題階層 1 的內容，可由下列哪一組鍵切換？				
答 案	2				
選項 1	[Ctrl]+[Shift]+[1]鍵				
選項 2	[Alt]+[Shift]+[1]鍵				

選項 3	[Ctrl]+[Alt]+[1]鍵
選項 4	[Ctrl]+[1]鍵

題目編碼	IF04020	題 型	單選	難易度	易
題 目	在 PowerPoint 2010 中，重複按下哪一個鍵，可以依序切換在投影片中選取的物件？				
答 案	1				
選項 1	[Tab]鍵				
選項 2	[Enter]鍵				
選項 3	[→]鍵				
選項 4	[↓]鍵				

題目編碼	IF04021	題 型	複選	難易度	中
題 目	在 PowerPoint 2010 中，下列哪些選項可以提升簡報的效能？				
答 案	1234				
選項 1	降低簡報顯示的解析度				
選項 2	清除 TEMP 資料夾				
選項 3	結束其他執行程式				
選項 4	確定電腦上有足夠的可用磁碟空間				


題目編碼	IF04022	題 型	複選	難易度	易
題 目	在 PowerPoint 2010 中，若想要快速建立一個含有色彩、字型、效果、樣式和版面配置的新空白簡報，可由下列哪些選項開啟新簡報？				
答 案	1234				
選項 1	我的範本				
選項 2	佈景主題				
選項 3	範例範本				
選項 4	Office.com 範本				


題目編碼	IF04023	題 型	單選	難易度	中
題 目	在 PowerPoint 2010 中，佈景主題無法套用至投影片中的哪一個項目？				
答 案	3				
選項 1	表格				
選項 2	SmartArt 圖形				
選項 3	文字藝術師文字				
選項 4	圖案、圖表				

題目編碼	IF04024	題 型	複選	難易度	易
題 目	在 PowerPoint 2010 中，佈景主題是由下列哪些項目組合而成？				
答 案	123				
選項 1	色彩配置				
選項 2	字型配置				
選項 3	效果配置				

選項 4	動畫配置
------	------

題目編碼	IF04025	題 型	單選	難易度	易
題 目	在 PowerPoint 2010 中，要讓簡報包含多個內建佈景主題時，可在選取的投影片上，執行下列哪一項設定？				
答 案	3				
選項 1	套用至符合的投影片				
選項 2	套用至所有投影片				
選項 3	套用至選定的投影片				
選項 4	設定為預設佈景主題				

題目編碼	IF04026	題 型	複選	難易度	易
題 目	在 PowerPoint 2010 中，當文字佔滿並超出版面配置區時，可使用  選項設定下列哪些項目？				
答 案	1234				
選項 1	自動調整文字到版面配置區				
選項 2	將投影片變成 2 欄				
選項 3	繼續一張新投影片				
選項 4	分割兩張投影片間的文字				

題目編碼	IF04027	題 型	單選	難易度	易
題 目	在 PowerPoint 2010 中，當文字未佔滿版面配置區時，欲將投影片變成 2 欄，可由下列哪一項設定？				
答 案	3				
選項 1	套用版面配置的「兩項物件」				
選項 2	 選項設定將投影片變成 2 欄				
選項 3	由「段落」的「欄」選「兩欄」				
選項 4	手動拉出文字方塊				





題目編碼	IF04028	題 型	單選	難易度	中
題 目	在 PowerPoint 2010 中，由「背景樣式」點選的背景是套用到下列哪一項設定？				
答 案	4				
選項 1	目前的投影片				
選項 2	全部投影片				
選項 3	所有選取的投影片				
選項 4	佈景主體相同的所有投影片				

題目編碼	IF04029	題 型	單選	難易度	易
題 目	在 PowerPoint 2010 中，若想要變更超連結文字的色彩，可由下列哪一項進入設定？				
答 案	3				
選項 1	「插入/連結/超連結」				
選項 2	「常用/字型/色彩」				
選項 3	「設計/佈景主題/色彩」				

選項 4	「設計/佈景主題/字型」
------	--------------





題目編碼	IF04030	題 型	單選	難易度	易
題 目	在 PowerPoint 2010 中，下列哪一項功能具有模擬按鈕按一下的效果？				
答 案	3				
選項 1	「動作按鈕」				
選項 2	「動畫配置」				
選項 3	「動作設定」				
選項 4	「自訂動畫」				

題目編碼	IF04031	題 型	複選	難易度	難
題 目	在 PowerPoint 2010 中，當超連結使用相對連結的路徑檔案時，如何確保移動檔案後的播放不會中斷超連結，下列敘述哪些正確？				
答 案	123				
選項 1	同時移動含超連結的檔案及其目的地				
選項 2	以「PowerPoint 播放檔」格式儲存				
選項 3	將含超連結的檔案及其目的地放在同一資料夾內				
選項 4	將含超連結的檔案及其目的地放在 C:\ 的根目錄				

題目編碼	IF04032	題 型	單選	難易度	易
題 目	在 PowerPoint 2010 中，請參閱附圖內容進行作答。 下列哪一項為「說明」動作按鈕？				
	(A)  (B)  (C)  (D) 				
答 案	3				
選項 1	選項 A				
選項 2	選項 B				
選項 3	選項 C				
選項 4	選項 D				

題目編碼	IF04033	題 型	複選	難易度	易
題 目	在 PowerPoint 2010 中，以「相簿」功能建立的電子相簿，下列敘述哪些正確？				
答 案	14				
選項 1	可隨時將照片新增至相簿內				
選項 2	可在照片上方顯示檔案名稱				
選項 3	可任意改變每張投影片的照片張數				
選項 4	可任意改變照片的順序				

題目編碼	IF04034	題 型	複選	難易度	中
------	---------	-----	----	-----	---

題目	<p>在 PowerPoint 2010 中，請參閱附圖內容進行作答。</p> <p>運用下列哪些按鈕可以設定播放簡報時，在投影片上顯示當天的日期？</p> <p>(A) </p> <p>(B) </p> <p>(C) </p> <p>(D) </p>
答案	123
選項 1	選項 A
選項 2	選項 B
選項 3	選項 C
選項 4	選項 D

題目編碼	IF04035	題 型	複選	難易度	中
題 目	在 PowerPoint 2010 中，有關投影片編號的設定，下列敘述哪些正確？				
答 案	14				
選項 1	起始值可自訂四位數內的任一數值				
選項 2	可以設定不連續編號				
選項 3	在不同的佈景主題可重新編號				
選項 4	可指定各投影片是否要顯示編號				

題目編碼	IF04036	題 型	單選	難易度	易
題 目	在 PowerPoint 2010 中，若想要讓物件以星形或循環模式移動，可使用下列哪一種類型的動畫效果？				
答 案	4				
選項 1	「進入」效果				
選項 2	「離開」效果				
選項 3	「強調」效果				
選項 4	「影片路徑」效果				

題目編碼	IF04037	題 型	複選	難易度	中
題 目	在 PowerPoint 2010 中，如附圖所示，從動畫窗格圖示中可看到下列哪些資訊？				



答案	23
選項 1	動畫效果的名稱
選項 2	動畫效果播放的順序
選項 3	所影響物件的名稱
選項 4	效果持續的時期

題目編碼	IF04038	題 型	單選	難易度	中
題 目	在 PowerPoint 2010 中，若想要模擬時鐘的秒針旋轉，可由下列哪一項動畫效果來設定？				
答 案	3				
選項 1	「滾輪」				
選項 2	「旋轉」				
選項 3	「陀螺轉」				
選項 4	「翹翹板」				

題目編碼	IF04039	題 型	單選	難易度	易
題 目	在 PowerPoint 2010 中，如何設定按一下 A 物件後，B 物件隨即播放自訂的動畫效果，下列敘述哪一項正確？				
答 案	2				
選項 1	先選取 A 物件，再由「觸發程序」選取 B 物件				
選項 2	先選取 B 物件，再由「觸發程序」選取 A 物件				
選項 3	先選取 A 物件，再由「觸發程序」選取 A 物件				
選項 4	先選取 B 物件，再由「觸發程序」選取 B 物件				

題目編碼	IF04040	題 型	單選	難易度	中
題 目	在 PowerPoint 2010 中，透過下列哪一項功能，可於簡報時只播放影片中的某特定片段？				
答 案	3				
選項 1	「超連結」				
選項 2	「動作設定」				
選項 3	「觸發程序」				
選項 4	「動畫設定」				



題目編碼	IF04041	題 型	單選	難易度	易
題 目	在 PowerPoint 2010 中，若想要將插入的照片編輯成類似素描畫效果，可運用下列哪一種功能？				
答 案	2				
選項 1	「圖片效果」				
選項 2	「美術效果」				
選項 3	「色彩效果」				
選項 4	「圖片樣式」				





題目編碼	IF04042	題 型	單選	難易度	中
題 目	在 PowerPoint 2010 中，對於「圖片色彩」的調整，下列敘述哪一項錯誤？				
答 案	2				
選項 1	飽和度越高，圖片看起來就越鮮明，而飽和度越低，色彩就會變灰				
選項 2	「設定透明色彩」可將整個圖像變成透明或部分透明				
選項 3	若要移除圖片的色彩調整效果，可按「重新著色」的第一個效果選項				
選項 4	可利用「複製格式」快速地在多張圖片上套用相同的調整				


題目編碼	IF04043	題 型	複選	難易度	中
題 目	在 PowerPoint 2010 中，如附圖所示，運用下列哪些功能可以將左圖編輯成右圖？				
					
答 案	14				
選項 1	「浮凸透視圖」				
選項 2	「浮凸矩形」				
選項 3	「立體旋轉」				
選項 4	「陰影」				

題目編碼	IF04044	題 型	單選	難易度	易
題 目	在 PowerPoint 2010 中，將一張圖片依序套用「麥克筆」、「玻璃」及「拓印」美術效果，最後結果呈現為下列哪一項？				
答 案	4				
選項 1	「麥克筆」+「玻璃」+「拓印」美術效果				
選項 2	「麥克筆」美術效果				
選項 3	「玻璃」美術效果				
選項 4	「拓印」美術效果				


題目編碼	IF04045	題 型	複選	難易度	中
------	---------	-----	----	-----	---



題目	<p>在 PowerPoint 2010 中，請參閱附圖內容進行作答。</p> <p>下列哪些物件可以在圖案上新增文字？</p> <p>(A) </p> <p>(B) </p> <p>(C) </p> <p>(D) </p>
答案	1234
選項 1	選項 A
選項 2	選項 B
選項 3	選項 C
選項 4	選項 D

題目編碼	IF04046	題 型	複選	難易度	易
題目	<p>在 PowerPoint 2010 中，如附圖所示，如何將左圖「影片」動作按鈕編輯成右圖？</p> 				
答案	13				
選項 1	無外框				
選項 2	無填滿				
選項 3	填滿白色				
選項 4	填滿灰色				

題目編碼	IF04047	題 型	複選	難易度	易
題目	在 PowerPoint 2010 中，下列哪些文字內容可以直接套用文字藝術師樣式？				
答案	1234				
選項 1	版面配置區的文字				
選項 2	文字方塊的文字				
選項 3	圖案的文字				
選項 4	SmartArt 的文字				

題目編碼	IF04048	題 型	單選	難易度	易
題目	<p>在 PowerPoint 2010 中，如附圖所示，要將套用文字藝術師樣式的文字改為直向，可由哪一項功能進入設定？</p> 				
答案	4				

選項 1	「文字藝術師樣式/文字效果/轉換」
選項 2	「排列/旋轉」
選項 3	「文字藝術師樣式/快速樣式」
選項 4	「段落/文字方向」

題目編碼	IF04049	題 型	單選	難易度	中
題 目	在 PowerPoint 2010 中，建立 SmartArt 圖形時，選擇哪一種類型較適合用來顯示一系列圖片及少量文字？				
答 案	3				
選項 1	「循環圖」				
選項 2	「關聯圖」				
選項 3	「圖片」				
選項 4	「金字塔圖」				

題目編碼	IF04050	題 型	複選	難易度	中
題 目	在 PowerPoint 2010 中，SmartArt 圖形版面配置的圖案，動畫效果可以設定為下列哪些項目？				
答 案	12				
選項 1	「整體」				
選項 2	「同時」				
選項 3	「依類別」				
選項 4	「依數列」				

題目編碼	IF04051	題 型	單選	難易度	中
題 目	若在 PowerPoint 2010 中，想要使直條圖圖表的動畫效果是一條一條依序出現時，則「圖表動畫」應設定為下列哪一個選項？				
答 案	4				
選項 1	「依數列」				
選項 2	「依類別」				
選項 3	「依數列元素」				
選項 4	「依類別元素」				

題目編碼	IF04052	題 型	複選	難易度	中
題 目	在 PowerPoint 2010 中，由橫向投影片版面配置改為直向投影片版面配置後，下列哪些選項的比例會跟著改變？				
答 案	13				
選項 1	圖片				
選項 2	文字				
選項 3	背景				
選項 4	文字藝術師文字				

題目編碼	IF04053	題 型	單選	難易度	中
題 目	在 PowerPoint 2010 中，透過哪一種功能可以隱藏投影片中的某些物件？				

答案	2
選項 1	「隱藏投影片」
選項 2	「選取窗格」
選項 3	「移除背景」
選項 4	「設定透明色彩」


題目編碼	IF04054	題 型	單選	難易度	易
題 目	在 PowerPoint 2010 中，投影片中有多張圖片重疊時，可透過哪一種功能快速選取疊在下層的圖片？				
答 案	3				
選項 1	「選取全部」				
選項 2	「選取物件」				
選項 3	「選取窗格」				
選項 4	「移到最下層」				

題目編碼	IF04055	題 型	單選	難易度	中
題 目	在 PowerPoint 2010 中，選取物件後，若按住[Alt]鍵的同時按[→]方向鍵，下列敘述哪一項正確？				
答 案	2				
選項 1	物件位置會向右微調				
選項 2	物件向右旋轉 15 度				
選項 3	物件向左旋轉 15 度				
選項 4	增加物件的寬度				


題目編碼	IF04056	題 型	單選	難易度	中
題 目	在 PowerPoint 2010 中，如果將物件以「靠左對齊」對齊 SmartArt 圖形，則該物件將會對齊下列哪一項？				
答 案	1				
選項 1	SmartArt 圖形最左側的邊緣				
選項 2	SmartArt 圖形最右側的邊緣				
選項 3	SmartArt 圖形中最左邊的圖案				
選項 4	SmartArt 圖形中最右邊的圖案				

題目編碼	IF04057	題 型	複選	難易度	中
題 目	在 PowerPoint 2010 中，在不刪除任何投影片之下，下列哪些方法可以縮減簡報檔案的大小，以提升播放效能？				
答 案	124				
選項 1	壓縮圖片				
選項 2	變更解析度				
選項 3	裁剪圖片				
選項 4	縮小圖片				

題目編碼	IF04058	題 型	複選	難易度	中
------	---------	-----	----	-----	---

題目	在 PowerPoint 2010 中，如附圖所示，運用下列哪些功能可以將左圖編輯成右圖？ 
答案	24
選項 1	「裁剪」
選項 2	「移除背景」
選項 3	「設定透明色彩」
選項 4	「美術效果」





題目編碼	IF04059	題 型	單選	難易度	易
題 目	在 PowerPoint 2010 中，有關「裁剪」功能的敘述，下列哪一項正確？				
答 案	1				
選項 1	裁剪的部分仍然是圖片檔的一部分				
選項 2	裁剪後的圖片檔案會變小				
選項 3	裁剪後的圖片無法復原				
選項 4	裁剪的區域可以是不規則邊緣				

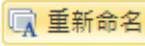
題目編碼	IF04060	題 型	複選	難易度	中
題 目	在 PowerPoint 2010 中，欲調整表格的大小，下列哪些方法正確？				
答 案	34				
選項 1	按住[Ctrl]鍵拖曳表格，可保持原表格的長寬比				
選項 2	按住[Shift]鍵拖曳表格，可讓表格保持在投影片中央				
選項 3	若要保持表格原來的長寬比，可設定「鎖定長寬比」				
選項 4	指標置於內框線上方呈  時，可往上或往下拖曳列高				

題目編碼	IF04061	題 型	單選	難易度	中
題 目	在 PowerPoint 2010 中，下列哪一項不能在簡報中進行多種設定？				
答 案	3				
選項 1	佈景主題				
選項 2	投影片母片				
選項 3	版面設定				
選項 4	頁尾內容				

題目編碼	IF04062	題 型	單選	難易度	易
題 目	在 PowerPoint 2010 中，修改及使用投影片母片的主要優點為下列哪一項？				
答 案	1				

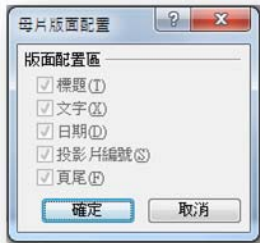
選項 1	可對每一張投影片進行通用樣式的變更
選項 2	可降低簡報檔案的大小
選項 3	可提高簡報播放效能
選項 4	可增加簡報設計的變化

題目編碼	IF04063	題 型	單選	難易度	難
題 目	在 PowerPoint 2010 中，複製 B 簡報投影片母片貼到 A 簡報母片中，若要採用 A 簡報投影片的佈景主題，需按下哪一個按鈕？				
答 案	1				
選項 1					
選項 2					
選項 3					
選項 4					

題目編碼	IF04064	題 型	單選	難易度	易
題 目	在 PowerPoint 2010 中，有關投影片母片中的重新命名，下列哪一項正確？				
答 案	4				
選項 1	重新命名一個母片，其他的母片會自動重新命名				
選項 2	重新命名一個版面配置，其他的版面配置會自動重新命名				
選項 3	複製版面配置後，一定要執行「重新命名版面配置」				
選項 4	 按鈕可以對「投影片母片」及「投影片版面配置」重新命名				

題目編碼	IF04065	題 型	複選	難易度	易
題 目	在 PowerPoint 2010 中，如附圖所示，對於一個完全空白的投影片母片，可由母片版面配置區內插入哪些配置？				
					
答 案	1234				
選項 1	「標題」與「文字」				

選項 2	「日期」
選項 3	「投影片編號」
選項 4	「頁尾」

題目編碼	IF04066	題 型	單選	難易度	中
題 目	<p>在 PowerPoint 2010 中，如附圖所示，在「母片版面配置」視窗，下列哪一項可以取消「頁尾」的顯示設定？</p> 				
答 案	4				
選項 1	無法變更				
選項 2	由「母片配置」勾消「頁尾」				
選項 3	由「插入/頁首及頁尾」勾消「頁尾」				
選項 4	刪除母片版面配置區的「頁尾」版面配置				

題目編碼	IF04067	題 型	複選	難易度	中
題 目	在 PowerPoint 2010 中，佈景主題色彩包含下列哪些選項？				
答 案	1234				
選項 1	二種深色文字與背景色彩				
選項 2	二種淺色文字與背景色彩				
選項 3	六種輔色色彩				
選項 4	兩種超連結色彩				

題目編碼	IF04068	題 型	單選	難易度	易
題 目	在 PowerPoint 2010 中，欲變更現有佈景主題的標題與本文字型，下列敘述哪一項正確？				
答 案	4				
選項 1	修改投影片母片上版面配置區的文字字型				
選項 2	修改投影片上版面配置區的文字字型				
選項 3	「佈景主題/字型」				
選項 4	「佈景主題/字型/建立新的佈景主題字型」				

題目編碼	IF04069	題 型	複選	難易度	中
題 目	在 PowerPoint 2010 中，更改某幾張投影片的背景，可由下列哪些步驟完成？				
答 案	13				
選項 1	「設計/背景/背景樣式/背景格式」				
選項 2	「設計/背景/背景樣式/重設投影片背景」				
選項 3	在投影片空白處按滑鼠右鍵「背景格式」				

選項 4	「投影片母片/背景/背景樣式/背景格式」
------	----------------------

題目編碼	IF04070	題 型	複選	難易度	易
題 目	在 PowerPoint 2010 中，在插入投影片圖片或內容之後，執行了下列哪些動作可能會使圖片或內容重新調整？				
答 案	12				
選項 1	變更投影片大小				
選項 2	變更投影片方向				
選項 3	變更投影片佈景主題				
選項 4	變更投影片顯示比例				

題目編碼	IF04071	題 型	單選	難易度	難
題 目	<p>在 PowerPoint 2010 中，如附圖所示，如何將版面配置區中的預設文字，替換成自己的自訂提示文字？</p> 				
答 案	4				
選項 1	標準模式中插入文字方塊，新增自訂的提示文字				
選項 2	在投影片母片檢視中的版面配置區，新增自訂的提示文字				
選項 3	在投影片母片檢視中插入文字方塊，新增自訂的提示文字				
選項 4	在投影片母片檢視中插入文字方塊，覆寫預設版面配置區中的文字				

題目編碼	IF04072	題 型	單選	難易度	易
題 目	在 PowerPoint 2010 中，若想要改變投影片編號字型大小，需由哪一項進入設定？				
答 案	4				
選項 1	「版面配置」				
選項 2	「投影片編號」				
選項 3	「大小及位置」				
選項 4	「投影片母片」				


題目編碼	IF04073	題 型	複選	難易度	易
題 目	在 PowerPoint 2010 中，若想要設定標題投影片上不要顯示投影片編號，可由哪些選項進入設定？				
答 案	123				
選項 1	「日期及時間」				
選項 2	「頁首及頁尾」				

選項 3	「投影片編號」
選項 4	「投影片母片」

題目編碼	IF04074	題 型	單選	難易度	中
題 目	在 PowerPoint 2010 中，若想要變更簡報所有標題的字型格式，可透過哪一項設定最便捷？				
答 案	4				
選項 1	在標準模式中，選取「標題投影片」的「標題」版面配置區				
選項 2	在大綱模式中，選取所有標題文字				
選項 3	在投影片母片檢視下，選取含有「標題」的版面配置投影片				
選項 4	在投影片母片檢視下，選取「投影片母片」的標題版面配置				

題目編碼	IF04075	題 型	單選	難易度	易
題 目	在 PowerPoint 2010 中，在標準模式中將標題文字格式改為藍色、48pt，再到投影片母片設定標題文字格式為紅色、32pt，則在播放時標題文字呈現為下列哪一項？				
答 案	1				
選項 1	藍色、48pt				
選項 2	紅色、32pt				
選項 3	紫色、48pt				
選項 4	紫色、32pt				

題目編碼	IF04076	題 型	複選	難易度	難
題 目	在 PowerPoint 2010 中，在投影片母片檢視下，設定了母片的標題動畫，則在各種版面配置的投影片具有下列哪些特性？				
答 案	124				
選項 1	都具有相同的動畫效果				
選項 2	無法刪除該標題動畫				
選項 3	無法編輯該標題動畫				
選項 4	可複製效果到版面配置				

題目編碼	IF04077	題 型	複選	難易度	中
題 目	<p>在 PowerPoint 2010 中，在自訂版面配置區內，插入下列哪些選項會使版面配置如附圖所示？</p> 				
答 案	13				



選項 1	「內容」
選項 2	「內容(垂直)」
選項 3	「文字(垂直)」
選項 4	「美工圖案」

題目編碼	IF04078	題 型	單選	難易度	易
題 目	<p>在 PowerPoint 2010 中，如附圖所示，要將左圖編輯成右圖，需執行下列哪一項功能？</p> 				
答 案	3				
選項 1	將版面配置改為「空白」				
選項 2	在投影片母片刪除不要顯示的圖案				
選項 3	執行「隱藏背景圖形」				
選項 4	改變「背景樣式」				

題目編碼	IF04079	題 型	複選	難易度	中
題 目	在 PowerPoint 2010 中，在「備忘稿」檢視中，可以執行下列哪些設定？				
答 案	1234				
選項 1	繪製圖案				
選項 2	放置圖片				
選項 3	加入圖表				
選項 4	格式化文字				

題目編碼	IF04080	題 型	單選	難易度	易
題 目	在 PowerPoint 2010 中，將編輯好的投影片母片，以哪一種檔案格式儲存可成為範本檔案？				
答 案	2				
選項 1	以*.pptx 格式另存新檔				
選項 2	以*.potx 格式另存新檔				
選項 3	以*.potm 格式另存新檔				
選項 4	以*.thmx 格式另存新檔				

題目編碼	IF04081	題 型	複選	難易度	易
題 目	在 PowerPoint 2010 中，若想要改善視訊播放效能並節省磁碟空間，可將簡報中的媒體藉由下列哪些方法改善？				
答 案	13				
選項 1	壓縮媒體檔案				

選項 2	嵌入簡報
選項 3	連結至簡報
選項 4	燒錄製光碟

題目編碼	IF04082	題 型	複選	難易度	中
題 目	在 PowerPoint 2010 中，如果簡報中插入的媒體在其他電腦上無法順利播放，可能為下列哪些因素？				
答 案	134				
選項 1	連結視訊				
選項 2	內嵌視訊				
選項 3	使用舊版的 PowerPoint 插入視訊				
選項 4	未安裝正確的轉碼器				

題目編碼	IF04083	題 型	單選	難易度	難
題 目	在 PowerPoint 2010 中，當出現播放速度變慢、音訊及視訊不同步、音訊斷斷續續，以及框架遺失等，最佳的解決方法是先執行下列哪一項？				
答 案	1				
選項 1	「最佳化相容性」				
選項 2	「查看問題」				
選項 3	「壓縮媒體檔案」				
選項 4	重新開機				

題目編碼	IF04084	題 型	複選	難易度	中
題 目	在 PowerPoint 2010 中，如果在電腦上安裝了 QuickTime 播放程式，就可插入哪些種類的影片檔案？				
答 案	12				
選項 1	.mov				
選項 2	.mp4				
選項 3	.swf				
選項 4	.flv				

題目編碼	IF04085	題 型	單選	難易度	中
題 目	在 PowerPoint 2010 所支援的音訊中，下列哪一種類型的檔案格式所佔的檔案容量最大？				
答 案	2				
選項 1	.wma				
選項 2	.wav				
選項 3	.mp3				
選項 4	.mid				

題目編碼	IF04086	題 型	單選	難易度	易
題 目	在 PowerPoint 2010 中，透過下列哪一項功能，可以調整視訊的相對亮度及對比度？				
答 案	4				

選項 1	「視訊樣式」
選項 2	「視訊效果」
選項 3	「色彩」
選項 4	「校正」

題目編碼	IF04087	題 型	複選	難易度	易
題 目	在 PowerPoint 2010 中，對於視訊格式的外觀，可以透過下列哪些功能來編輯？				
答 案	1234				
選項 1	套用圖案				
選項 2	新增邊框				
選項 3	改變長寬比				
選項 4	裁剪				

題目編碼	IF04088	題 型	單選	難易度	易
題 目	在 PowerPoint 2010 中，如附圖所示，透過哪一項功能可以將左圖的視訊編輯成右圖監視器的效果？				
					
答 案	2				
選項 1	套用「視訊邊框」				
選項 2	套用「視訊樣式」				
選項 3	套用「影像圖形」				
選項 4	套用「視訊效果」				




題目編碼	IF04089	題 型	複選	難易度	中
題 目	在 PowerPoint 2010 中，若想要將投影片插入的音訊  設定為簡報的背景音樂，可透過下列哪些選項進行設定？				
答 案	1234				
選項 1	勾選「循環播放，直到停止」				
選項 2	勾選「播放後自動倒帶」				
選項 3	由「開始」設定「自動」播放				
選項 4	由「開始」設定「跨投影片播放」				

題目編碼	IF04090	題 型	單選	難易度	中
題 目	在 PowerPoint 2010 中，欲指定投影片 1~5 的背景音樂為 A.wav，投影片 6~10 的背景音樂為				

	B.wav，可透過下列哪一項功能來設定？
答案	3
選項 1	由動畫的「聲音」效果設定
選項 2	由檔案插入「音訊」效果設定
選項 3	由「切換」投影片的「聲音」效果設定
選項 4	由「動作設定」的「播放聲音」效果設定

題目編碼	IF04091	題 型	複選	難易度	中
題 目	在 PowerPoint 2010 中，運用「剪輯視訊」功能可以修剪影片片段中的哪些部分？				
答 案	12				
選項 1	開頭				
選項 2	結尾				
選項 3	中間段				
選項 4	音樂				

題目編碼	IF04092	題 型	複選	難易度	中
題 目	在 PowerPoint 2010 中，發表含媒體的簡報時，書籤有下列哪些用途？				
答 案	23				
選項 1	可快速超連結至特定位置				
選項 2	可執行觸發動畫				
選項 3	可跳到視訊或音訊中的特定位置				
選項 4	可記憶影片暫停放映的位置				


題目編碼	IF04093	題 型	複選	難易度	易
題 目	<p>在 PowerPoint 2010 中，請參閱附圖內容進行作答。</p> <p>如果插入多個自動播放的音訊剪輯時，則下列敘述哪些正確？</p> <p>(A)  圖示會彼此重疊顯示</p> <p>(B) 同時進行播放</p> <p>(C) 依其加入順序進行播放</p> <p>(D) 按一下  的  才會播放</p>				
答 案	13				
選項 1	選項 A				
選項 2	選項 B				
選項 3	選項 C				
選項 4	選項 D				

題目編碼	IF04094	題 型	複選	難易度	易
題 目	在 PowerPoint 2010 中，若想要錄製及聽取旁白，電腦必須安裝下列哪些設備？				
答 案	123				
選項 1	音效卡				
選項 2	麥克風				

選項 3	喇叭
選項 4	視訊裝置

題目編碼	IF04095	題 型	單選	難易度	中
題 目	在 PowerPoint 2010 中，如果同一份簡報必須向不同的觀眾群進行報告，可透過下列哪一項功能，將相關的投影片集合在一起，如此即可針對不同的觀眾群，放映不同的投影片組合？				
答 案	2				
選項 1	「設定放映方式」				
選項 2	「自訂放映」				
選項 3	「隱藏投影片」				
選項 4	「新增章節」				

題目編碼	IF04096	題 型	複選	難易度	中
題 目	在 PowerPoint 2010 中，透過下列哪些功能，可以在放映簡報的主投影片時，穿插放映自訂的投影片？				
答 案	12				
選項 1	「超連結」				
選項 2	「動作設定」				
選項 3	「設定放映方式」				
選項 4	「自訂投影片放映」				

題目編碼	IF04097	題 型	單選	難易度	中
題 目	在 PowerPoint 2010 中，在標準模式下發現投影片上有個  圖示，則下列哪一項說明正確？				
答 案	1				
選項 1	代表第 8 個註解				
選項 2	M 是使用者姓名				
選項 3	為輸入「M8」的「摺角紙張」圖案				
選項 4	為輸入「M8」的動作按鈕				

題目編碼	IF04098	題 型	單選	難易度	中
題 目	在 PowerPoint 2010 中，若想要讓出席者或缺席者皆可於會後檢閱簡報，同時聽取簡報期間評論內容的最佳作法為下列哪一項？				
答 案	3				
選項 1	自訂投影片放映				
選項 2	設定投影片放映				
選項 3	錄製投影片放映				
選項 4	建立視訊				

題目編碼	IF04099	題 型	複選	難易度	中
題 目	在 PowerPoint 2010 中，PowerPoint 所提供「在資訊站瀏覽」的投影片展示方式，觀眾可自行操作下列哪些功能？				
答 案	23				

選項 1	設定以手動或自動方式來放映簡報
選項 2	切換投影片
選項 3	啟動超連結
選項 4	選取 PowerPoint 功能表中的設定

題目編碼	IF04100	題 型	單選	難易度	易
題 目	在 PowerPoint 2010 中，在投影片放映時，可以按下哪一組鍵將指標變成筆型？				
答 案	1				
選項 1	[Ctrl]+[P]鍵				
選項 2	[Ctrl]+[E]鍵				
選項 3	[Ctrl]+[A]鍵				
選項 4	[Ctrl]+[T]鍵				

題目編碼	IF05001	題 型	單選	難易度	中
題 目	Windows 7 各版本中，下列哪一項無法在零售商購買？				
答 案	2				
選項 1	Windows 7 Home Premium				
選項 2	Windows 7 Enterprise				
選項 3	Windows 7 Professional				
選項 4	Windows 7 Ultimate				

題目編碼	IF05002	題 型	複選	難易度	易
題 目	如欲從舊版的 Windows 升級至 Windows 7 Professional 版本時，下列哪些舊版的 Windows 設定可以帶到 Windows 7 Professional 中？				
答 案	1234				
選項 1	使用者帳戶				
選項 2	檔案與資料夾				
選項 3	程式資料檔與設定				
選項 4	網際網路設定				

題目編碼	IF05003	題 型	複選	難易度	難
題 目	在 Windows 7 Professional 中，可以將使用者帳戶圖片變更為自己的圖片，圖片會顯示在下列哪些地方？				
答 案	12				
選項 1	歡迎畫面				
選項 2	「開始」功能表上				
選項 3	工具列上				
選項 4	桌面上				

題目編碼	IF05004	題 型	複選	難易度	易
題 目	在 Windows 7 Professional 中，桌面上的小工具包含下列哪些項目？				
答 案	1234				

選項 1	圖片拼圖
選項 2	摘要頭條
選項 3	行事曆
選項 4	小時鐘

題目編碼	IF05005	題 型	單選	難易度	易
題 目	在 Windows 7 Professional 中，關於桌面上的小工具，下列哪一項敘述錯誤？				
答 案	4				
選項 1	可設定永遠顯示在視窗最上層				
選項 2	在小工具上按滑鼠右鍵，可改變大小				
選項 3	可從 Windows 網站上找到更多小工具				
選項 4	不能隨意拖曳到桌面任何位置				

題目編碼	IF05006	題 型	單選	難易度	易
題 目	在 Windows 7 Professional 中，預設的網頁瀏覽器為下列哪一項？				
答 案	3				
選項 1	Firefox				
選項 2	Pcman				
選項 3	Internet Explorer				
選項 4	Green Browser				

題目編碼	IF05007	題 型	單選	難易度	中
題 目	可由下列哪一項檢查 Windows 7 Professional 的啟用狀態？				
答 案	3				
選項 1	使用者帳戶				
選項 2	行動作業中心				
選項 3	系統				
選項 4	輕鬆存取中心				

題目編碼	IF05008	題 型	複選	難易度	中
題 目	可使用下列哪些方式取得 Windows 7 Professional 內建的說明及支援？				
答 案	12				
選項 1	在「開始/說明及支援」				
選項 2	按下鍵盤左上方的[F1]鍵				
選項 3	在「執行」的視窗輸入 Help				
選項 4	在 IE 的網址列輸入說明及支援				

題目編碼	IF05009	題 型	單選	難易度	易
題 目	在 Windows 7 Professional 中，只要新安裝的軟體，預設都會在「開始」功能表內的下列哪一項目錄下建立捷徑？				
答 案	1				
選項 1	「開始/所有程式」				

選項 2	「開始/附屬應用程式」
選項 3	「開始/啟動」
選項 4	「開始/預設程式」

題目編碼	IF05010	題 型	單選	難易度	易
題 目	在 Windows 7 Professional 中，當功能無法使用或不知道如何啟動某一功能時，可以透過下列哪一項功能尋求解答或幫助？				
答 案	2				
選項 1	所有程式				
選項 2	說明及支援				
選項 3	命令提示字元				
選項 4	控制台				

題目編碼	IF05011	題 型	複選	難易度	難
題 目	在 Windows 7 Professional 中，關於「說明及支援」的敘述，下列哪些正確？				
答 案	123				
選項 1	藍色的字體為可點選連結，可連結到另一解說畫面或連至網際網路				
選項 2	紫色的字體為已點選過的連結				
選項 3	綠色的字體為檢視定義，可移動至其上方後，檢視定義觀看解釋				
選項 4	紅色的字體為重要事項，需注意				

題目編碼	IF05012	題 型	複選	難易度	中
題 目	可透過下列哪些管道進行 Windows 7 Professional 啟用作業？				
答 案	24				
選項 1	可透過平信寄送安裝序號進行啟用作業				
選項 2	可透過網際網路連線進行啟用作業				
選項 3	可透過傳真進行啟用作業				
選項 4	可透過電話進行啟用作業				

題目編碼	IF05013	題 型	複選	難易度	難
題 目	在 Windows 7 Professional 中，當 Tablet PC 進行版本升級時，可以傳輸給新電腦或作業系統的個人化手寫資訊，下列敘述哪些正確？				
答 案	123				
選項 1	在手寫辨識個人化工具提供的手寫範例				
選項 2	在「控制台」的「Tablet PC 設定」中，「手寫辨識」索引標籤上選取的選項				
選項 3	手寫辨識器蒐集您使用的單字和手寫風格的相關資訊				
選項 4	可傳送系統中的基本設定				

題目編碼	IF05014	題 型	複選	難易度	中
題 目	在 Windows 7 Professional 中，使用 Windows 輕鬆傳輸時，可以使用下列哪些傳輸方式？				
答 案	134				
選項 1	輕鬆傳輸纜線				



選項 2	標準 USB 纜線
選項 3	網路
選項 4	外接式硬碟

題目編碼	IF05015	題 型	複選	難易度	中
題 目	在 Windows 7 Professional 中，「開始使用」中執行的工作清單包括下列哪些項目？				
答 案	1234				
選項 1	傳輸檔案				
選項 2	新增使用者				
選項 3	備份您的檔案				
選項 4	個人化 Windows				

題目編碼	IF05016	題 型	複選	難易度	中
題 目	在 Windows 7 Professional 中，關於使用者帳戶的敘述下列哪些正確？				
答 案	123				
選項 1	個人的喜好設定（如桌面背景、螢幕保護裝置）				
選項 2	可讓多人共用電腦				
選項 3	需要使用者帳戶才能使用 Windows				
選項 4	一定要在我的帳戶設定密碼				

題目編碼	IF05017	題 型	複選	難易度	難
題 目	在 Windows 7 Professional 中，可使用放大鏡來檢視難以看到的物件，其共有下列哪三種模式？				
答 案	124				
選項 1	透鏡模式				
選項 2	全螢幕模式				
選項 3	半螢幕模式				
選項 4	停駐模式				

題目編碼	IF05018	題 型	單選	難易度	中
題 目	在 Windows 7 Professional 中，欲變更電腦的視覺效果和音效，應使用「控制台/外觀及個人化」內的下列哪一項工具？				
答 案	3				
選項 1	「控制台/外觀及個人化/字型」				
選項 2	「控制台/外觀及個人化/顯示」				
選項 3	「控制台/外觀及個人化/個人化」				
選項 4	「控制台/輕鬆存取中心」				





題目編碼	IF05019	題 型	複選	難易度	易
題 目	在 Windows 7 Professional 中，Aero 桌面體驗包含下列哪些項目？				
答 案	124				
選項 1	Aero Peek				

選項 2	Aero Shake
選項 3	Aero Slide
選項 4	Aero Flip 3D





題目編碼	IF05020	題 型	複選	難易度	易
題 目	在 Windows 7 Professional 中，關於 Windows Aero 硬體需求的敘述，下列哪些正確？				
答 案	124				
選項 1	1 GB 的記憶體(RAM)				
選項 2	128 MB 的圖形卡				
選項 3	50 MB 的硬碟				
選項 4	1 GHz 32 位元或 64 位元的處理器(CPU)				

題目編碼	IF05021	題 型	單選	難易度	易
題 目	在 Windows 7 Professional 中，下列哪一項可用來開啟相關應用程式？				
答 案	3				
選項 1	「開始/說明及支援」				
選項 2	「資源回收筒」				
選項 3	「開始/所有程式」				
選項 4	「開始/文件」				

題目編碼	IF05022	題 型	單選	難易度	易
題 目	在 Windows 7 Professional 中，關於按下[Alt]+[Print Screen]鍵的敘述，下列哪一項正確？				
答 案	3				
選項 1	將目前顯示器所顯示的畫面由印表機印出				
選項 2	此鍵為 MS-DOS 專用，在 Windows 7 Professional 下無作用				
選項 3	將目前執行的視窗儲存至剪貼簿				
選項 4	將目前顯示器所顯示的畫面儲存至剪貼簿				

題目編碼	IF05023	題 型	單選	難易度	易
題 目	在 Windows 7 Professional 中，當作業系統正處於讀寫資料或運算時，此時滑鼠指標形狀會變成下列哪一項？				
答 案	2				
選項 1					
選項 2					
選項 3					
選項 4					

題目編碼	IF05024	題 型	單選	難易度	易
------	---------	-----	----	-----	---


題目	在 Windows 7 Professional 中，以滑鼠按下視窗標題列中的下列哪一項工具鈕，可使整個視窗縮小成一個工具鈕，並且排列在工作列上？
答案	1
選項 1	
選項 2	
選項 3	
選項 4	

題目編碼	IF05025	題 型	單選	難易度	易
題目	在 Windows 7 Professional 中，視窗功能表列中的括弧內英文字母，是表示若同時按下鍵盤的哪一項組合鍵可執行該功能？				
答案	1				
選項 1	[Alt]+[F]鍵				
選項 2	[Ctrl]+[F]鍵				
選項 3	[Shift]+[F]鍵				
選項 4	[Tab]+[F]鍵				


題目編碼	IF05026	題 型	複選	難易度	中
題目	在 Windows 7 Professional 中，關於滑鼠的設定下列哪些正確？				
答案	123				
選項 1	從「輕鬆存取中心」選取「讓滑鼠更容易使用」中設定				
選項 2	啟動滑鼠鍵後便可透過數字鍵台控制滑鼠指標的移動				
選項 3	可設定將滑鼠暫留在視窗上方以啟動視窗				
選項 4	啟動相黏鍵就不需要一次按三個按鍵				

題目編碼	IF05027	題 型	複選	難易度	中
題目	在 Windows 7 Professional 中，若在視窗的標題列上連按滑鼠左鍵二下，可完成下列哪些操作？				
答案	24				
選項 1	將視窗最小化				
選項 2	可將最大化的視窗還原成最大化前的大小				
選項 3	關閉視窗				
選項 4	將視窗最大化				

題目編碼	IF05028	題 型	單選	難易度	中
題目	在 Windows 7 Professional 中，連接投影機後選取桌面的顯示方式（如附圖所示），可以由下列哪一項快速鍵達成？				
					
答案	3				

選項 1	按[Alt]+[Tab]鍵
選項 2	按[Alt]+[Shift]鍵
選項 3	按[Windows 標誌鍵 
選項 4	按[Shift]+[Alt]鍵

題目編碼	IF05029	題 型	複選	難易度	中
題 目	在 Windows 7 Professional 中，關於使用 Snap 貼齊功能調整視窗大小的敘述，下列哪些正確？				
答 案	1234				
選項 1	要讓視窗回到原始大小，可朝桌面頂端反向拖曳標題列				
選項 2	可最大化視窗以填滿整個桌面				
選項 3	可在桌面上垂直展開視窗				
選項 4	可讓桌面上的視窗並排				

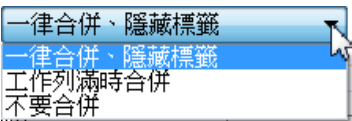
題目編碼	IF05030	題 型	單選	難易度	中
題 目	在 Windows 7 Professional 中，欲使用貼齊功能在桌面上垂直展開視窗，應使用下列哪一項操作？				
答 案	2				
選項 1	將視窗的標題列拖曳到螢幕頂端				
選項 2	指向已開啟視窗的上緣，直到指標變成雙箭頭  拖曳到螢幕頂端				
選項 3	在視窗上緣的下方，按滑鼠左鍵兩下				
選項 4	將視窗的標題列向螢幕左側拖曳				

題目編碼	IF05031	題 型	複選	難易度	難
題 目	在 Windows 7 Professional 中，要快速切換您正在使用的開啟視窗，有下列哪些操作方式？				
答 案	13				
選項 1	按[Alt]+[Tab]鍵				
選項 2	按[Alt]+[Shift]鍵				
選項 3	按[Ctrl]+[Alt]+[Tab]鍵				
選項 4	按[Ctrl]+[Shift]+[Tab]鍵				

題目編碼	IF05032	題 型	單選	難易度	中
題 目	在 Windows 7 Professional 中，關於對話方塊的敘述，下列哪一項錯誤？				
答 案	2				
選項 1	對話方塊中的清單方塊如果看不到您要的選項，可以使用捲軸捲動清單				
選項 2	對話方塊中的選項按鈕可選取一或多個獨立選項				
選項 3	對話方塊中的選項，如該項目功能無法使用會以灰色顯示				
選項 4	對話方塊中的文字方塊可讓您輸入資訊				

題目編碼	IF05033	題 型	單選	難易度	中
題 目	如附圖所示，在 Windows 7 Professional 中，關於「核取方塊」的敘述，下列哪一項正確？				

	<input checked="" type="checkbox"/> 鎖定工作列(L) <input checked="" type="checkbox"/> 自動隱藏工作列(U) <input type="checkbox"/> 使用小圖示(I)
答案	1
選項 1	可選取一或多個獨立選項
選項 2	可輸入文字
選項 3	可調整某範圍值的設定
選項 4	在兩個以上的選項之間，只能選取一項

題目編碼	IF05034	題 型	單選	難易度	中
題 目	如附圖所示，在 Windows 7 Professional 中，關於「下拉式清單」的敘述，下列哪一項正確？				
					
答案	3				
選項 1	可選取一或多個獨立選項				
選項 2	下拉式清單關閉時，可以看見所有選項				
選項 3	在您按一下控制項之前，其他可用的選項是隱藏的				
選項 4	可調整某範圍值的設定				

題目編碼	IF05035	題 型	複選	難易度	中
題 目	在 Windows 7 Professional 中，可由附圖內容得知下列哪些資訊？				
					
答案	123				
選項 1	Windows 版本				
選項 2	記憶體大小				
選項 3	CPU 等級				
選項 4	硬碟容量				

題目編碼	IF05036	題 型	單選	難易度	難
題 目	在 Windows 7 Professional 中，欲將桌面上的圖示暫時隱藏，應使用下列哪一項操作？				

答案	3
選項 1	在桌面空白處開啟快顯功能表中的「檢視/自動排列圖示」設定
選項 2	在桌面空白處開啟快顯功能表中的「重新整理」設定
選項 3	在桌面空白處開啟快顯功能表中的「檢視/顯示桌面圖示」設定
選項 4	在桌面空白處開啟快顯功能表中的「排序方式」選項內設定

題目編碼	IF05037	題 型	複選	難易度	難
題 目	在 Windows 7 Professional 中，「開始」功能表中包含下列哪些功能？				
答 案	1234				
選項 1	啟動程式				
選項 2	搜尋檔案、資料夾及程式				
選項 3	調整電腦設定				
選項 4	關閉電腦				

題目編碼	IF05038	題 型	複選	難易度	中
題 目	在 Windows 7 Professional 中，要關閉工作列上開啟的程式圖示，可使用下列哪些操作方式？				
答 案	13				
選項 1	在工具列的程式圖示上按滑鼠右鍵選擇「關閉/視窗」				
選項 2	在「控制台/程式集」中設定				
選項 3	將工具列中的程式圖示點選開啟，選擇關閉視窗按鈕				
選項 4	在「開始/所有程式」中設定				

題目編碼	IF05039	題 型	複選	難易度	易
題 目	在 Windows 7 Professional 中，使用「開始」功能表的搜尋方塊可尋找儲存在電腦上的下列哪些項目？				
答 案	1234				
選項 1	電子郵件訊息				
選項 2	程式				
選項 3	資料夾				
選項 4	檔案				

題目編碼	IF05040	題 型	複選	難易度	難
題 目	在 Windows 7 Professional 中，欲將「開始」功能表中最近使用的程式與最近開啟項目的清單清除，可使用下列哪些操作？				
答 案	234				
選項 1	從「控制台/程式集」中設定				
選項 2	取消勾選「儲存最近開啟的程式並顯示於[開始]功能表」核取方塊				
選項 3	在工具列上空白處按滑鼠右鍵，從「內容」中設定				
選項 4	從「控制台/外觀及個人化/工作列及[開始]功能表」中設定				

題目編碼	IF05041	題 型	單選	難易度	中
------	---------	-----	----	-----	---

題目	在 Windows 7 Professional 的「檔案總管」功能中，想要同時顯示檔案或資料夾的名稱、大小、類型及修改日期等資訊，應使用下列哪一項檢視方式？
答案	4
選項 1	小圖示
選項 2	內容
選項 3	清單
選項 4	詳細資料

題目編碼	IF05042	題 型	單選	難易度	中
題目	在 Windows 7 Professional 的「檔案總管」功能中，想要將不同檔案的類型歸類顯示在一起的功能敘述，下列哪一項正確？				
答案	3				
選項 1	執行滑鼠右鍵功能點選「排序方法」選項，設定「名稱」項目				
選項 2	執行滑鼠右鍵功能點選「排序方法」選項，設定「修改日期」項目				
選項 3	執行滑鼠右鍵功能點選「排序方法」選項，設定「類型」項目				
選項 4	執行滑鼠右鍵功能點選「排序方法」選項，設定「大小」項目				

題目編碼	IF05043	題 型	複選	難易度	難
題目	在 Windows 7 Professional 中，開啟指定的資料夾顯示內容的功能敘述，下列哪些正確？				
答案	123				
選項 1	點選資料夾項目，執行滑鼠左鍵二次				
選項 2	點選資料夾項目，執行鍵盤中的[Enter]鍵				
選項 3	點選資料夾項目，執行滑鼠右鍵點選「開啟」選項				
選項 4	點選資料夾項目，執行滑鼠右鍵二次				

題目編碼	IF05044	題 型	單選	難易度	中
題目	在 Windows 7 Professional 中，執行「開始/所有程式/附屬應用程式/Windows 檔案總管」指令功能，將會顯示下列哪一項資料夾項目？				
答案	1				
選項 1	媒體櫃				
選項 2	電腦				
選項 3	我的最愛				
選項 4	家用群組				

題目編碼	IF05045	題 型	單選	難易度	易
題目	在 Windows 7 Professional 中，當建立一個新的資料夾時，其預設名稱為何下列哪一項？				
答案	1				
選項 1	新增資料夾				
選項 2	新資料夾				
選項 3	資料夾				
選項 4	New Folder				

題目編碼	IF05046	題 型	單選	難易度	中
題 目	在 Windows 7 Professional 中，利用滑鼠左鍵點選「C:\」磁碟機下的檔案或資料夾，並拖曳至「桌面」位置的操作為下列哪一項行為？				
答 案	4				
選項 1	刪除				
選項 2	複製				
選項 3	剪下				
選項 4	移動				

題目編碼	IF05047	題 型	單選	難易度	中
題 目	在 Windows 7 Professional 中，點選「C:\」磁碟機下的檔案或資料夾，並拖曳至「D:\」磁碟機下的操作為下列哪一項行為？				
答 案	3				
選項 1	剪下				
選項 2	移動				
選項 3	複製				
選項 4	刪除				

題目編碼	IF05048	題 型	複選	難易度	中
題 目	在 Windows 7 Professional 中的「工作列」功能，可針對已開啟的視窗執行下列哪些管理功能？				
答 案	234				
選項 1	同時關閉所有視窗				
選項 2	垂直並排顯示視窗				
選項 3	水平並排顯示視窗				
選項 4	可以透明化視窗，顯示桌面內容				

題目編碼	IF05049	題 型	單選	難易度	易
題 目	在 Windows 7 Professional 中，當將瀏覽中的視窗執行最小化功能後，會顯示在下列哪一項項目中？				
答 案	3				
選項 1	我的電腦				
選項 2	媒體櫃				
選項 3	工作列				
選項 4	我的最愛				

題目編碼	IF05050	題 型	複選	難易度	中
題 目	在 Windows 7 Professional 中，選取多個檔案和資料夾項目，可執行下列哪些操作？				
答 案	123				
選項 1	傳送到				
選項 2	複製				
選項 3	刪除				



選項 4	修改屬性
------	------

題目編碼	IF05051	題 型	單選	難易度	易
題 目	在 Windows 7 Professional 中，想要選取多個不連續性的檔案或資料夾範圍，可搭配鍵盤中的下列哪一項按鍵完成選取？				
答 案	4				
選項 1	[Alt]鍵				
選項 2	[Tab]鍵				
選項 3	[Shift]鍵				
選項 4	[Ctrl]鍵				

題目編碼	IF05052	題 型	單選	難易度	難
題 目	在 Windows 7 Professional 中，想要快速的搜尋電腦常用檔案所使用的功能，下列哪一項正確？				
答 案	2				
選項 1	類型				
選項 2	索引				
選項 3	屬性				
選項 4	大小				

題目編碼	IF05053	題 型	複選	難易度	難
題 目	點選已開啟的資料夾頂端「搜尋方塊」搜尋檔案或資料夾，Windows 7 Professional 提供了下列哪些預設條件搜尋方式？				
答 案	1234				
選項 1	可依「修改日期」搜尋				
選項 2	可依「大小」搜尋				
選項 3	可依「類型」搜尋				
選項 4	可依「種類」搜尋				

題目編碼	IF05054	題 型	單選	難易度	中
題 目	在 Windows 7 Professional 中，希望在點選資料夾圖示後立即可開啟資料夾內容，應使用下列哪一項功能設定？				
答 案	3				
選項 1	點選「組合管理」功能並點選「內容」指令				
選項 2	點選「組合管理」功能並點選「版面配置」指令				
選項 3	點選「組合管理」功能並點選「資料夾和搜尋選項」指令				
選項 4	點選「組合管理」功能並點選「全選」指令				




題目編碼	IF05055	題 型	單選	難易度	難
題 目	在 Windows 7 Professional 中搜尋資料夾內容時，希望能同時搜尋子資料夾，在「搜尋方式」項目設定的功能敘述，下列哪一項正確？				
答 案	4				

選項 1	搜尋檔案資料夾中的系統檔案時，不使用索引（搜尋可能會花費較長的時間）
選項 2	使用自然語言搜尋
選項 3	尋找部份相符
選項 4	搜尋檔案資料夾時，在搜尋結果包含子資料夾





題目編碼	IF05056	題 型	單選	難易度	中
題 目	在 Windows 7 Professional 中，想要變更檔案的預設使用程式，執行滑鼠右鍵，點選「內容」指令的設定敘述，下列哪一項正確？				
答 案	1				
選項 1	利用「一般」標籤，進行設定				
選項 2	利用「共用」標籤，進行設定				
選項 3	利用「安全性」標籤，進行設定				
選項 4	利用「以前的版本」標籤，進行設定				

題目編碼	IF05057	題 型	單選	難易度	中
題 目	在 Windows 7 Professional 中，想要知道檔案或資料夾的容量大小，可執行滑鼠右鍵，點選「內容」指令的哪一項標籤進行檢視？				
答 案	1				
選項 1	檢視「一般」標籤				
選項 2	檢視「共用」標籤				
選項 3	檢視「安全性」標籤				
選項 4	檢視「以前的版本」標籤				

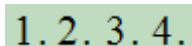
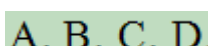


題目編碼	IF05058	題 型	複選	難易度	易
題 目	在 Windows 7 Professional 中，點選檔案、程式或資料夾產生「捷徑」圖示功能顯示的位置敘述，下列哪些正確？				
答 案	123				
選項 1	可顯示在「工具列」				
選項 2	可顯示在桌面				
選項 3	可顯示在「開始」功能表				
選項 4	可顯示在「媒體櫃」				

題目編碼	IF05059	題 型	複選	難易度	易
題 目	在 Windows 7 Professional 中，下列哪些「捷徑」圖示是正確的？				
答 案	1234				
選項 1					
選項 2					
選項 3					

選項 4	
------	--

題目編碼	IF05060	題 型	複選	難易度	易
題 目	在 Windows 7 Professional 中，檔案以圖示表示，當看到下列哪些圖示時即可輕鬆辨識為影像檔案類型？				
答 案	34				
選項 1					
選項 2					
選項 3					
選項 4					





題目編碼	IF05061	題 型	單選	難易度	易
題 目	在 Windows 7 Professional 中，下列哪一項組合鍵可以快速列印「WordPad」文件內容？				
答 案	2				
選項 1	[Ctrl] +[A]鍵				
選項 2	[Ctrl] +[P]鍵				
選項 3	[Ctrl] +[W]鍵				
選項 4	[Ctrl] +[Z]鍵				

題目編碼	IF05062	題 型	複選	難易度	中
題 目	在 Windows 7 Professional 中，「WordPad」使用「開始清單」功能，顯示的效果下列哪些正確？				
答 案	123				
選項 1					
選項 2					
選項 3					
選項 4					

題目編碼	IF05063	題 型	複選	難易度	難
題 目	在 Windows 7 Professional 中，下列哪些是「WordPad」可以儲存的檔案格式？				
答 案	1234				
選項 1	文字文件 (*.txt)				

選項 2	Rich Text Format (*.rtf)
選項 3	Office Open XML 文件 (*.docx)
選項 4	OpenDocument 文字 (*.odt)

題目編碼	IF05064	題 型	單選	難易度	中
題 目	在 Windows 7 Professional 中，利用小畫家「形狀」工具繪製星形圖形時，若要變更背景色彩為黃色，在色彩工具中應設定的操作敘述，下列哪一項正確？				
答 案	2				
選項 1	點選「色彩 1」按鈕，再挑選顏色				
選項 2	點選「色彩 2」按鈕，再挑選顏色				
選項 3	點選「色彩 3」按鈕，再挑選顏色				
選項 4	點選「色彩 4」按鈕，再挑選顏色				

題目編碼	IF05065	題 型	單選	難易度	中
題 目	在 Windows 7 Professional 中，利用小畫家的「筆刷」工具想繪製出噴灑線條的效果，應使用下列哪一項功能來繪製？				
答 案	3				
選項 1					
選項 2					
選項 3					
選項 4					

題目編碼	IF05066	題 型	複選	難易度	中
題 目	在 Windows 7 Professional 中，小畫家可以處理的圖片檔案格式有下列哪些？				
答 案	234				
選項 1	RAW				
選項 2	JPG				
選項 3	PNG				
選項 4	GIF				

題目編碼	IF05067	題 型	單選	難易度	中
題 目	在 Windows 7 Professional 中，切換「小算盤」為工程型模式時，計算機的精確度可以達到的有效數字為下列哪一項？				
答 案	3				
選項 1	10				
選項 2	16				
選項 3	32				
選項 4	48				

題目編碼	IF05068	題 型	單選	難易度	易
題 目	在 Windows 7 Professional 中，按下列哪一項功能鍵，即可在「小算盤」中使用鍵盤右方的數字鍵進行輸入？				
答 案	3				
選項 1	按一下[Caps Lock]鍵，保持燈號恆亮				
選項 2	按一下[Insert]鍵，保持燈號恆亮				
選項 3	按一下[Num Lock]鍵，保持燈號恆亮				
選項 4	按一下[BackSpace]鍵，保持燈號恆亮				

題目編碼	IF05069	題 型	單選	難易度	中
題 目	在 Windows 7 Professional 中，想要在「記事本」中顯示目前的系統日期和時間，下列哪一項操作正確？				
答 案	2				
選項 1	執行「檔案」功能表				
選項 2	執行「編輯」功能表				
選項 3	執行「格式」功能表				
選項 4	執行「檢視」功能表				

題目編碼	IF05070	題 型	複選	難易度	易
題 目	在 Windows 7 Professional 中，可以使用下列哪些操作來快速調整「記事本」裡文字資料的位置？				
答 案	124				
選項 1	選取欲調整的文字範圍，執行「編輯/剪下」功能至指定的位置再執行「編輯/貼上」功能				
選項 2	選取欲調整的文字範圍，利用滑鼠按下選取範圍直接拖曳至指定的位置				
選項 3	選取欲調整的文字範圍，執行「檢視/搜尋」功能至指定的位置再執行「檢視/目標」功能				
選項 4	選取欲調整的文字範圍，執行[Ctrl]鍵+[X]鍵功能至指定的位置再執行[Ctrl]鍵+[V]鍵功能				

題目編碼	IF05071	題 型	單選	難易度	易
題 目	在 Windows 7 Professional 中，「記事本」的檔案類型為文字檔，副檔名為下列哪一項？				
答 案	2				
選項 1	DOC				
選項 2	TXT				
選項 3	HTML				
選項 4	XML				

題目編碼	IF05072	題 型	單選	難易度	中
題 目	在 Windows 7 Professional 中，「剪取工具」擷取螢幕上任何物件的影像，會自動複製到電腦中下列哪一項功能位置裡？				
答 案	3				
選項 1	資源回收筒				
選項 2	我的電腦				


選項 3	剪貼簿
選項 4	我的文件




題目編碼	IF05073	題 型	複選	難易度	易
題 目	在 Windows 7 Professional 中，想要使用「錄音機」功能，必須在電腦安裝下列哪些設備？				
答 案	134				
選項 1	音效卡				
選項 2	顯示卡				
選項 3	麥克風				
選項 4	喇叭				

題目編碼	IF05074	題 型	複選	難易度	中
題 目	在 Windows 7 Professional 中，可使用下列哪些操作來修改行事曆日期或時間的顯示？				
答 案	13				
選項 1	點選「工作列」右方的日期時間區域直接修改				
選項 2	點選「工作列」，開啟「變更日期和時間」				
選項 3	開啟「控制台/時鐘、語言和區域/設定時間和日期」				
選項 4	開啟「控制台/時鐘、語言和區域/變更日期、時間或數字格式」				

題目編碼	IF05075	題 型	複選	難易度	易
題 目	在 Windows 7 Professional 中，可由下列哪些地方進行操作「行事曆」的相關設定？				
答 案	23				
選項 1	媒體櫃				
選項 2	工作列				
選項 3	控制台				
選項 4	我的電腦				





題目編碼	IF05076	題 型	複選	難易度	中
題 目	在 Windows 7 Professional 中，建立「Windows 連絡人」資訊的操作方式，下列哪些正確？				
答 案	13				
選項 1	開啟「Windows 連絡人」，執行「匯入」選項				
選項 2	開啟「Windows 連絡人」，執行「匯出」選項				
選項 3	開啟「Windows 連絡人」，執行「新連絡人」選項				
選項 4	開啟「Windows 連絡人」，執行「新連絡人群組」選項				

題目編碼	IF05077	題 型	單選	難易度	易
題 目	在 Windows 7 Professional 中，開啟「Windows 相片檢視器」想依圖片實際大小來檢視圖片，應使用下列哪一項按鈕？				
答 案	1				
選項 1	點選  按鈕				

選項 2	點選  按鈕
選項 3	點選  按鈕
選項 4	點選  按鈕

題目編碼	IF05078	題 型	單選	難易度	易
題 目	在 Windows 7 Professional 中，開啟「Windows 相片檢視器」瀏覽圖片並放大檢視比例後，想要移動圖片以便檢視圖片各個角落的內容，此時，滑鼠游標在視窗中呈現下列哪一種形狀？				
答 案	2				
選項 1	漏斗游標				
選項 2	手掌游標				
選項 3	放大鏡游標				
選項 4	箭頭游標				

題目編碼	IF05079	題 型	單選	難易度	難
題 目	在 Windows 7 Professional 中，希望「朗讀程式」可以用更大聲的語音來閱讀文字內容，可透過下列哪一項操作設定？				
答 案	1				
選項 1	開啟「語言設定」功能，點選「設定音量」選項				
選項 2	開啟「語言設定」功能，點選「設定音調」選項				
選項 3	開啟「語言設定」功能，點選「設定速度」選項				
選項 4	開啟「語言設定」功能，點選「選取語言」選項				

題目編碼	IF05080	題 型	單選	難易度	中
題 目	在 Windows 7 Professional 中，想要放大「放大鏡」檢視比例的功能，應進行下列哪一項操作？				
答 案	1				
選項 1	按[Windows 標誌鍵  ]+[加號]鍵				
選項 2	按[Windows 標誌鍵  ]+[減號]鍵				
選項 3	按[Windows 標誌鍵  ]+[星號]鍵				
選項 4	按[Windows 標誌鍵  ]+[右斜線]鍵				

題目編碼	IF05081	題 型	單選	難易度	難
題 目	在 Windows 7 Professional 中，要設定「螢幕小鍵盤」在按下按鍵時可以發出聲音，應進行下列哪一項操作？				

答案	1
選項 1	點選「選項」按鈕，設定使用滑鼠按鍵音效
選項 2	點選「選項」按鈕，設定啟用數字鍵台
選項 3	點選「選項」按鈕，設定使用搖桿、遊戲台或其他遊戲裝置
選項 4	點選「選項」按鈕，設定使用鍵盤按鍵

題目編碼	IF05082	題 型	複選	難易度	難
題 目	在 Windows 7 Professional 中，「Windows Media Center」提供了下列哪些功能應用項目？				
答 案	1234				
選項 1	圖片+視訊				
選項 2	音樂				
選項 3	影片				
選項 4	電視				

題目編碼	IF05083	題 型	複選	難易度	難
題 目	在 Windows 7 Professional 中，希望捲動「Windows Media Center」裡的數位資訊，應進行下列哪些操作？				
答 案	13				
選項 1	將滑鼠游標移到畫面邊緣				
選項 2	將滑鼠游標移到畫面正中心				
選項 3	使用鍵盤上的向左鍵或向右鍵				
選項 4	使用鍵盤上的向上鍵或向下鍵				

題目編碼	IF05084	題 型	複選	難易度	難
題 目	在 Windows 7 Professional 中，「Windows Media Center」所提供的功能敘述，下列哪些正確？				
答 案	234				
選項 1	觀看有線第四台				
選項 2	觀賞、暫停及錄製電視節目				
選項 3	播放 CD 或 DVD 或音樂媒體櫃中，任何一首歌曲				
選項 4	觀看以相片建立的投影片放映				

題目編碼	IF05085	題 型	複選	難易度	中
題 目	在 Windows 7 Professional 中，以「Windows Media Player」開啟音樂檔案，則音樂媒體櫃會顯示下列哪些資訊？				
答 案	1234				
選項 1	標題				
選項 2	長度				
選項 3	專輯				
選項 4	參與演出者				

題目編碼	IF05086	題 型	複選	難易度	中
------	---------	-----	----	-----	---



題目	在 Windows 7 Professional 中，下列選項哪些為連線到網際網路的必要條件？			
答案	12			
選項 1	網際網路服務提供者 (ISP)			
選項 2	數據機			
選項 3	IP 分享器			
選項 4	路由器			

題目編碼	IF05087	題 型	複選	難易度	難
題目	在 Windows 7 Professional 中，我們可以在「網路和共用中心」處理下列哪些項目？				
答案	1234				
選項 1	設定連線或網路				
選項 2	排解網路連線問題				
選項 3	調整共用媒體櫃和印表機				
選項 4	變更網路設定				

題目編碼	IF05088	題 型	單選	難易度	中
題目	在 Windows 7 Professional 中，若是要將「西曆 (中文)」的月曆類型改變成「中華民國曆」的月曆類型，需要在下列哪一項項目中設定？				
答案	3				
選項 1	日期和時間				
選項 2	系統管理工具				
選項 3	地區及語言				
選項 4	系統				

題目編碼	IF05089	題 型	單選	難易度	易
題目	在 Windows 7 Professional 中，若要變更「音效配置」，可以由下列哪一項操作中設定？				
答案	1				
選項 1	「控制台/聲音」				
選項 2	「控制台/裝置管理員」				
選項 3	「控制台/系統」				
選項 4	「控制台/語音辨識」				

題目編碼	IF05090	題 型	複選	難易度	難
題目	在 Windows 7 Professional 中，關於「聲音」的設定畫面，包含下列哪些功能的設定？				
答案	1234				
選項 1	播放				
選項 2	錄製				
選項 3	音效				
選項 4	通訊				

題目編碼	IF05091	題 型	複選	難易度	中
題目	在 Windows 7 Professional 中，關於「滑鼠/滾輪」的敘述，下列哪些正確？				

答案	14
選項 1	垂直捲動預設為滾動一格時，捲動三行
選項 2	垂直捲動預設為滾動一格時，捲動一頁
選項 3	水平捲動預設為傾斜一次時，捲動一頁
選項 4	水平捲動預設為傾斜一次時，捲動三個字元

題目編碼	IF05092	題 型	單選	難易度	難
題 目	在 Windows 7 Professional 中，若要設定「使用鍵盤控制滑鼠」，應該在下列哪一項設定？				
答 案	3				
選項 1	「控制台/滑鼠」				
選項 2	「控制台/鍵盤」				
選項 3	「控制台/輕鬆存取中心」				
選項 4	「控制台/裝置管理員」				

題目編碼	IF05093	題 型	單選	難易度	難
題 目	在 Windows 7 Professional 中使用注音輸入法時，發生注音按鍵與顯示的注音並不相同時，應該在下列哪一項調整？				
答 案	4				
選項 1	「控制台/鍵盤」				
選項 2	「控制台/系統」				
選項 3	「控制台/裝置管理員」				
選項 4	「控制台/地區及語言」				

題目編碼	IF05094	題 型	單選	難易度	中
題 目	在 Windows 7 Professional 中，如果您想查看已連接到您電腦的所有裝置、使用其中一項裝置，或是疑難排解無法正常運作的裝置，應該由下列哪一項調整設定？				
答 案	2				
選項 1	「控制台/裝置管理員」				
選項 2	「控制台/裝置和印表機」				
選項 3	「控制台/電話和數據機」				
選項 4	「控制台/認證管理員」				

題目編碼	IF05095	題 型	複選	難易度	中
題 目	在 Windows 7 Professional 中，關於「建立或變更媒體櫃」的敘述，下列哪些正確？				
答 案	12				
選項 1	有四個預設媒體櫃				
選項 2	可以自行新增媒體櫃				
選項 3	一個媒體櫃最多可以包括 100 個資料夾				
選項 4	媒體櫃不包含文件				

題目編碼	IF05096	題 型	複選	難易度	中
題 目	在 Windows 7 Professional 中，媒體櫃支援下列哪些儲存媒體類型？				

答案	124
選項 1	位於 C 磁碟機
選項 2	位於外接式硬碟
選項 3	位於卸除式媒體
選項 4	位於家用群組的其他電腦

題目編碼	IF05097	題 型	單選	難易度	中
題 目	在 Windows 7 Professional 中，若要追加安裝 Windows 7 未安裝的選取程式，應進行下列哪一項操作？				
答 案	1				
選項 1	控制台/程式和功能				
選項 2	控制台/復原				
選項 3	控制台/備份與還原				
選項 4	控制台/疑難排解				

題目編碼	IF05098	題 型	複選	難易度	難
題 目	在 Windows 7 Professional 中，關於「變更」程式的敘述，下列哪些正確？				
答 案	13				
選項 1	針對已安裝的程式進行設定				
選項 2	所有安裝程式都可以使用				
選項 3	可以安裝或解除安裝程式的選用功能				
選項 4	變更與修復功能鈕是同一個				

題目編碼	IF05099	題 型	複選	難易度	中
題 目	在 Windows 7 Professional 中，下列哪些是正確的安裝字型方法？				
答 案	134				
選項 1	將字型拖曳到「控制台/字型」中				
選項 2	字型視窗中的「檔案/新增字型」				
選項 3	在要安裝的字型上按一下滑鼠右鍵，然後按一下「安裝」				
選項 4	安裝光碟中的安裝程式				

題目編碼	IF05100	題 型	複選	難易度	中
題 目	在 Windows 7 Professional 中，關於 ClearType 的敘述，下列哪些正確？				
答 案	1234				
選項 1	ClearType 是一種顯示電腦字型的技術				
選項 2	可讓字型看來清晰平滑				
選項 3	ClearType 可使螢幕上的文字更加精細，因此更適合長時間閱讀				
選項 4	可以使用 ClearType 文字調整工具來調整螢幕文字的易讀性				

題目編碼	IF06001	題 型	單選	難易度	易
題 目	在 Google 日曆的使用經驗裡，在一大堆工作約會中，如何快速判斷哪些活動是「重要的」、「不重要的」，可應用下列哪一項功能？				

答案	1
選項 1	活動顏色
選項 2	提醒
選項 3	標籤
選項 4	說明

題目編碼	IF06002	題 型	單選	難易度	易
題 目	Google 日曆中允許使用者可有多個不同的日曆，如學校社團、家庭、藝文活動等，可透過下列哪一項功能建立日曆的分類？				
答 案	1				
選項 1	建立新日曆				
選項 2	建立新活動				
選項 3	建立新工作				
選項 4	建立新事件				





題目編碼	IF06003	題 型	複選	難易度	難
題 目	瀏覽 Google 日曆上所登錄的活動時，提供了下列哪些設定，來檢視日曆資訊？				
答 案	123				
選項 1	天				
選項 2	週				
選項 3	月				
選項 4	季				

題目編碼	IF06004	題 型	單選	難易度	易
題 目	撰寫生活日記時，通常會紀錄日期、地點、說明或甚至附件等欄位，下列哪一項 Google 雲端服務的性質適合應用當作個人的日記簿？				
答 案	1				
選項 1	Google Calendar				
選項 2	Google Document				
選項 3	Gmail				
選項 4	Google Maps				

題目編碼	IF06005	題 型	單選	難易度	易
題 目	下列哪一項功能在 Google 日曆中是專供建立待辦事項清單，方便您隨時掌握大小事項，並追蹤待辦事項是否完成的？				
答 案	1				
選項 1	建立工作				
選項 2	建立活動				
選項 3	建立日曆				
選項 4	建立計劃				

題目編碼	IF06006	題 型	單選	難易度	中
------	---------	-----	----	-----	---

題目	Google 日曆可將活動資訊以下列哪一項格式匯出？
答案	1
選項 1	iCal
選項 2	CSV(MS Outlook)
選項 3	XML
選項 4	TXT

題目編碼	IF06007	題 型	單選	難易度	易
題目	在 Gmail 的工具列介面中，下列哪一項按鈕圖示可將您所勾選的電子郵件回報為「垃圾郵件」？				
答案	1				
選項 1					
選項 2					
選項 3					
選項 4					

題目編碼	IF06008	題 型	複選	難易度	難
題目	Gmail 可依據下列哪些欄位，建立電子郵件篩選器的條件？				
答案	123				
選項 1	寄件者				
選項 2	主旨				
選項 3	有附件				
選項 4	日期				

題目編碼	IF06009	題 型	複選	難易度	難
題目	您可以透過下列哪些存取協定，將郵件從 Gmail 伺服器下載至您的電腦，讓您在離線狀態下也能使用 Microsoft Outlook 或 Thunderbird 等程式來存取郵件？				
答案	12				
選項 1	POP				
選項 2	IMAP				
選項 3	SMTP				
選項 4	HTTP				

題目編碼	IF06010	題 型	單選	難易度	中
題目	下列哪一項搜尋條件是用來幫助小谷能列出目前在他的 Gmail 收件匣中，在 2012 年 7 月份期間，收到主旨含有「面試」的所有電子郵件？				
答案	1				
選項 1	after:2012/6/30 before:2012/8/1 subject:(面試)				
選項 2	after:2012/7/1 before:2012/7/31 subject:(面試)				
選項 3	after:2012/6/30 before:2012/7/31 title:(面試)				
選項 4	after:2012/7/1 before:2012/7/31 title:(面試)				

題目編碼	IF06011	題 型	單選	難易度	中
------	---------	-----	----	-----	---

題目	如果小谷從未刪除郵件，則下列哪一項搜尋條件可幫助小谷統計他的 Gmail 帳號，目前一共有多少封電子郵件內附有 PDF 附件？
答案	1
選項 1	filename:pdf
選項 2	has:pdf
選項 3	attachment:pdf
選項 4	file:pdf



題目編碼	IF06012	題型	單選	難易度	易
題目	Gmail 會根據您使用的瀏覽器類型，提供兩種主要的顯示模式。透過 Gmail 完全支援的瀏覽器登入帳戶時，您將進入下列哪一項模式？				
答案	1				
選項 1	「標準檢視」模式				
選項 2	「基本檢視」模式				
選項 3	「群組檢視」模式				
選項 4	「網頁檢視」模式				

題目編碼	IF06013	題型	單選	難易度	中
題目	日積月累之下，您的 Gmail 收件匣已累積有多年的電子郵件，透過下列哪一項功能可讓您將郵件從「收件匣」中消失，但在需要重新檢視時，仍可搜尋得到郵件？				
答案	1				
選項 1	封存				
選項 2	刪除				
選項 3	標籤				
選項 4	篩選器				

題目編碼	IF06014	題型	複選	難易度	難
題目	小谷的 Gmail 郵件地址為 valleylee@gmail.com，可採用的合法郵件地址別名有下列哪些？				
答案	12				
選項 1	valleylee+pub@gmail.com				
選項 2	valley.lee@gmail.com				
選項 3	valley+lee@gmail.com				
選項 4	valleylee.pub@gmail.com				

題目編碼	IF06015	題型	複選	難易度	難
題目	關於 Gmail 使用特色，下列敘述哪些錯誤？				
答案	12				
選項 1	信件只有在連線狀態下才能檢視				
選項 2	對於同一收件者、同一主旨的往來信件可採用「會話群組」檢視				
選項 3	可用不同顏色的星號來區分郵件的重要性				
選項 4	一封電子郵件可貼上多個標籤				


題目編碼	IF06016	題 型	單選	難易度	易
題 目	下列哪一項 Google 雲端服務整合了與 Microsoft Office 功能性質相同的服務？				
答 案	1				
選項 1	Google Drive				
選項 2	Google Office				
選項 3	Google Analytics				
選項 4	Google Calendar				

題目編碼	IF06017	題 型	複選	難易度	難
題 目	關於 Google 雲端硬碟服務介面，下列敘述哪些正確？				
答 案	12				
選項 1	點選圖示  (上載) 可選擇上傳本機檔案				
選項 2	同時勾選多個檔案進行下載時，這些項目會全部壓縮成一個「.zip」檔案，供使用者下載				
選項 3	檔案清單列表的排序依據有標題、擁有者、上次修改時間三項				
選項 4	點選工具列上的圖示  可用來新增資料夾				

題目編碼	IF06018	題 型	複選	難易度	難
題 目	建立一份新文件時，Google 文件預設的文件名稱為「無標題文件」，下列哪些設定可用來修改文件名稱？				
答 案	12				
選項 1	點選功能表中「檔案/重新命名」，輸入新的文件名稱後，點選「確定」按鈕				
選項 2	點選網頁「左上角」顯示的原始文件名稱，輸入新的文件名稱後，點選「確定」按鈕				
選項 3	點選功能表中「檔案/儲存」，輸入新的文件名稱後，點選「確定」按鈕				
選項 4	點選功能表中「檔案/建立副本」，輸入新的文件名稱後，點選「確定」按鈕				

題目編碼	IF06019	題 型	複選	難易度	難
題 目	Google 試算表雲端服務提供的匯入檔案，支援下列哪些匯入格式？				
答 案	1234				
選項 1	.xlsx				
選項 2	.ods				
選項 3	.csv				
選項 4	.txt				

題目編碼	IF06020	題 型	複選	難易度	難
題 目	將一份 Google 文件設定為共用時，提供下列哪些瀏覽權限，可讓您控管其他人存取您的檔案、資料夾及 Google 文件的方式？				
答 案	123				
選項 1	私人				
選項 2	公開在網路上				
選項 3	擁有連結的使用者				
選項 4	群組				

題目編碼	IF06021	題 型	複選	難易度	難
題 目	小谷擬將一份他所擁有的 Google 簡報通知同事阿山可共同編輯，下列哪些流程可幫助小谷完成此設定？				
答 案	12				
選項 1	點選  後，輸入阿山的電子郵件地址，並設定存取權為「可以編輯」				
選項 2	點選功能表中「檔案/共用」後，輸入阿山的電子郵件地址，並設定存取權為「可以編輯」				
選項 3	點選功能表中「檔案/共用」後，輸入阿山的電子郵件地址，並設定存取權為「可以加上註解」				
選項 4	點選功能表中「檔案/共用」後，輸入阿山的電子郵件地址，並設定存取權為「可以檢視」				

題目編碼	IF06022	題 型	複選	難易度	難
題 目	智慧型手機下載安裝應用程式有下列哪些方式？				
答 案	1234				
選項 1	透過軟體市集 (Market) 由線上下載安裝				
選項 2	透過手機廠商提供的同步管理軟體 (iTunes、HTC Sync、Samsung Kies) 及 USB 線由電腦安裝至手機				
選項 3	手機安裝 AppsInstaller 即可安裝記憶卡內部的安裝檔案				
選項 4	透過 QuickMark 程式開啟相機鏡頭掃描二維條碼下載安裝程式				

題目編碼	IF06023	題 型	單選	難易度	中
題 目	關於 Google 文件提供的複製及貼上功能，下列敘述哪一項錯誤？				
答 案	1				
選項 1	不能將 Microsoft Office 文件中的內容複製後，再貼至 Google 文件中				
選項 2	可使用滑鼠右鍵選單複製 Google 文件內容				
選項 3	可將某一台電腦中複製的 Google 文件內容貼至另一台電腦上				
選項 4	可使用鍵盤快速鍵[Ctrl]+[C]複製 Google 文件內容				

題目編碼	IF06024	題 型	單選	難易度	中
題 目	小谷正使用 Google 文件編輯一份學術文件，其中有一化學式「H <sub>2</sub> O」，選取此化學式後，可按下列哪一項按鍵組合查詢定義？				
答 案	1				
選項 1	[Ctrl]+[Shift]+[Y]鍵				
選項 2	[Ctrl]+[Shift]+[R]鍵				
選項 3	[Ctrl]+[Shift]+[D]鍵				
選項 4	[Ctrl]+[Shift]+[X]鍵				

題目編碼	IF06025	題 型	單選	難易度	易
題 目	在設計一份 Google 表單時，「回答方式」選單提供多種不同的回答方式，對於「複選題」的問題應設定為下列哪一項？				
答 案	1				
選項 1	核取方塊				



選項 2	表格
選項 3	等級
選項 4	可選式清單

題目編碼	IF06026	題 型	單選	難易度	中
題 目	關於網路社群服務使用，下列敘述哪一項正確？				
答 案	2				
選項 1	社群服務皆可設定朋友的瀏覽權限，所以可放心在已經設定權限的網站放上私密的資料與相片				
選項 2	規劃安排一趟國內旅遊，可到各縣市政府觀光局網站、部落格瞭解各種旅遊資訊及配套方案				
選項 3	很多網站都是使用暱稱不是本人的真實姓名，所以可在上面為所欲為或謾罵				
選項 4	學校附近的便當店漲價或用餐不愉快，可在留言板上罵對方是奸商或黑店				

題目編碼	IF06027	題 型	複選	難易度	難
題 目	網路社群又稱為虛擬社群（Virtual Community），其特色為下列哪些？				
答 案	123				
選項 1	表達的自由				
選項 2	多對多的傳播				
選項 3	成員出自於自願的行為				
選項 4	集中式的管理				

題目編碼	IF06028	題 型	單選	難易度	易
題 目	下列哪一項不是即時訊息軟體的功能？				
答 案	4				
選項 1	文字訊息交流				
選項 2	語音交流				
選項 3	視訊交流				
選項 4	圖片修改				

題目編碼	IF06029	題 型	單選	難易度	中
題 目	網路電話其傳輸語音的原理，是透過下列哪一項協定？				
答 案	3				
選項 1	TelIP				
選項 2	VoNET				
選項 3	VoIP				
選項 4	TelNet				

題目編碼	IF06030	題 型	複選	難易度	難
題 目	網路行銷及網拍產品的特質為下列哪些？				
答 案	14				
選項 1	網站環境具有親和力				
選項 2	可靠度高				
選項 3	產品數位化				

選項 4	產品價位較低
------	--------

題目編碼	IF06031	題 型	複選	難易度	難
題 目	網路社群的本質為下列哪些？				
答 案	134				
選項 1	滿足表演欲望				
選項 2	方便人肉搜索				
選項 3	分享資訊				
選項 4	透過朋友的關係交到新朋友				

題目編碼	IF06032	題 型	單選	難易度	中
題 目	強調互動的 Web2.0 社交網路最主要的目標為下列哪一項？				
答 案	3				
選項 1	增加 3C 產品的販售量				
選項 2	培養相關人才				
選項 3	增加創作與分享的人數				
選項 4	降低網路使用門檻				

題目編碼	IF06033	題 型	複選	難易度	難
題 目	視訊直播是近來興起的社交應用，其主流應用為下列哪些？				
答 案	13				
選項 1	線上即時教學課程				
選項 2	歌唱舞蹈表演				
選項 3	轉播各類精彩賽事				
選項 4	分享遊戲攻略				

題目編碼	IF06034	題 型	複選	難易度	難
題 目	網路社群與即時通訊軟體的主要差異為下列哪些？				
答 案	134				
選項 1	即時通訊軟體較為私密，不知道雙方帳戶較難產生聯繫				
選項 2	網路社群可以作為電話之外即時的聯絡工具				
選項 3	網路社群較為公開，只要搜尋到對方資訊，都可以加為朋友				
選項 4	社群提供粉絲們關注名人的管道				

題目編碼	IF06035	題 型	單選	難易度	中
題 目	在 OSI 架構中，即時通訊軟體屬於下列哪一層架構？				
答 案	3				
選項 1	傳輸層				
選項 2	網路層				
選項 3	應用層				
選項 4	實體層				

題目編碼	IF06036	題 型	複選	難易度	難
題 目	視訊會議是一般即時通訊軟體進階應用，與傳統的即時通訊的差別為下列哪些？				
答 案	1234				
選項 1	廣播式的資料傳輸				
選項 2	著重於多方通話				
選項 3	更嚴格的品質考驗				
選項 4	即時的簡報影像傳輸				

題目編碼	IF06037	題 型	複選	難易度	難
題 目	網際網路的資訊傳輸滲透力及傳播力甚強，下列哪些為使用網路時必須謹慎防範的問題？				
答 案	1234				
選項 1	言論問題				
選項 2	版權問題				
選項 3	隱私權問題				
選項 4	著作權問題				

題目編碼	IF06038	題 型	單選	難易度	易
題 目	下列哪一項不屬於網路社群服務？				
答 案	4				
選項 1	Facebook				
選項 2	Twitter				
選項 3	Plurk				
選項 4	大學入學考試中心網站				

題目編碼	IF06039	題 型	單選	難易度	易
題 目	下列哪一項網路社群服務提供使用者針對喜歡的網頁或留言按讚（Like）的功能？				
答 案	1				
選項 1	Facebook				
選項 2	Twitter				
選項 3	Plurk				
選項 4	Google+				

題目編碼	IF06040	題 型	複選	難易度	難
題 目	下列哪些網路社群服務又稱為微網誌（Microblog）？				
答 案	124				
選項 1	Twitter				
選項 2	新浪微博				
選項 3	Mobile01				
選項 4	Plurk				

題目編碼	IF06041	題 型	複選	難易度	難
題 目	下列哪些線上即時通訊軟體或服務有提供視訊通話功能？				

答案	24
選項 1	LINE
選項 2	Skype
選項 3	WhatsApp
選項 4	Facebook

題目編碼	IF06042	題 型	單選	難易度	中
題 目	下列哪一項網路社群服務採用實名制，不定時刪除未以真實個人資料註冊使用的使用者？				
答 案	1				
選項 1	Facebook				
選項 2	Twitter				
選項 3	批踢踢實業坊（PTT）				
選項 4	無名小站網誌				

題目編碼	IF06043	題 型	單選	難易度	易
題 目	下列哪一項不是 Facebook 提供的功能？				
答 案	4				
選項 1	網誌				
選項 2	塗鴉牆				
選項 3	相片分享				
選項 4	書籤				

題目編碼	IF06044	題 型	單選	難易度	中
題 目	下列哪一項符號為使用 Twitter 推文時，在一個單詞、片語或話題前加上此符號，如果當這個單詞、片語或話題被提及的頻率遠遠高於其他時，就會成為一個熱詞而進入趨勢列表？				
答 案	4				
選項 1	%				
選項 2	&				
選項 3	*				
選項 4	#				

題目編碼	IF06045	題 型	單選	難易度	易
題 目	即時通訊軟體 Skype 本身的原始功能中，不具備下列哪一項功能？				
答 案	4				
選項 1	即時訊息				
選項 2	視訊通話				
選項 3	撥打電話				
選項 4	遊戲				

題目編碼	IF06046	題 型	單選	難易度	易
題 目	Karma 是下列哪一項社群網站的熱度指標？				
答 案	1				

選項 1	Plurk
選項 2	FashionGuide
選項 3	愛情公寓 (i-Part)
選項 4	Facebook

題目編碼	IF06047	題 型	複選	難易度	難
題 目	下列哪些屬於 Facebook 所提供的功能？				
答 案	234				
選項 1	Retweet				
選項 2	打卡				
選項 3	相片標籤				
選項 4	讚 (Like)				

題目編碼	IF06048	題 型	單選	難易度	中
題 目	在 Facebook 中啟用帳號保安的安全瀏覽功能後，Facebook 會盡可能於瀏覽資訊時使用下列哪一項協定連線？				
答 案	2				
選項 1	FTP				
選項 2	HTTPS				
選項 3	RMI				
選項 4	SSH				

題目編碼	IF06049	題 型	單選	難易度	易
題 目	瀏覽社群網站或使用即時通訊軟體過程中，下列哪一項使用方式可能造成電腦中毒？				
答 案	1				
選項 1	點擊連結				
選項 2	分享相片				
選項 3	打卡				
選項 4	更新個人資訊				

題目編碼	IF06050	題 型	單選	難易度	易
題 目	社交圈為下列哪一項社群網站的功能？				
答 案	3				
選項 1	Facebook				
選項 2	Twitter				
選項 3	Google+				
選項 4	Plurk				

題目編碼	IF06051	題 型	複選	難易度	難
題 目	想要選用雲端服務供應商 (Cloud Service Provider, CSP 或稱 Cloud Service Vendor, CSV) 的虛擬主機，建立專屬的應用伺服器主機時，可選擇下列哪些雲端服務？				
答 案	13				

選項 1	Amazon EC2
選項 2	Google App Engine
選項 3	Windows Azure
選項 4	Dropbox

題目編碼	IF06052	題 型	單選	難易度	中
題 目	下列哪一項不是美國國家標準與技術研究院（NIST）所定義雲端運算的五項基本特性？				
答 案	2				
選項 1	隨選的自助服務（On-demand Self-service）				
選項 2	安全的網路存取（Secure Network Access）				
選項 3	資源池（Resource Pooling）				
選項 4	迅速重新部署的靈活性（Rapid Elasticity）				

題目編碼	IF06053	題 型	複選	難易度	難
題 目	下列哪些為 Microsoft 開發 Windows Azure 服務，所提供的虛擬化服務類型？				
答 案	23				
選項 1	SaaS（Software as a Service）				
選項 2	PaaS（Platform as a Service）				
選項 3	IaaS（Infrastructure as a Service）				
選項 4	StaaS（Storage as a Service）				

題目編碼	IF06054	題 型	單選	難易度	中
題 目	在電子郵件傳遞過程中，下列哪一項 DNS 中的資源紀錄類型的功能是標示郵件伺服器主機？				
答 案	3				
選項 1	A 主機紀錄				
選項 2	CNAME 別名紀錄				
選項 3	MX 郵件交換紀錄				
選項 4	PTR 指標紀錄				

題目編碼	IF06055	題 型	單選	難易度	易
題 目	根據美國國家標準與技術研究院（NIST）針對雲端運算定義，提出的四種部署模式中，其下列哪一項模式的運作方式為雲端的基礎建設屬於某個組織，由組織進行雲端服務的販售？				
答 案	1				
選項 1	公有雲（Public Cloud）				
選項 2	私有雲（Private Cloud）				
選項 3	混合雲（Hybrid Cloud）				
選項 4	社群雲（Community Cloud）				

題目編碼	IF06056	題 型	複選	難易度	難
題 目	下列哪些社群網站有提供網路相本的服務？				
答 案	13				
選項 1	Flickr				

選項 2	Plurk
選項 3	Picasa
選項 4	Twitter

題目編碼	IF06057	題 型	單選	難易度	中
題 目	使用 SSL (Secure Sockets Layer) 的方式，與網站進行安全性連線時，使用下列哪一項資訊進行網站身分識別？				
答 案	4				
選項 1	電腦名稱				
選項 2	IP 位址				
選項 3	使用者帳號				
選項 4	數位憑證 (Digital Certificate)				

題目編碼	IF06058	題 型	複選	難易度	難
題 目	下列哪些網路技術可用來作為企業內部網路 (Intranet) 連線使用？				
答 案	34				
選項 1	非對稱數位用戶線路 (ADSL)				
選項 2	纜線數據機 (Cable Modem)				
選項 3	乙太網路 (Ethernet)				
選項 4	租用專線 (Lease Line)				

題目編碼	IF06059	題 型	單選	難易度	中
題 目	下列哪一項標準協定讓電子郵件，可以傳輸圖像及聲音等非文字的訊息？				
答 案	3				
選項 1	POP3 (Post Office Protocol 3)				
選項 2	IMAP (Internet Message Access Protocol)				
選項 3	MIME (Multipurpose Internet Mail Extension)				
選項 4	SMTP (Simple Mail Transfer Protocol)				

題目編碼	IF06060	題 型	複選	難易度	難
題 目	下列哪些通訊協定為用來加密電子郵件？				
答 案	34				
選項 1	SMTP (Simple Mail Transfer Protocol)				
選項 2	HTTPS (Hypertext Transfer Protocol Secure)				
選項 3	S/MIME (Secure/Multipurpose Internet Mail Extension)				
選項 4	PGP (Pretty Good Privacy)				

題目編碼	IF06061	題 型	單選	難易度	中
題 目	利用 DNS 的反查服務來確認郵件伺服器是否為合法的主機，此為垃圾郵件 (SPAM Mail) 的防護機制之一，其使用下列哪一項紀錄類型？				
答 案	4				
選項 1	A 主機紀錄				

選項 2	CNAME 別名紀錄
選項 3	MX 郵件交換紀錄
選項 4	PTR 指標紀錄

題目編碼	IF06062	題 型	複選	難易度	難
題 目	下列哪些檔案傳輸軟體使用 P2P (Peer-to-Peer) 的傳輸技術？				
答 案	23				
選項 1	Filezilla				
選項 2	BitTorrent				
選項 3	eMule				
選項 4	Dropbox				

題目編碼	IF06063	題 型	單選	難易度	中
題 目	目前網路上知名的語音通訊軟體 Skype，使用下列哪一項技術透過網際網路傳遞語音的封包？				
答 案	2				
選項 1	PPPoE (Point-to-Point Protocol over Ethernet)				
選項 2	VoIP (Voice over Internet Protocol)				
選項 3	IPSec (Internet Protocol Security)				
選項 4	VPN (Virtual Private Network)				

題目編碼	IF06064	題 型	單選	難易度	易
題 目	下列哪一項虛擬化的平台屬於開放原始碼的軟體？				
答 案	3				
選項 1	VMWare ESXi				
選項 2	Microsoft Hyper-V				
選項 3	Xen Hypervisor				
選項 4	Virtual PC				

題目編碼	IF06065	題 型	單選	難易度	易
題 目	下列哪一項服務平台同時提供了社群服務、雲端檔案儲存、日曆、影音分享、電子郵件及部落格等整合服務？				
答 案	2				
選項 1	Facebook				
選項 2	Google				
選項 3	Microsoft				
選項 4	Yahoo!				

題目編碼	IF06066	題 型	單選	難易度	中
題 目	雲端運算目前的特色不包含下列哪一項？				
答 案	2				
選項 1	高可擴充性				
選項 2	高安全性				



選項 3	隨需服務
選項 4	高延展性

題目編碼	IF06067	題 型	複選	難易度	難
題 目	雲端運算的應用通常被區分為下列哪些？				
答 案	234				
選項 1	CaaS (Content as a Service)				
選項 2	SaaS (Software as a Service)				
選項 3	PaaS (Platform as a Service)				
選項 4	IaaS (Infrastructure as a Service)				

題目編碼	IF06068	題 型	單選	難易度	中
題 目	下列哪一項為雲端軟體即服務 (Software as a Service, SaaS) ？				
答 案	3				
選項 1	VMware vSphere 4.0				
選項 2	IBM Blue Cloud				
選項 3	Facebook				
選項 4	Amazon S3				

題目編碼	IF06069	題 型	複選	難易度	難
題 目	下列哪些為雲端平台即服務 (Platform as a Service, PaaS) ？				
答 案	234				
選項 1	Facebook				
選項 2	Google App Engine				
選項 3	YAP				
選項 4	Microsoft Azure				

題目編碼	IF06070	題 型	複選	難易度	難
題 目	下列哪些為雲端基礎設施即服務 (Infrastructure as a Service, IaaS) ？				
答 案	234				
選項 1	Google Engine				
選項 2	Amazon EC2				
選項 3	HiCloud				
選項 4	Flexiscale				

題目編碼	IF06071	題 型	單選	難易度	中
題 目	雲端運算在技術層面，下列敘述哪些正確：A 晶片和硬體技術的飛速發展、B 虛擬化技術成熟、C 雲端運算可以輕鬆實現不同設備間的資料共享、D 雲端運算使用特定的終端裝置，以保證安全、E 雲端運算不限制使用地點？				
答 案	3				
選項 1	ABCD				
選項 2	ABDE				

選項 3	ABCE
選項 4	BCDE

題目編碼	IF06072	題 型	單選	難易度	中
題 目	SLA (Service Level Agreement) 是意旨下列哪一項協定？				
答 案	4				
選項 1	軟體層級協定				
選項 2	服務連結協定				
選項 3	軟體連結協定				
選項 4	服務層級協定				

題目編碼	IF06073	題 型	單選	難易度	中
題 目	Google 提供的 Google App Engine (GAE) 屬於下列哪一項雲端服務？				
答 案	4				
選項 1	SaaS (Software as a Service)				
選項 2	IaaS (Infrastructure as a Service)				
選項 3	CaaS (Content as a Service)				
選項 4	PaaS (Platform as a Service)				

題目編碼	IF06074	題 型	單選	難易度	中
題 目	Google 的 MapReduce 雲端運算所採用的儲存檔案系統為下列哪一項？				
答 案	1				
選項 1	GFS				
選項 2	HDFS				
選項 3	SQL				
選項 4	SQLITE				

題目編碼	IF06075	題 型	單選	難易度	易
題 目	Windows Azure 為 Microsoft 開發的第一個雲端作業系統，其基於下列哪一項軟體開發而成？				
答 案	2				
選項 1	Windows Server 2005				
選項 2	Windows Server 2008				
選項 3	Windows Server 2010				
選項 4	Windows Server 2012				

題目編碼	IF06076	題 型	單選	難易度	中
題 目	IPv6 是第六版的 IP 網路協定規範，下列哪一項 IP 位址的表示法不符合 IPv6 位址的規定？				
答 案	4				
選項 1	FE80 : 403A : A2E8 : 0130 : 7879 : 235E : FFAC : AC16				
選項 2	403A : EF4 : : A23				
選項 3	403A : : EF4 : A23				
選項 4	FE23 : : AC12 : 2781 : : AC16				

題目編碼	IF06077	題 型	單選	難易度	易
題 目	網際網路早期的發展跟下列哪一項網路有關？				
答 案	2				
選項 1	TANET				
選項 2	ARPANET				
選項 3	BITNET				
選項 4	USENET				

題目編碼	IF06078	題 型	單選	難易度	易
題 目	以網域名稱的通用規範可判斷，下列哪一項最可能是位於美國的教育機構使用的網址？				
答 案	1				
選項 1	www.cs.iastate.edu				
選項 2	www.stanford.edu.us				
選項 3	www.cs.iastate.edu.usa				
選項 4	www.ncu.edu.tw				

題目編碼	IF06079	題 型	單選	難易度	易
題 目	透過網際網路瀏覽視訊檔案往往因檔案過大，造成瀏覽時的等待或網路負載增加，如希望由網際網路進行現場視訊直播（Live Broadcast），最好採用下列哪一項技術？				
答 案	2				
選項 1	直接下載播放（Downloading）				
選項 2	視訊串流播放（Video Streaming）				
選項 3	漸進式的下載播放（Progressive Downloading）				
選項 4	使用 ADSL 直接下載播放				

題目編碼	IF06080	題 型	單選	難易度	易
題 目	網際網路發展過程中陸續出現了 CSNET、ARPANET、NSFNET、WWW 等 4 種網路或服務，假如將其出現的先後順序由先到後排列，下列哪一項組合順序正確？				
答 案	2				
選項 1	CSNET→ARPANET→NSFNET→WWW				
選項 2	ARPANET→CSNET→NSFNET→WWW				
選項 3	WWW→ARPANET→NSFNET→CSNET				
選項 4	CSNET→ARPANET→NSFNET→WWW				

題目編碼	IF06081	題 型	單選	難易度	中
題 目	全球的網際網路 IP 位址分配以及網域名稱（Domain Name）的管理工作，目前由下列哪一項機構負責？				
答 案	4				
選項 1	IEEE				
選項 2	ISO				
選項 3	NSF				

選項 4	ICANN
------	-------

題目編碼	IF06082	題 型	單選	難易度	中
題 目	關於「網域名稱轉址（URL Redirection）」技術，下列敘述哪一項錯誤？				
答 案	3				
選項 1	在使用者瀏覽某個網址時，將其導向另一個網址				
選項 2	在使用者輸入錯誤的網址時，試著將其導向正確的網址				
選項 3	讓使用者以更快的速度連上入口網站				
選項 4	將很長的網址轉成短的網址				

題目編碼	IF06083	題 型	複選	難易度	難
題 目	下列哪些類型的網域名稱屬於「泛用型」的網域名稱，依法登記的國內外公司、商號、法人或自然人均可申請？				
答 案	13				
選項 1	中文.tw				
選項 2	net.tw				
選項 3	johnwang.tw				
選項 4	org.tw				

題目編碼	IF06084	題 型	複選	難易度	難
題 目	下列哪些技術是目前無線寬頻通訊的主流，將會形成行動無線網際網路應用及 4G 通訊的基礎設施？				
答 案	14				
選項 1	WiMAX（Worldwide Interoperability for Microwave Access）				
選項 2	IEEE 802.11a				
選項 3	RFID（Radio Frequency Identification）				
選項 4	LTE（Long Term Evolution）				

題目編碼	IF06085	題 型	單選	難易度	易
題 目	一般家裡透過電話線上網使用的無線寬頻分享器就像無線基地台一樣，鄰近的電腦都可透過無線通訊的介面偵測到，下列哪一項能在技術上防止別人透過自己家中的無線寬頻分享器上網？				
答 案	3				
選項 1	將無線寬頻分享器放在家裡比較不會洩漏電磁波的地方				
選項 2	調整無線寬頻分享器天線的指向				
選項 3	將無線寬頻分享器設定成要求提供網路安全性金鑰才能連線				
選項 4	使用無線寬頻分享器時將門窗關閉				

題目編碼	IF06086	題 型	單選	難易度	易
題 目	網際網路透過 TCP/IP 共通協定連接很多實體網路，這些網路在互通時可能需要進行協定的轉換、訊號的轉換、通訊速率的調整及管理工作協議，傳統上這些功能屬於下列哪一項裝置？				
答 案	2				
選項 1	頻寬分享器				

選項 2	閘道器 (Gateway)
選項 3	基地台
選項 4	集線器 (Hub)

題目編碼	IF06087	題 型	單選	難易度	中
題 目	一般的行動裝置連接網際網路所使用的網路介面跟透過桌上型電腦使用，最主要的差異為下列哪一項？				
答 案	3				
選項 1	行動裝置的網路介面所提供的速率，高於桌上型電腦的網路介面所提供的速率				
選項 2	行動裝置的網路介面所提供的通訊品質，優於桌上型電腦的網路介面所提供的通訊品質				
選項 3	行動裝置通常使用無線的網路介面，桌上型電腦通常使用有線的網路介面				
選項 4	行動裝置網路介面的通訊費用，遠低於桌上型電腦網路介面的通訊費用				

題目編碼	IF06088	題 型	複選	難易度	難
題 目	家裡有多台電腦需要上網，假如使用 ADSL 上網方式，可透過下列哪些裝置與方法讓多台電腦都能同時上網？				
答 案	34				
選項 1	在 ADSL 數據機內部加裝強波器				
選項 2	以無線頻寬分享器取代 ADSL 數據機，連接電話的介面，以無線基地台的角色來分享網路連線				
選項 3	以無線頻寬分享器連接 ADSL 數據機上提供的網路插孔，以無線基地台的角色來分享網路連線				
選項 4	以一般的頻寬分享器連接 ADSL 數據機上提供的網路插孔，以類似集線器 (Hub) 的角色來分享網路連線				

題目編碼	IF06089	題 型	單選	難易度	中
題 目	在無線區域網路 IEEE 802.11 的標準中，下列哪一個協定標準所支援的資料傳輸速率最高？				
答 案	3				
選項 1	802.11b				
選項 2	802.11a				
選項 3	802.11n				
選項 4	802.11g				

題目編碼	IF06090	題 型	單選	難易度	中
題 目	網際網路所使用的 IP 位址為因應實務上的需求做了分級，以 IPv4 而言，下列哪一個等級所涵蓋的 IP 位址數目最多？				
答 案	1				
選項 1	Class A				
選項 2	Class B				
選項 3	Class C				
選項 4	Class D				

題目編碼	IF06091	題 型	單選	難易度	中
題 目	關於動態主機設定協定 (Dynamic Host Configuration Protocol, DHCP)，下列敘述哪一項錯誤？				

答案	1
選項 1	屬於 OSI 模型中網路層（Network Layer）的協定
選項 2	可以讓網路上的電腦自動取得 IP 位址與相關的參數
選項 3	可動態地分配 IP 位址，減少網路管理人員的工作負擔
選項 4	伺服器能接受網路節點的請求，動態地分配 IP 位址

題目編碼	IF06092	題 型	複選	難易度	難
題 目	關於網際網路（Internet），下列敘述哪些正確？				
答 案	14				
選項 1	是一個廣域的網路				
選項 2	是一個區域性的網路				
選項 3	約在西元 1920 年開始發展				
選項 4	ARPANET 可說是 Internet 的始祖				

題目編碼	IF06093	題 型	單選	難易度	中
題 目	關於 TANet，下列敘述哪一項正確？				
答 案	2				
選項 1	政府機關所使用的內部網路				
選項 2	提供給教育與研究單位使用的學術網路				
選項 3	民間公司所建立的商業網路				
選項 4	政府提供給所有人民自由使用的公用網路				

題目編碼	IF06094	題 型	單選	難易度	易
題 目	著名的全球資訊網（World Wide Web, WWW）所採用的主要協定為下列哪一項？				
答 案	2				
選項 1	FTP（File Transfer Protocol）				
選項 2	HTTP（Hypertext Transfer Protocol）				
選項 3	SMTP（Simple Mail Transfer Protocol）				
選項 4	RTP（Real-time Transport Protocol）				

題目編碼	IF06095	題 型	複選	難易度	難
題 目	關於網域名稱系統（Domain Name System, DNS），下列敘述哪些正確？				
答 案	34				
選項 1	DNS 伺服器可以透過網域名稱的解析得到對應的 MAC 位址				
選項 2	每一台 DNS 伺服器都記錄了網際網路上所有主機名稱與 IP 位址之間的對應				
選項 3	假如世界上所有的 DNS 伺服器都當機，則網際網路的運作將完全癱瘓				
選項 4	DNS 採用分散式以及階層式的網域名稱管理架構，DNS 伺服器查不到的主機 IP 資訊可向其上層的 DNS 伺服器請求查詢				

題目編碼	IF06096	題 型	複選	難易度	難
題 目	關於網域名稱「www.ncu.edu.tw」，下列敘述哪些正確？				
答 案	13				

選項 1	www.ncu.edu.tw 中的「tw」代表頂級網域名稱
選項 2	www.ncu.edu.tw 中的「www」代表連線使用的協定名稱
選項 3	www.ncu.edu.tw 中的「edu」代表該網址屬於教育機構
選項 4	www.ncu.edu.tw 中的「ncu」代表網域所在地理區域的名稱

題目編碼	IF06097	題 型	複選	難易度	難
題 目	關於 IP 位址，下列敘述哪些正確？				
答 案	123				
選項 1	現行的 IPv4 中每一組 IP 以四組用句點分開的數字表示				
選項 2	沒有 IP 位址的電腦無法連上網際網路				
選項 3	如果自行任意指定電腦的 IP 位址，可能造成無法正常上網				
選項 4	IP 位址中每一組數字的範圍是由 0 至 256				

題目編碼	IF06098	題 型	單選	難易度	易
題 目	假如某 ISP 業者聲稱所提供的上網速率可達到「下行 10M/上行 2M」，則使用時真正得到實際的速率最有可能為下列哪一項？				
答 案	2				
選項 1	下行 2M/上行 10M				
選項 2	下行 2M/上行 0.4M				
選項 3	下行 12M/上行 3M				
選項 4	下行 10M/上行 3M				

題目編碼	IF06099	題 型	單選	難易度	中
題 目	下列哪一項網路協定的主要功能是進行 IP 位址與 MAC 位址的轉換，可將 IP 位址轉換成網路節點的實體位址（Physical Address）？				
答 案	2				
選項 1	TCP（Transmission Control Protocol）				
選項 2	ARP（Address Resolution Protocol）				
選項 3	UDP（User Datagram Protocol）				
選項 4	DHCP（Dynamic Host Configuration Protocol）				

題目編碼	IF06100	題 型	單選	難易度	易
題 目	下列哪一項行動無線通訊上網的資料傳輸速率最高？				
答 案	4				
選項 1	2.5G				
選項 2	2.75G				
選項 3	3G				
選項 4	3.75G				

題目編碼	IF07001	題 型	複選	難易度	易
題 目	下列哪些屬於電子商務架構中的基礎建設（Infrastructure）？				
答 案	1234				

選項 1	一般企業服務
選項 2	訊息與資訊傳送技術
選項 3	網路與媒體技術
選項 4	使用介面技術

題目編碼	IF07002	題 型	複選	難易度	易
題 目	下列哪些項目，屬於網路商業模式（Internet Business Model）之一？				
答 案	1234				
選項 1	比價				
選項 2	群集購買				
選項 3	電子標售系統				
選項 4	線上拍賣				

題目編碼	IF07003	題 型	單選	難易度	易
題 目	電子商務交易中，組成份子為企業與其相關夥伴，是指下列哪一項型態？				
答 案	1				
選項 1	B2B				
選項 2	B2C				
選項 3	C2C				
選項 4	P2P				

題目編碼	IF07004	題 型	複選	難易度	中
題 目	關於 EC，目前並無一致性的定義，下列敘述哪些正確？				
答 案	1234				
選項 1	應用科技來達成企業交易及工作流程的自動化				
選項 2	為因應公司、消費者、及管理階層需求的工具，以便降低成本、提高品質並加速服務				
選項 3	提供在網際網路上產品與資訊買賣以及其它線上服務的能力				
選項 4	透過電話及電腦網路等通訊媒介來傳送資訊、產品、服務及付款				

題目編碼	IF07005	題 型	複選	難易度	易
題 目	關於電子交易應用服務層面的敘述，下列哪些錯誤？				
答 案	13				
選項 1	企業架設自有網站以便利顧客選購，這是屬於 C2C 模式				
選項 2	企業直接在網路上與另一企業進行交易活動，這是屬於 B2B 模式				
選項 3	顧客利用網路公司如雅虎、蕃薯藤提供的網站直接在網路上與另一顧客進行交易，這是屬於 B2C 模式				
選項 4	顧客個別利用網站傳輸與代理廠商溝通，提出產品議價，這是屬於 C2B 模式				

題目編碼	IF07006	題 型	單選	難易度	易
題 目	一般來說，佔整個電子商務市場中交易金額最高的是下列哪一項？				
答 案	1				
選項 1	B2B				



選項 2	B2C
選項 3	C2C
選項 4	C2B

題目編碼	IF07007	題 型	複選	難易度	中
題 目	企業一旦發展電子商務後，可能會使得組織形成下列哪些變化？				
答 案	12				
選項 1	組織扁平化				
選項 2	組織虛擬化				
選項 3	組織豐富化				
選項 4	組織傳統化				

題目編碼	IF07008	題 型	單選	難易度	易
題 目	下列哪一項是屬於 B2B 行動商務的應用領域？				
答 案	2				
選項 1	行動銀行				
選項 2	行動應用軟體租賃服務業				
選項 3	行動學習				
選項 4	無線網路廣告				

題目編碼	IF07009	題 型	單選	難易度	中
題 目	在商務交易的模式中，由賣方事先設定好的產品和服務之價格的是屬於下列哪一項？				
答 案	4				
選項 1	需求整合式價格				
選項 2	逆拍賣式價格				
選項 3	拍賣式價格				
選項 4	目錄式價格				

題目編碼	IF07010	題 型	單選	難易度	中
題 目	WAP 所使用的語言是下列哪一項？				
答 案	2				
選項 1	HTML				
選項 2	WML				
選項 3	MML				
選項 4	XML				

題目編碼	IF07011	題 型	單選	難易度	難
題 目	在商業自動化的範疇中，「商品由製造商、物流中心、零售商到消費者的所有權轉移過程」，指的是下列哪一項？				
答 案	3				
選項 1	物流				
選項 2	資訊流				

選項 3	商流
選項 4	金流

題目編碼	IF07012	題 型	單選	難易度	難
題 目	關於商業自動化的「一次輸入」的流程，下列哪一項正確？				
答 案	1				
選項 1	條碼掃描→POS→EOS→VAN→EDI→物流中心管理系統				
選項 2	條碼掃描→EOS→POS→VAN→EDI→物流中心管理系統				
選項 3	條碼掃描→EDI→POS→EOS→VAN→物流中心管理系統				
選項 4	條碼掃描→VAN→EOS→POS→EDI→物流中心管理系統				

題目編碼	IF07013	題 型	單選	難易度	中
題 目	關於 EDI 電子交換系統之架構，由下到上的層次，下列哪一項正確？				
答 案	3				
選項 1	標準層次→傳輸規定→應用層次→資訊傳送規定				
選項 2	傳輸規定→標準層次→資訊傳送規定→應用層次				
選項 3	資訊傳送規定→傳輸規定→標準層次→應用層次				
選項 4	應用層次→傳輸規定→標準層次→資訊傳送規定				

題目編碼	IF07014	題 型	單選	難易度	易
題 目	關於 Internet、Intranet 及 Extranet 的敘述，下列哪一項錯誤？				
答 案	4				
選項 1	Internet 是透過公眾網路，網網相連的技術或概念				
選項 2	Intranet 是企業將 Internet 的技術，如 Java 應用在公司內部事務的電腦化				
選項 3	Extranet 是運用 Internet 平台及其技術與公司的供應商等分享資訊的概念				
選項 4	Intranet 是運用 Internet 平台及其技術與公司的供應商等分享資訊的概念				

題目編碼	IF07015	題 型	單選	難易度	易
題 目	Commerce One 是屬於下列哪一項形式的網路交易社群？				
答 案	1				
選項 1	B2B				
選項 2	B2C				
選項 3	C2C				
選項 4	B2E				

題目編碼	IF07016	題 型	單選	難易度	中
題 目	關於無線通訊技術 GPRS 的敘述，下列哪一項正確？				
答 案	3				
選項 1	優點是以時計價				
選項 2	一種整合電路交換的無線通訊技術				
選項 3	一種整合分封交換的無線通訊技術				
選項 4	上網速度與一般數據機相同				

題目編碼	IF07017	題 型	單選	難易度	中
題 目	關於 WAP 的運作模式，下列哪一項錯誤？				
答 案	4				
選項 1	須具備三大元件：客戶端 (Client)、無線應用協定閘道 (WAP Gateway) 和伺服器 (Origin Server)				
選項 2	目的為 WWW (HTTP 與 TCP/IP) 協定及網頁文件內容的轉換				
選項 3	若要使用 WAP 網頁，需要額外安裝 MIME				
選項 4	須具備兩大元件：客戶端 (Client) 與伺服器 (Origin Server)				

題目編碼	IF07018	題 型	單選	難易度	易
題 目	買賣雙方利用電子資料交換 (Electronic Data Interchange, EDI) 及增值網路 (Value Added Network, VAN) 等技術，將其運用並擴展而進行商業交易活動之方式，稱為下列哪一項？				
答 案	4				
選項 1	企業再造工程				
選項 2	顧客關係管理				
選項 3	企業資源規劃				
選項 4	電子商務				

題目編碼	IF07019	題 型	單選	難易度	易
題 目	下列哪一項不屬於電子商務所具有之特性？				
答 案	2				
選項 1	互動性				
選項 2	封閉性				
選項 3	即時性				
選項 4	中介性				

題目編碼	IF07020	題 型	單選	難易度	中
題 目	傳統零售通路商在網路上設立網站做生意，此類零售商被稱為下列哪一項？				
答 案	2				
選項 1	Bricks and Mortar				
選項 2	Bricks and Clicks				
選項 3	Pure.com				
選項 4	E-marketing				

題目編碼	IF07021	題 型	單選	難易度	易
題 目	下列哪一項不屬於企業對企業 (B2B) 進行電子商務之利益？				
答 案	3				
選項 1	企業導入 B2B 電子商務後，可有效降低採購流程成本				
選項 2	可經由此方式，接觸新客戶且獲取新的利益				
選項 3	企業導入 B2B 電子商務後，需準備較多的存貨以滿足顧客需求				
選項 4	透過 B2B 電子商務，可使採購流程自動化並提供企業相關採購指引				

題目編碼	IF07022	題 型	單選	難易度	易
題 目	將傳統拍賣移轉到電子作業方式上進行，其標價機制就本質上來說是相同的，此種較節省成本、提高效率之模式稱為下列哪一項？				
答 案	3				
選項 1	電子佈告欄				
選項 2	網路合購				
選項 3	網路拍賣				
選項 4	E-mail 行銷				

題目編碼	IF07023	題 型	單選	難易度	中
題 目	下列敘述哪一項錯誤？				
答 案	2				
選項 1	藍芽 (Bluetooth) 是一種無線技術，提供數位式產品近距離資料與聲音傳輸				
選項 2	藍芽 (Bluetooth) 技術所使用的特有專屬無線電頻率規格，僅適合在某些特定地點使用				
選項 3	無線應用協定 (WAP) 是一組被設計用來讓不同種類的無線設備，可以使用網路的通訊協定				
選項 4	無線分碼多重存取 (Wireless Code Division Multiple Access, WCDMA) 是一種目前用在數位式無線通訊的技術				

題目編碼	IF07024	題 型	單選	難易度	難
題 目	就 B2B 電子商務的四個發展階段：a.基礎電子商務階段 b.電子交易市集階段 c.電子資料交換網路階段 d.協同商務階段，依照早期到現今的順序進行排列，下列哪一項正確？				
答 案	3				
選項 1	abcd				
選項 2	acbd				
選項 3	cabd				
選項 4	cbad				

題目編碼	IF07025	題 型	複選	難易度	易
題 目	C2C 電子商務主要的任務為下列哪些？				
答 案	23				
選項 1	傳統企業可用來建立與其它企業間的商業連結模式				
選項 2	例如線上拍賣程式 eBay 即屬於其中著名的公司				
選項 3	想買二手書籍、電影、音樂、遊戲的使用者可以在網路上與其它使用者交易				
選項 4	仲介資訊服務內容取得				

題目編碼	IF07026	題 型	單選	難易度	中
題 目	在下列哪一項獲利模式中，網站以提供內容或服務給使用者，並以此收取費用？				
答 案	2				
選項 1	廣告收益模式				
選項 2	訂閱收益模式				
選項 3	手續費收益模式				

選項 4	合作收益模式
------	--------

題目編碼	IF07027	題 型	複選	難易度	易
題 目	可以用來當行動電子商務的客戶端工具有下列哪些？				
答 案	123				
選項 1	手機				
選項 2	個人數位助理（PDA）				
選項 3	平板電腦				
選項 4	桌上型電腦				

題目編碼	IF07028	題 型	單選	難易度	中
題 目	以維基經濟學的觀點，短片分享網站 Youtube 屬於下列哪一項商業模式？				
答 案	1				
選項 1	消費者生產模式				
選項 2	創意仲介模式				
選項 3	同儕協作模式				
選項 4	平台開放模式				

題目編碼	IF07029	題 型	複選	難易度	中
題 目	關於維基百科（Wikipedia）的敘述，下列哪些錯誤？				
答 案	34				
選項 1	由一般大眾所編撰				
選項 2	內容更新快				
選項 3	內容百分之百正確				
選項 4	網頁顯示所有編撰者的歷次修改內容				

題目編碼	IF07030	題 型	單選	難易度	難
題 目	社交網路（Social Network）的基本假設是基於哈佛大學心理學家 Stanly Milgram 在 1960 年代所提出的下列哪一項理論？				
答 案	3				
選項 1	4 度分割理論（Four Degrees of Separation）				
選項 2	5 度分割理論（Five Degrees of Separation）				
選項 3	6 度分割理論（Six Degrees of Separation）				
選項 4	8 度分割理論（Eight Degrees of Separation）				

題目編碼	IF07031	題 型	單選	難易度	易
題 目	能經由不同的存提款設備將電子現金（Electronic Cash）儲存在智慧卡（Smart Card）、電子錢包（Electronic Wallet）這些不同設備中，此為電子現金（Electronic Cash）之下列哪一項特性？				
答 案	3				
選項 1	貨幣價值				
選項 2	相通性				

選項 3	可轉換性
選項 4	安全防偽性

題目編碼	IF07032	題 型	單選	難易度	易
題 目	下列哪一項是屬於智慧卡（Smart Card）的一種？				
答 案	1				
選項 1	EMV 現金卡				
選項 2	傳統信用卡				
選項 3	國民現金卡				
選項 4	預付卡				

題目編碼	IF07033	題 型	單選	難易度	中
題 目	可以提供銀行與企業間產生之電子商務金融交易的爭議處理服務，為下列哪一項服務？				
答 案	2				
選項 1	網路銀行之帳戶查詢				
選項 2	訊息存證服務				
選項 3	語音銀行				
選項 4	ATM				

題目編碼	IF07034	題 型	單選	難易度	中
題 目	經由電子資料交換作業授權金融機構處理資金（或付款）的轉移及調撥，稱之為下列哪一項？				
答 案	2				
選項 1	SET				
選項 2	EFT				
選項 3	EDI				
選項 4	VAN				

題目編碼	IF07035	題 型	單選	難易度	易
題 目	電子付款系統的整體架構中，主要組成份子為下列哪一項？				
答 案	1				
選項 1	買方顧客、賣方商店、收單銀行、認證管理機構				
選項 2	軟體零售商、公正第三者、收單銀行、信用機構				
選項 3	系統銷售者、收單銀行、信用機構、簽證管理機構				
選項 4	網際網路服務提供者（ISP）、賣方商店、公正第三者信用機構				

題目編碼	IF07036	題 型	單選	難易度	中
題 目	關於線上信用卡、電子現金（Electronic Cash）和數位支票（Digital Check）的比較，下列哪一項錯誤？				
答 案	2				
選項 1	線上信用卡的資金移轉是延後付款，而電子現金（Electronic Cash）是預先付款				
選項 2	線上信用卡的資金移轉是預先付款，而電子現金（Electronic Cash）是延後付款				
選項 3	電子現金（Electronic Cash）的使用對象條件不限制，而數位支票（Digital Check）的使用對				

	象條件是需要有銀行帳戶
選項 4	電子現金 (Electronic Cash) 有較高的匿名隱私保護，數位支票 (Digital Check) 則沒有匿名隱私的保護

題目編碼	IF07037	題 型	複選	難易度	難
題 目	下列哪些屬於伺服器端的電子錢包 (Server-Based Electronic Wallets) ?				
答 案	124				
選項 1	Microsoft Passport				
選項 2	Yodlee.com				
選項 3	Master Card Wallet				
選項 4	Cybercash InstaBuy				

題目編碼	IF07038	題 型	單選	難易度	易
題 目	由英國的 NatWest 銀行開發的 Mondex，它屬於下列哪一項電子付款機制？				
答 案	1				
選項 1	智慧卡 (Smart Card)				
選項 2	數位支票 (Digital Check)				
選項 3	數位信用卡 (Digital Credit Card)				
選項 4	數位累計結餘付款系統 (Digital Accumulating Balance Payment System)				

題目編碼	IF07039	題 型	複選	難易度	易
題 目	下列哪些為電子商務的收益模式？				
答 案	1234				
選項 1	訂閱收益模式				
選項 2	合作收益模式				
選項 3	手續費收益模式				
選項 4	廣告收益模式				

題目編碼	IF07040	題 型	複選	難易度	易
題 目	關於 Google.com 的敘述，下列哪些正確？				
答 案	1234				
選項 1	搜尋引擎為其專利技術				
選項 2	被 Yahoo 採用				
選項 3	Google 利用外界的條件來驗證搜尋結果是否相關				
選項 4	Google 曾經以授權專利技術獲利				

題目編碼	IF07041	題 型	複選	難易度	易
題 目	在電子商務付款系統中常見的付款方式有下列哪些？				
答 案	1234				
選項 1	信用卡				
選項 2	累計結餘				
選項 3	支票轉帳				

選項 4	現金
------	----

題目編碼	IF07042	題 型	單選	難易度	易
題 目	行動付款 (Mobile Payment) 透過網路來傳輸資料，其安全性需求不包括下列哪一項？				
答 案	3				
選項 1	認證 (Authentication)				
選項 2	機密性 (Confidentiality)				
選項 3	即時性 (Immediateness)				
選項 4	不可否認性 (Non-repudiation)				

題目編碼	IF07043	題 型	單選	難易度	易
題 目	行動付款 (Mobile Payment) 系統是屬於下列哪一項電子付款系統？				
答 案	3				
選項 1	現金式電子付款系統				
選項 2	預付式電子付款系統				
選項 3	後付式電子付款系統				
選項 4	協調式電子付款系統				

題目編碼	IF07044	題 型	單選	難易度	中
題 目	下列哪一項不是行動付款 (Mobile Payment) 的特色？				
答 案	3				
選項 1	快速方便				
選項 2	操作介面簡單				
選項 3	可找零				
選項 4	應用範圍廣				

題目編碼	IF07045	題 型	單選	難易度	易
題 目	關於儲值式付款的敘述，下列哪一項錯誤？				
答 案	2				
選項 1	目前國內普遍使用的電話卡、大眾運輸卡、加油卡都有此功能				
選項 2	目前儲值式付款只限預付或能夠儲值的單一用途預付卡				
選項 3	其中智慧卡 (Smart Card) 又稱 IC 卡，是指一張植入電腦晶片的卡片				
選項 4	以電子、磁力或光學形式儲存在消費者持有的科技電子裝置上				

題目編碼	IF07046	題 型	複選	難易度	易
題 目	智慧卡 (Smart Card) 的優點有下列哪些？				
答 案	1234				
選項 1	攜帶方便				
選項 2	使用安全				
選項 3	應用多元				
選項 4	具離線作業能力				



題目編碼	IF07047	題 型	複選	難易度	中
題 目	台北悠遊卡是一張整合多種繳費系統的 IC 智慧卡 (Smart Card)，它屬於下列哪些卡片類別？				
答 案	24				
選項 1	接觸式卡片				
選項 2	非接觸式卡片				
選項 3	插卡式卡片				
選項 4	感應式卡片				

題目編碼	IF07048	題 型	單選	難易度	易
題 目	物流關係到電子商務的成功與否，其關鍵原因在於下列哪一項？				
答 案	1				
選項 1	物流耗費大量人力				
選項 2	政府法令限制				
選項 3	人力流與金流相互牽制				
選項 4	物流沒有時間成本				

題目編碼	IF07049	題 型	單選	難易度	中
題 目	關於電子商務的興起，影響物流環境的改變，下列敘述哪一項錯誤？				
答 案	2				
選項 1	企業組織必須整合與協調其研發、製造、行銷等功能，使得其產品能在最短的時間內送至顧客手中				
選項 2	企業為快速因應電子商務物流的需求，須增加庫存的數量與規模				
選項 3	為解決全球化貿易的問題，需要一套完整詳盡的供應鏈管理方式				
選項 4	跨越組織間的疆界構成一策略聯盟體系，主動分享資訊，是物流及運籌管理的槓桿所在				

題目編碼	IF07050	題 型	單選	難易度	易
題 目	下列關於逆向物流 (Reverse Logistics) 的敘述，哪一項正確？				
答 案	3				
選項 1	商品以相反方式包裝後配送之物流				
選項 2	商品送至第三消費者之物流				
選項 3	商品送 (退) 回至廠商或供應商之物流				
選項 4	商品多次配送同一消費者之物流				

題目編碼	IF08001	題 型	複選	難易度	中
題 目	HTML5 提供下列哪些即時通訊支援？				
答 案	13				
選項 1	即時的 WebSocket 連線				
選項 2	運用 JavaScript 來執行多執行緒 (Multi-Thread) 運算				
選項 3	通知服務的提示訊息 (Notifications)，以便於有新訊息在作業系統桌面即顯示訊息				
選項 4	提供即時通訊 (Instant Message) 功能				

題目編碼	IF08002	題 型	單選	難易度	中
------	---------	-----	----	-----	---

題目	關於 JavaScript 在網頁設計所能發揮的功能，不包含下列哪一項？
答案	2
選項 1	用於相關元素事件（Event）驅動
選項 2	可以用來驗證且更正資料
選項 3	偵測拜訪者（Visitor）之瀏覽器
選項 4	建立會期（Session）與 Cookie 資訊

題目編碼	IF08003	題 型	複選	難易度	易
題目	下列哪些 MIME_type 可以放在<script>標籤裡面，以指定撰寫 JavaScript 程式？				
答案	14				
選項 1	type="text/ecmascript"				
選項 2	type="text/jscript"				
選項 3	type="text/vbscript"				
選項 4	type="text/javascript"				

題目編碼	IF08004	題 型	複選	難易度	難
題目	關於 W3C 之標準範疇，下列敘述哪些錯誤？				
答案	13				
選項 1	HTML5 包含具有硬體組態的功能				
選項 2	HTML5 並未加入圖片編修的工具				
選項 3	HTML5 允許使用者進行如瀏覽器之軟體選項修改				
選項 4	HTML5 暫不考量提供高階工作站來執行				

題目編碼	IF08005	題 型	單選	難易度	難
題目	在撰寫 JavaScript 時，在下列哪一種情況下使用 ForLoop 最適當？				
答案	3				
選項 1	只有知道停止條件 x>y				
選項 2	已知起始值 i=0，但迴圈結束是由條件 x>y 來判斷的				
選項 3	已知終值 n 與每次迴圈固定改變的值 i=i+2				
選項 4	至少要執行一次迴圈				

題目編碼	IF08006	題 型	單選	難易度	難
題目	如附圖所示程式碼，下列哪一項為其執行結果？				

	<pre> &lt;script type="text/javascript"&gt; var i=0; for(i=0;i&lt;=10;i++){     if (i%3==0){         continue;     }     document.write(i+"-"); } &lt;/script&gt; </pre>
答案	4
選項 1	0-3-6-9-
選項 2	0-1-2-4-5-7-8-10-
選項 3	1-3-4-5-9-
選項 4	1-2-4-5-7-8-10-

題目編碼	IF08007	題 型	單選	難易度	中
題 目	關於 JavaScript 的例外處理，下列敘述哪一項錯誤？				
答 案	2				
選項 1	將檢測 try{...}區塊內的程式碼是否有錯				
選項 2	將檢測 catch{...}區塊內的程式碼是否有錯				
選項 3	可以運用 throw 陳述來建立一個例外				
選項 4	throw 陳述之關鍵字必須小寫				

題目編碼	IF08008	題 型	單選	難易度	中
題 目	原本 HTML4 之前即已支援多媒體功能，HTML5 卻定義了新元素以嵌入標準的 Video/Movie 之特有<video>標籤，下列敘述哪一項為主要原因？				
答 案	2				
選項 1	為了因應所設計新的 Video 編碼格式				
選項 2	因為大部分所外掛的程式會因不同的瀏覽器而有不同運作方式				
選項 3	因為 HTML5 為結合 CSS3 來設定顯示的格式				
選項 4	為了支援更多的多媒體播放程式				

題目編碼	IF08009	題 型	單選	難易度	中
題 目	關於 HTML5 之改善說明，下列敘述哪一項錯誤？				
答 案	3				
選項 1	將多媒體之視訊（Video）和音訊（Audio）分開來定義				
選項 2	新加入了日期、URL、E-Mail 住址之表單輸入				
選項 3	定義了 canvas 元素以使用 HTML5 相關元素在網頁上畫圖				
選項 4	保留<b>和<i>標籤，但是代表的意思已有所不同，其他的<u>、<font>、<center>標籤則已被 CSS				

	所取代了
--	------

題目編碼	IF08010	題 型	複選	難易度	中
題 目	下列敘述哪些不是 HTML5 所創建的？				
答 案	34				
選項 1	本地端 (Local) 資料庫				
選項 2	支援整套 CSS3				
選項 3	使用框架 (Frame) 以區隔畫面				
選項 4	以選項 (Selection) 來設計 <option> 標籤				

題目編碼	IF08011	題 型	單選	難易度	中
題 目	<p>請參照附圖作答。</p> <p>如附圖所示程式碼，若網頁包含 JavaScript 程式碼，下列哪一項為其執行結果？</p> <pre> &lt;p id="A"&gt;Output A.&lt;/p&gt; &lt;p id="B"&gt;Output B.&lt;/p&gt; &lt;p id="C"&gt;Output C.&lt;/p&gt; &lt;script type="text/javascript"&gt;   document.getElementById("B").innerHTML="Change D."; &lt;/script&gt; </pre> <p>(A) Output A. Output B. Output C.</p> <p>(B) Output A. Change D. Output C.</p> <p>(C) Change D. Output B. Output C.</p> <p>(D) A. D. C.</p>				
答 案	2				
選項 1	選項 A				
選項 2	選項 B				
選項 3	選項 C				
選項 4	選項 D				

題目編碼	IF08012	題 型	單選	難易度	難
題 目	下列敘述哪一項是 HTML5 採用 SVG 與 Canvas 的理由？				

答案	4
選項 1	JPEG 與 GIF 格式的圖片，定義為圖素單一點的顏色所構成
選項 2	JPEG 格式的圖片只支援百萬畫色
選項 3	GIF 具有透明的顏色，並且可設定成簡單的動畫
選項 4	3 以運用程式來改變圖形顯示，例如：更新資料之後改變長條圖

題目編碼	IF08013	題 型	單選	難易度	中
題 目	撰寫網頁時，下列哪一種情況下不適合使用 CSS3？				
答 案	4				
選項 1	定義特定標籤格式時				
選項 2	為了使網站上的每一個網頁編排達到一致性				
選項 3	定義 SVG 圖像 (Image) 格式時				
選項 4	運用<iframe>標籤來切割畫面，使得每一個網頁畫面一致				

題目編碼	IF08014	題 型	單選	難易度	難
題 目	HTML5 新增了多媒體標籤，關於這項技術的支援程度，下列敘述哪一項錯誤？				
答 案	2				
選項 1	運用<embed>標籤，瀏覽器可以自行辨識所要瀏覽媒體的格式，進而使用相對應的解碼程式來解析圖像 (Image)、視訊 (Video)、以及音訊 (Audio)				
選項 2	每一種 Codec 都已包含於 HTML5 中，以簡化不同瀏覽器所使用				
選項 3	定義的多媒體格式，主要是依循 MIME 型態 (可由檔案延伸來判斷)				
選項 4	媒體來源主要定義在 src 屬性，它可以是任何 URL 以連結媒體來源				

題目編碼	IF08015	題 型	複選	難易度	中
題 目	關於 JavaScript，下列敘述哪些錯誤？				
答 案	34				
選項 1	JavaScript 採用物件導向程式設計				
選項 2	JavaScript 為直譯式程式語言				
選項 3	JavaScript 為伺服器端 (Server-Side) 執行之程式				
選項 4	JavaScript 之程式可以放置於<code></code>標籤之中來執行產生互動效果				

題目編碼	IF08016	題 型	單選	難易度	中
題 目	關於設計 HTML5 時，所需要注意的細節，下列敘述哪一項錯誤？				
答 案	1				
選項 1	HTML5 元素名稱有大小寫之區分，如：不允許<body></BODY>				
選項 2	HTML5 定義許多不同型態的標籤元素，如：描述表格的元素				
選項 3	HTML5 定義許多語意元素以描述內容的意思，並且可以瞭解它與其它內容的差異				
選項 4	HTML5 定義許多控制項的元素，以提供使用者輸入、選擇、以及控制來產生網頁互動				

題目編碼	IF08017	題 型	單選	難易度	中
題 目	關於 CSS3 所定義之區段碼，下列敘述哪一項錯誤？				
答 案	1				

選項 1	CSS 定義於 style.css 檔案中，必須使用標籤<style></style>
選項 2	CSS 描述可以放在標籤<head></head>之間
選項 3	CSS 描述可以放在標籤<body></body>之間
選項 4	可以用 CSS 來設定<a>標籤的格式

題目編碼	IF08018	題 型	複選	難易度	難
題 目	在撰寫 JavaScript 時，應注意下列哪些事項？				
答 案	24				
選項 1	每行的程式之後，與 HTML 格式相同，不需加";"作為結尾				
選項 2	JavaScript 的副程式可以寫在不同的<script></script>標籤中				
選項 3	每一副程式結束的"}"之後不需要加";"做為結尾				
選項 4	在 JavaScript 中的字串可以使用"+"來串接起來				

題目編碼	IF08019	題 型	複選	難易度	難
題 目	如附圖所示程式碼，關於 JavaScript 中使用物件屬性的存取方式，下列哪些指令的用法正確？ <pre>var myRec={     name:"Paul",     age:25 };</pre>				
答 案	12				
選項 1	myRec.name="Tommy";				
選項 2	myRec["age"]=26;				
選項 3	myRec[age]=27;				
選項 4	myRec[1]="Tommy";				

題目編碼	IF08020	題 型	單選	難易度	易
題 目	以 JavaScript 來設計陣列，下列敘述哪一項錯誤？				
答 案	2				
選項 1	以 new 來宣告一個陣列，例如：var A=new Array();				
選項 2	陣列中只能存取相同資料型態的資料				
選項 3	陣列中可以依需要自行給定序號來存放資料，例如：A[5]=100;				
選項 4	陣列中可以依需要自行給定字串來存放資料，例如：A["a"]=100;				

題目編碼	IF08021	題 型	單選	難易度	中
題 目	如附圖所示，為 JavaScript 程式碼片段，下列哪一項執行結果錯誤？				

	<pre>&lt;script type="text/javascript"&gt; var myTest1=2+2; var myTest2=2+"2"; var myTest3=(2).toString(2)+String(2); var myTest4="2"+2; .... &lt;/script&gt;</pre>
答案	3
選項 1	myTest1=4
選項 2	myTest2=22
選項 3	myTest3=22
選項 4	myTest4=22

題目編碼	IF08022	題 型	單選	難易度	易
題 目	HTML5 為了增進網站設計成效，新增了許多元素或屬性，下列敘述哪一項錯誤？				
答 案	1				
選項 1	新的 Input 元素去除了使用複雜的 CGI 資料傳送方式				
選項 2	額外的 m、time、meter、label 元素來改善所強調的特定網頁內容				
選項 3	新的 form 屬性用以新增新的虛擬工具來記錄資料				
選項 4	新的 header、section、article、以及 footer 元素以邏輯性地部署網站內容				

題目編碼	IF08023	題 型	單選	難易度	易
題 目	欲將 JavaScript 的陣列進行排序，可以選用下列哪一種陣列內建方法？				
答 案	4				
選項 1	shift()				
選項 2	push(<item>)				
選項 3	reverse()				
選項 4	sort()				

題目編碼	IF08024	題 型	單選	難易度	中
題 目	如附圖所示程式碼，分析該程式，要獲得變數 A 的答案為 true，則應該選用下列哪一項指令？				
	<pre>var myRec={ name:"Tommy", age:null, live_city:"Taipei"};</pre>				
答 案	1				
選項 1	var A=!myRec.age;				

選項 2	var A=myRec.name
選項 3	var A=myRec.name==myRec.live_city
選項 4	var A=myRec.name===myRec.live_city

題目編碼	IF08025	題 型	單選	難易度	難
題 目	在使用 JavaScript 變數時，下列敘述哪一項錯誤？				
答 案	1				
選項 1	字串宣告一定要使用陣列來宣告，例如：var str[]="This is a cat."				
選項 2	boolean 型態的值只有 true 和 false 兩個值				
選項 3	同時在多處宣告同一個變數名稱時，以宣告最近範圍內的變數為主，例如：相對於副程式之外的變數，以副程式內所宣告的變數為主				
選項 4	宣告整數或是浮點數不需要額外加註 int 與 float				

題目編碼	IF08026	題 型	單選	難易度	易
題 目	下列哪一項為 HTML5 元素的正確表示方式？				
答 案	2				
選項 1	<p><em>HTML5<strong>是目前最主流的</em>網頁標準</strong></p>				
選項 2	<p><em>HTML5</em>是目前最主流的<strong>網頁標準</strong></p>				
選項 3	<p><em>HTML5<strong>是目前最主流的</p>網頁標準</em></strong>				
選項 4	<p><strong>HTML5<em>是目前最主流的</strong>網頁標準</em></p>				

題目編碼	IF08027	題 型	單選	難易度	易
題 目	下列哪一種為 HTML5 用來隱藏元素的屬性？				
答 案	1				
選項 1	hidden="true"				
選項 2	visibility="false"				
選項 3	display="none"				
選項 4	hide="true"				

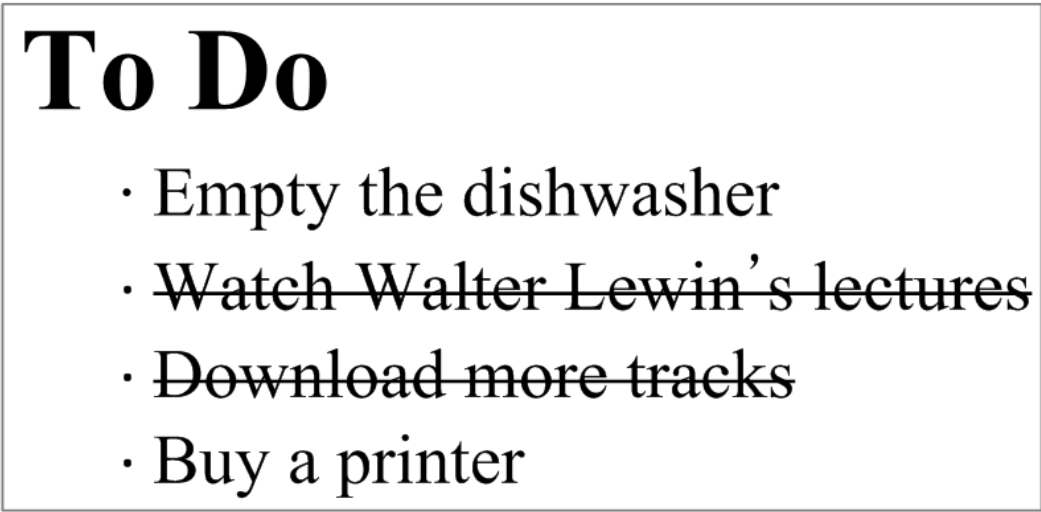
題目編碼	IF08028	題 型	單選	難易度	中
題 目	在 HTML 5 中，若要設定拖曳元素的拖放區域，需使用下列哪一種屬性？				
答 案	4				
選項 1	enabledrop				
選項 2	drop				
選項 3	dropable				
選項 4	dropzone				

題目編碼	IF08029	題 型	單選	難易度	中
題 目	在 HTML 5 中，要讓 div 元素中的內容可以編輯，需使用下列哪一種屬性？				
答 案	3				
選項 1	designable				
選項 2	editable				



選項 3	contenteditable
選項 4	contentmode

題目編碼	IF08030	題 型	單選	難易度	易
題 目	關於 HTML5 Doctype 的表示法，下列敘述哪一項正確？				
答 案	1				
選項 1	<!DOCTYPE html>				
選項 2	<!DOCTYPE html PUBLIC "-//W3C//DTD HTML 4.01 Transitional//EN" "http://www.w3.org/TR/html4/loose.dtd">				
選項 3	<!DOCTYPE html PUBLIC "-//W3C//DTD XHTML 1.0 Transitional//EN" "http://www.w3.org/TR/xhtml1/DTD/xhtml1-transitional.dtd">				
選項 4	<!DOCTYPE html PUBLIC "-//W3C//DTD XHTML 1.1//EN" "http://www.w3.org/TR/xhtml11/DTD/xhtml11.dtd">				

題目編碼	IF08031	題 型	單選	難易度	中
題 目	如附圖所示，若要表示需刪除的文章內容，用下列哪一種元素較適合？				
	 <p>The screenshot shows a 'To Do' list with the following items:</p> <ul style="list-style-type: none"> <li>• Empty the dishwasher</li> <li>• <del>Watch Walter Lewin's lectures</del></li> <li>• <del>Download more tracks</del></li> <li>• Buy a printer</li> </ul>				
答 案	1				
選項 1	del				
選項 2	ins				
選項 3	remove				
選項 4	line-through				

題目編碼	IF08032	題 型	單選	難易度	中
題 目	在 HTML 5 中，下列哪一種元素適合用來描述書的書名？				
答 案	2				
選項 1	strong				
選項 2	cite				
選項 3	dfn				
選項 4	abbr				

題目編碼	IF08033	題 型	單選	難易度	中
題 目	在 HTML 5 中，要顯示多行程式碼在網頁中時，使用下列哪一種方式表示較適合？				
答 案	2				
選項 1	<code>程式碼放在這裡</code>				
選項 2	<pre><code>程式碼放在這裡</code></pre>				
選項 3	<code><pre>程式碼放在這裡</pre></code>				
選項 4	<pre>程式碼放在這裡</pre>				

題目編碼	IF08034	題 型	單選	難易度	中
題 目	在 HTML 5 中，要顯示一行程式碼在網頁中時，可用下列哪一種元素表示較適合？				
答 案	1				
選項 1	code				
選項 2	dfn				
選項 3	pre				
選項 4	cite				

題目編碼	IF08035	題 型	單選	難易度	中
題 目	下列哪一種 HTML 5 元素，適合用來表示在文章中，另外加入的內容？				
答 案	2				
選項 1	insert				
選項 2	ins				
選項 3	append				
選項 4	del				

題目編碼	IF08036	題 型	單選	難易度	中
題 目	下列哪一種 HTML 5 元素，適合用來表示版權聲明、法律限制以及註解等時使用？				
答 案	4				
選項 1	cite				
選項 2	s				
選項 3	dfn				
選項 4	small				

題目編碼	IF08037	題 型	單選	難易度	中
題 目	下列哪一種 HTML 5 元素，適合用來表示引用了別人說過的話？				
答 案	2				
選項 1	s				
選項 2	q				
選項 3	u				
選項 4	i				

題目編碼	IF08038	題 型	單選	難易度	易
題 目	下列哪一種 HTML 5 元素，適合用來表示縮寫？				

答案	1
選項 1	abbr
選項 2	cite
選項 3	dfn
選項 4	s

題目編碼	IF08039	題 型	單選	難易度	易
題 目	如附圖所示，若要將文字表示成如圖 lle 及 Me 的上標字效果，應使用下列哪一種 HTML 5 元素？ <div style="border: 1px solid black; padding: 5px; width: fit-content; margin: 10px auto;">           The most beautiful women are M<sup>lle</sup> Gwendoline and M<sup>Me</sup> Denise.         </div>				
答案	2				
選項 1	sub				
選項 2	sup				
選項 3	kbd				
選項 4	code				

題目編碼	IF08040	題 型	單選	難易度	中
題 目	下列哪一種 HTML 5 元素，適合用來表示使用者需透過鍵盤輸入的內容？				
答案	1				
選項 1	kbd				
選項 2	samp				
選項 3	var				
選項 4	mark				

題目編碼	IF08041	題 型	單選	難易度	中
題 目	下列哪一種為 HTML5 廢除的元素，並建議由 CSS 來處理？				
答案	3				
選項 1	aside				
選項 2	small				
選項 3	big				
選項 4	nav				

題目編碼	IF08042	題 型	單選	難易度	易
題 目	下列哪一種 HTML 5 元素，適合用來表示文字中要突顯的部分？				
答案	4				
選項 1	abbr				
選項 2	cite				
選項 3	samp				
選項 4	mark				

題目編碼	IF08043	題 型	單選	難易度	難
------	---------	-----	----	-----	---

題目	下列哪一種 HTML 5 元素，可以用來改變文字的顯示方向？
答案	3
選項 1	ruby
選項 2	ins
選項 3	bdo
選項 4	kbd

題目編碼	IF08044	題型	單選	難易度	難
題目	下列哪一種 HTML 5 元素，適合用來表示日期時間？				
答案	1				
選項 1	time				
選項 2	date				
選項 3	datetime				
選項 4	day				

題目編碼	IF08045	題型	單選	難易度	難
題目	在 HTML 5 中，關於 article 元素，下列敘述哪一項錯誤？				
答案	2				
選項 1	article 元素通常擁有自己的標題				
選項 2	article 元素中，不能再包含 article 元素				
選項 3	article 元素，表示網頁中一段完整的文件				
選項 4	article 元素，表示網頁中可單獨使用的文件				

題目編碼	IF08046	題型	單選	難易度	中
題目	在 HTML 5 中，關於 section 元素，下列敘述哪一項錯誤？				
答案	4				
選項 1	section 元素不是一般的容器元素				
選項 2	section 元素包含內容及標題				
選項 3	想要將一段文章，分成好幾段可以使用 section 元素				
選項 4	若只是為了定義樣式，或只是為了用 JavaScript 製作一些動態效果，section 元素比 div 元素還適合使用				

題目編碼	IF08047	題型	單選	難易度	中
題目	下列哪一種 HTML 5 元素，適合表示在網頁中放置的廣告區塊？				
答案	3				
選項 1	article				
選項 2	p				
選項 3	aside				
選項 4	section				

題目編碼	IF08048	題型	單選	難易度	中
題目	在 HTML 5 中，關於 footer 元素，下列敘述哪一項錯誤？				

答案	1
選項 1	一個網頁中，只能有一個 footer 元素
選項 2	footer 元素，適合用來表示版權資訊
選項 3	footer 元素，可以加到 article 或 section 元素中
選項 4	footer 元素，適合用來表示相關的文章連結資訊

題目編碼	IF08049	題 型	單選	難易度	難
題 目	下列哪一種 HTML 5 元素，最適合用來表示與網頁聯絡資訊無關的住址資訊？				
答 案	3				
選項 1	address				
選項 2	section				
選項 3	p				
選項 4	footer				

題目編碼	IF08050	題 型	單選	難易度	中
題 目	使用滑鼠移到圖片上時，會顯示圖片的說明，需在 HTML 5 的 img 元素中，設定下列哪一種屬性？				
答 案	4				
選項 1	alt				
選項 2	figcaption				
選項 3	longdesc				
選項 4	title				

資料底端